

أولاً : الجغرافيا

- ١- موقع المكان سواء دولة أو قارة أو غيرها بالنسبة للأماكن الأخرى من بحار ومحيطات ودول مجاورة
- ٢- اكبر بحر مغلق في العالم ويقع في اسيا
- ٣- هي الدول التي تتكون من جزيرة أو أكثر أو قد تكون جزء من جزيرة
- ٤- محيط يقع بين الأمريكتين من جهة وإفريقيا وأوروبا من الجهة الأخرى
- ٥- محيط يقع شمال كل من اسيا وأوروبا وأمريكا الشمالية
- ٦- خليج يقع في جنوب شرق أمريكا الشمالية
- ٧- قارة تبدو أقرب لشكل المثلث
- ٨- قارة تتكون من مجموعة من الجزر
- ٩- بحر يفصل بين استراليا وجزر إندونيسيا
- ١٠- قارة متجمدة وغير مأهولة بالسكان في أقصى جنوب الكرة الأرضية
- ١١- محيط يحيط بقارة أنتاركتيكا من جميع الجهات
- ١٢- قارة تظهر فيها السلاسل الجبلية الضخمة
- ١٣- أعلى سلسلة جبال في العالم
- ١٤- أعلى قمة جبلية في العالم
- ١٥- أعلى هضاب العالم وتعرف بسقف العالم
- ١٦- هضبة توجد في وسط الهند
- ١٧- سهول تمتد على طول سواحل البحار والمحيطات التي تحيط بالقارات
- ١٨- سهول فيضية تجري فيها أنهار اوب وينسي ولينا
- ١٩- سهول يجري فيها نهر اليانجتي
- ٢٠- نهر يصب في المحيط الهندي
- ٢١- قارة يسود فيها المظهر الهضبي
- ٢٢- هضبة محصورة بين جبال أطلس
- ٢٣- جبال تقع في شمال غرب أفريقيا
- ٢٤- جبال تقع شرق أفريقيا
- ٢٥- جبال في أقصى الجنوب الشرقي من أفريقيا
- ٢٦- هضاب تعتبر منابع روافد نهر النيل
- ٢٧- هضبة يجري بها نهر الأورانج واللمبوبو
- ٢٨- سهل صحراوي يوجد في دولة ليبيا
- ٢٩- سهول صحراوية في جنوب قارة أفريقيا
- ٣٠- سلاسل جبلية تمتد في وسط قارة أوروبا
- ٣١- هضبة تشغل معظم دولة اسبانيا
- ٣٢- سهل فيضي يمتد من المحيط الأطلنطي حتى جبال الأورال في أوروبا وتوجد به المدن الأوروبية الرئيسية
- ٣٣- أطول نهر في أوروبا
- ٣٤- أعلى سلسلة جبال في أمريكا الشمالية

٣٥- سهول في جنوب أمريكا الشمالية حيث الأراضي الزراعية

٣٦- سلاسل جبلية مرتفعة في غرب أمريكا الجنوبية

٣٧- أكبر الهضاب وأكثرها ارتفاعاً في أمريكا الجنوبية

٣٨- أصغر هضاب أمريكا الجنوبية

٣٩- أوسع سهول فيضية في العالم

٤٠- جبال تقع شرق استراليا وتعرف بجبال الألب الأسترالية و لها شكل قوس

٤١- قارتين يتشابهها في التضاريس

٤٢- هضبة تشغل نصف مساحة استراليا

٤٣- خليج يصب فيه نهر مري ودارلنج

٤٤- منطقة محددة على سطح الأرض لها خصائصها المناخية من حيث الحرارة والرياح والمطر

٤٥- إقليم مناخي يتميز بارتفاع الحرارة وسقوط الأمطار طوال العام

٤٦- حشائش تتميز بالتدرج بالطول من الجنوب للشمال وتعتبر حديقة حيوان طبيعية

٤٧- إقليمان مناخيان يتشابهان في صيف غزير الأمطار وشتاء جاف

٤٨- إقليم يمتد على سواحل المغرب العربي والشام

٤٩- عواصف مدارية تهب على الاقليم الصيني

٥٠- غابات تنفض أوراقها شتاءً من شدة البرودة

٥١- غابات توجد في الاقليم اللورانسي ومن أشجارها الصنوبر والشربين

٥٢- إقليم مناخي يسود في المناطق القطبية المتجمدة مثل اناركتيكا

٥٣- اقليم مناخي يشغل القمم والمنحدرات العليا للمناطق الجبلية في العالم

٥٤- مجموعة بشرية تتشابه في صفاتها الجسمية الخارجية

٥٥- فترة تاريخية انتشر فيها الإنسان في قارات العالم المختلفة

٥٦- سلالة بشرية تبلغ حوالي ١٠٪ من سكان العالم

٥٧- قارة يتركز فيها ٧٥٪ من زواج العالم

٥٨- قارة أصبح الزوج يمثلون نسبة كبيرة من سكانها وحصلوا على جنسيات دولها

٥٩- سلالة بشرية تزيد عن ٤٠٪ من سكان العالم

٦٠- قارة تتركز فيها السلالة المغولية خاصة في الشرق

٦١- قسم من السلالة المغولية يعيشون في شمال كندا والاسكا

٦٢- هم السكان الأصليون للأمريكتين

٦٣- قسم من السلالة المغولية يعيشوا في سيبيريا

- ٦٤- السلالة التي تحتوي على حوالي نصف سكان العالم
- ٦٥- سلالة ينتمي لها سكان حوض البحر المتوسط من العرب وأوروبا
- ٦٦- هم سكان غرب ووسط أوروبا وينتموا للسلالة القوقازية
- ٦٧- هم سكان دول شمال أوروبا وينتموا للسلالة القوقازية
- ٦٨- إجراء دوري يتم فيه إحصاء السكان كل خمس أو عشر سنوات
- ٦٩- أكبر قارات العالم سكاناً ويسكنها ٦٠٪ من سكان العالم
- ٧٠- قارة خالية من السكان
- ٧١- منطقة ذات تربة جيدة وهي أكثر منطقة في العالم إزدحاماً بالسكان
- ٧٢- الهجرة التي تتم من خلال وسائل غير قانونية
- ٧٣- أكبر دولة سكانية في قارة أمريكا الشمالية
- ٧٤- هضبة يقل فيها السكان في جنوب أمريكا الجنوبية
- ٧٥- أكبر دولة سكاناً في قارة أمريكا الجنوبية
- ٧٦- دولة تمثل ٦٠٪ من سكان قارة استراليا
- ٧٧- علم دراسة السكان ونمو وتوزيع وتركيب السكان
- ٧٨- هي القارة الأعلى في معدل المواليد
- ٧٩- هي القارة الأقل في معدل المواليد و الأعلى في معدل الوفيات
- ٨٠- هي القارة الأقل في معدل الوفيات
- ٨١- قارة معدل الزيادة الطبيعية فيها صفر
- ٨٢- هو نتاج الفرق بين معدلات المواليد والوفيات
- ٨٣- هو دراسة عدد ونسبة كل مجموعة من سكان المنطقة وفقاً لفئات عمرية محددة
- ٨٤- القارة الأعلى في دخل الفرد
- ٨٥- القارة الأقل في دخل الفرد
- ٨٦- عدد الأفراد في سن العمل والقادرين على العمل والذين يعملون فعلياً أو يبحثون عن عمل

ثانياً : التاريخ

- ١- دولة سيطرت على مصر والشام والحجاز وتعرضت لأزمات سياسية واقتصادية أواخر القرن الـ١٥م
- ٢- معركة تحطم فيها الأسطول المملوكي عام ١٥٠٩م
- ٣- طريق يمر حول افريقيا اكتشفه البرتغاليين ١٤٩٨م أثر على تدهور دولة المماليك اقتصادياً
- ٤- دولة مركزها إيران حالياً ذات مذهب شيعي اصطدم معها سليم الأول في غزواته نحو الشرق
- ٥- إمارة مملوكية استولى عليها سليم الأول في بداية احتكاكه بالدولة المملوكية
- ٦- معركة سيطر بها العثمانيين على بلاد الشام ١٥١٦م
- ٧- معركة حاسمة أدت إلى نهاية دولة المماليك وأصبحت مصر بعدها ولاية عثمانية ١٥١٧م

٨- نظام كانت فيه الأرض ملكاً للسلطان العثماني وتتم زراعتها عن طريق تكليف الفلاحين بذلك دون أن يكون لهم حق التصرف فيها

٩- نظام تم تطبيقه مع ضعف الدولة العثمانية في منتصف القرن ال١٧م

١٠- ميناء خرجت منه الحملة الفرنسية نحو مصر سراً

١١- اول المدن المصرية التي وصلت لها الحملة الفرنسية

١٢- معركة بحرية تحطمت فيها الأسطول الفرنسي علي يد الأسطول الانجليزي ١٧٩٨م

١٣- رفض الشعوب للاحتلال ومظاهرة، والدفاع عن البلاد بكل الوسائل

١٤- ثورة تم فيها قتل حاكم القاهرة الفرنسي

١٥- تحالفت معهما الدولة العثمانية لإخراج الفرنسيين من مصر

١٦- مذبحة قام بها نابليون أثناء حملته على الشام أعدم فيها جميع أفراد حاميتها

١٧- معركة انتصر فيها نابليون على قوات الأسطول العثماني

١٨- اتفاقية عقدها كليبر مع الدولة العثمانية ١٨٠٠م

١٩- دولة رفضت اتفاقية العريش وطالبت باستسلام الجيش الفرنسي

٢٠- المنطقة التي اشتعلت فيها ثورة القاهرة الثانية

٢١- رحيل قوات الاحتلال عن البلد المحتل

٢٢- مكان اجتمع فيه زعماء الشعب من العلماء ونقباء الطوائف وقرروا عزل خورشيد باشا وتعيين محمد علي بدلاً منه

٢٣- دولة كانت وراء محاولة نقل محمد علي من مصر ١٨٠٦م

٢٤- منطقة كان السلطان العثماني سينقل محمد علي والياً عليها بدلاً من مصر ١٨٠٦م

٢٥- حملة ارسلتها انجلترا لخلع محمد علي وتثبيت تابعها محمد بك الألفي

٢٦- مناطق هُزمت حملة فريزر فيها بمصر

٢٧- أدرك محمد علي قوتهم والقيود التي فرضوها عليه عند توليه الحكم

٢٨- رأى محمد علي أنهم مصدر للقلق والفوضى وتخلص منهم في مذبحة القلعة ١٨١١م

٢٩- مذبحة قام فيها محمد علي بالتخلص من المماليك ١٨١١م

٣٠- نظام تقوم فيه الحكومة ممثلة في محمد علي بتحديد نوع الغلات التي تزرع ونوع المصنوعات التي تنتج وتحديد أثمان شرائها وأثمان بيعها في السوق

٣١- نظام زراعي ظالم من عهد العثمانيين، قام محمد علي بإلغائه

٣٢- طبقة ظهرت كقوة اجتماعية مستقرة في عهد محمد علي

٣٣- طبقة تدهورت نتيجة سياسة محمد علي الاقتصادية

٣٤- قوة سياسية انتهت نفوذها كهيئة حاكمة في عهد محمد علي

٣٥- حروب كانت بناءً على طلب السلطان العثماني

٣٦- حروب كانت بناءً على رغبة محمد علي

٣٧- موقعة تحطم فيها الاسطول المصري ١٨٢٧م

٣٨- جزيرة ضمها محمد علي لمصر في أعقاب حروب اليونان

٣٩- حروب تواجه فيها محمد علي مع الدولة العثمانية

٤٠- معاهدة بين الدول الأوروبية والسلطان العثماني قضت على أحلام محمد علي وتوسعته

٤١- لائحة أصدرها سعيد باشا بموجبها أصبح للفلاح حق توريث الأرض الزراعية

٤٢- مشروع كانت شروط امتيازه مجحفة لمصر ولصالح الشركة الفرنسية

٤٣- يعد بداية تاريخ المؤسسات النيابية في مصر الحديثة

٤٤- أول دستور في مصر أنشأه الخديو اسماعيل بهدف إقامة حياة دستورية سليمة

٤٥- محاكم تنظر في الجرائم التي يرتكبها الرعايا الأجانب ضد المصريين والحكومة المصرية

٤٦- محاكم أنشأها الخديو اسماعيل للحد من مساوئ المحاكم القنصلية وللفضل في المنازعات المدنية والعقارية

بين المصريين والأجانب وكان قضائها من المصريين والأجانب ويرأسها أجنبي

٤٧- كان بمثابة خزانة فرعية للخزانة المصرية تتولى تسليم المبالغ المخصصة للديون من المصالح المختلفة،

يتولى إدارته مندوبون أجانب

٤٨- مراقبين اجنبيين على المالية المصرية أحدهما بريطاني للإيرادات، والثاني فرنسي للمصروفات

٤٩- طالبت بتنازل الخديو عن سلطته المطلقة لوزارة مسنولة والتنازل عن أطيانه وأطيان عائلته تحت المراقبة الدولية

٥٠- أصدرها الخديو اسماعيل ورأسها نوبار باشا وكان بها وزيران اجنبيان

٥١- مظاهرة قام بها عرابي وزملائه والوطنيين في ساحة عابدين ونتج عنها إقالة وزارة رياض باشا وتعيين

شريف باشا مكانه

٥٢- أبدت فيها بريطانيا وفرنسا رغبتهما في حل مجلس النواب وتأييد الخديو توفيق ضد الحركة الوطنية

٥٣- لقب يطلق على الوزارة التي شكلها محمود سامي البارودي وأسند فيها وزارتا الجهادية والبحرية لأحمد عرابي

٥٤- طالبت فيها بريطانيا وفرنسا بإقالة البارودي وإبعاد عرابي وزملائه خارج البلاد

٥٥- الاستيلاء على أرض الغير بالقوة

٥٦- مؤتمر قرر أعضائه أن ترسل تركيا قوة لإعادة الأمن والنظام في مصر وعدم تدخل الدول الأجنبية منفردة في مصر

٥٧- معركة دارت بين الجيش البريطاني والقوات المصرية واستطاع العراقيون صد هجمات الانجليز فيها

٥٨- مدينة اتخذها الإنجليز قاعدة لتقدمهم داخل البلاد

٥٩- اتفاق عام ١٩٠٤م بين انجلترا وفرنسا نص على انفراد انجلترا بحكم مصر مقابل انفراد فرنسا بحكم مراكش

٦٠- حادثة استغلها مصطفى كامل للتنديد بالاحتلال البريطاني وأدت لاستقالة اللورد كرومر

٦١- رفضت طلب الشركة الفرنسية بمد امتياز قناة السويس ٤٠ سنة إضافية نتيجة إجبار محمد فريد والرأي العام المصري لهم لذلك

٦٢- المكان الذي تم نفي سعد زغلول وزملاءه لأول مرة في ١٩١٩م

٦٣- مؤتمر اعترفت الدول فيه بالحماية البريطانية على مصر

٦٤- خضوع مصر المطلق للاحتلال البريطاني

٦٥- أرسلتها انجلترا إلى مصر لإقناع الشعب المصري بقبول الحماية البريطانية

٦٦- مكان النفي الثاني لسعد زغلول

٦٧- تصريح اعترفت فيه انجلترا بأن مصر دولة مستقلة وانهاء حمايتها على البلاد وألغت الأحكام العرفية مع تحفظات أربعة

٦٨- كان خطوة في تقرير مبدأ أن الأمة مصدر السلطات ووضع نهاية الحكم المطلق

٦٩- لقب يطلق على الوزارة التي شكلها سعد زغلول ١٩٢٤م

٧٠- دستور أعطى للملك مزيد من السلطات، وأهدر سلطة الأمة وحقوقها وثار الشعب لإلغائه

٧١- ترتب عليها انتهاء احتلال مصر عسكرياً وانضمام مصر لعصبة الأمم

٧٢- مؤتمر تم فيه إلغاء الامتيازات الأجنبية ١٩٣٧م

٧٣- اليوم الذي حاصرت فيه الدبابات البريطانية قصر عابدين وهددت بخلع الملك فاروق إذا لم يشكل حكومة جديدة برئاسة مصطفى النحاس باشا

٧٤- اليوم الذي استشهد فيه الكثير من جنود الشرطة المصريين لرفضهم تسليم أسلحتهم لقوات الاحتلال الإنجليزي

٧٥- كان إيذاناً بنهاية النظام الملكي وقيام ثورة يوليو ١٩٥٢م

السؤال الثاني : اكمل

أولاً : الجغرافيا

١- تعتبر آسيا وأوروبا وأفريقيا قارات العالم

٢- تعتبر أمريكا الشمالية والجنوبية وأستراليا وانتاركتيكا قارات العالم

- ٣- اكبر قارات العالم هي و اكبر المحيطات هو
- ٤- تخترق دائرة الاستواء قارة آسيا في جهة
- ٥- تفصل جبال اسيا عن أوروبا
- ٦- يفصل قارة اسيا عن افريقيا و و
- ٧- يفصل قارة أفريقيا عن قارة اوروبا
- ٨- يحد قارة أفريقيا من الشرق و ، ومن الغرب
- ٩- تمر في قارة أمريكا الشمالية دائرتين عرض رئيسيتين هما و
- ١٠- تقترب قارة أمريكا الشمالية من قارة آسيا عند مضيق
- ١١- يحد أستراليا من الغرب والجنوب المحيط
- ١٢- تقع جبال في العراق وإيران
- ١٣- جبال هي الجبال التي في شرق آسيا
- ١٤- من السهول الساحلية في آسيا سهول بحر ١٥- تجري أنهار اوب وينسي ولينا في سهول
- ١٦- من السهول التي في شرق اسيا سهول و سهول
- ١٧- يصب نهر الكونغو في المحيط
- ١٨- يصب نهر النيجر في خليج
- ١٩- يعتبر أطول أنهار العالم ويصب في
- ٢٠- يصب نهر نلسن في خليج ٢١- يصب نهر سانت لورانس في خليج
- ٢٢- تتركز الهضاب في قارة أمريكا الجنوبية في جهة
- ٢٣- أنهار بارانا وباراجواي ولابلاتا والأمزون والأورينكو جميعهم يصبوا في المحيط
- ٢٤- يصب نهر مري ودارلنج في
- ٢٥- توجد السهول الصحراوية بأستراليا في و
- ٢٦- العوامل المؤثرة في مناخ العالم هي و و
- ٢٧- تكثر الزواحف والطيور والحيوانات المتسلقة في إقليم مناخ
- ٢٨- تنتمي الهند وجزيرة مدغشقر وهضبة اثيوبيا لإقليم مناخ
- ٢٩- تعرف حشائش الاستبس في أمريكا الشمالية بحشائش
- ٣٠- تزيد الأمطار في إقليم مناخ غرب أوروبا في فصلي و
- ٣١- من أهم أشجار الغابات النفضية هي أشجار ٣٢- تنمو الطحالب في إقليم مناخ
- ٣٣- تنقسم السلالات البشرية إلى السلالة و و

٣٤- تتميز السلالة بالبشرة الداكنة والأنف العريض والشعر المجعد والشفاه الغليظة

٣٥- تتركز السلالة الزنجية في قارة خاصة قرب دائرة الاستواء بجانب بعض الأماكن الأخرى من العالم مثل و

٣٦- من أقسام السلالة الزنجية و و و

٣٧- تتميز السلالة بالبشرة الصفراء والعيون المنحرفة والشعر المسترسل

٣٨- من أقسام السلالة المغولية و و

٣٩- تتميز السلالة بالبشرة البيضاء الوردية والشعر المتموج والشفاه الرفيعة

٤٠- تنتشر السلالة في كل قارات العالم ومنها شمال الصحراء الكبرى من قارة أفريقيا

٤١- تم تقسيم السلالات البشرية على أسس

٤٢- يتركز السكان بآسيا في السهول الفيضية حيث تجري الأنهار مثل نهر في الصين و في الهند

٤٣- من المناطق الصحراوية قليلة السكان في آسيا

٤٤- يوجد في آسيا أكبر دولتين في العالم من حيث السكان وهما و

٤٥- من مناطق تركيز السكان في أفريقيا السهول الفيضية الخصبة مثل سهول في مصر والسودان

٤٦- من السهول الساحلية التي يتركز فيها السكان في أفريقيا سواحل وسواحل

٤٧- يقل السكان في المناطق الصحراوية في أفريقيا مثل الصحراء و صحراء

٤٨- يتركز سكان أوروبا بدول و وأوروبا وبالمدن الصناعية الضخمة مثل و

٤٩- من مناطق تركيز السكان في أوروبا السهول الزراعية الخصبة مثل

٥٠- يتركز سكان كندا في المدن الكبرى مثل ويتركز سكان المكسيك في العاصمة

٥١- يقل سكان أمريكا الشمالية في دول مثل هندوراس وكوستاريكا

٥٢- سهول لابلاتا تعرف في الأرجنتين بسهول

٥٣- تقل في الدول معدلات المواليد والوفيات وبالتالي تقل معدلات الزيادة الطبيعية

٥٤- معدل الزيادة الطبيعية في مصر ٥٥- السكان في فئة غير منتجين

٥٦- السكان في الفئة المتوسطة "البالغون" أعلى نسب لهم دول وأقل نسب في

٥٧- من مناطق الدول المتقدمة في نسبة المتعلمين و و و

٥٨- معظم دول أوروبا وروسيا وأمريكا الشمالية دول ذات رعاية طبية

٥٩- تعتبر مصر من الدول ذات الرعاية الطبية ٦٠- معظم دول أفريقيا دول ذات رعاية طبية

٦١- الدول الصناعية مثل غرب أوروبا وأمريكا الشمالية دول ذات دخل اقتصادي

- ٦٢- تعتمد الدول ذات الدخل فوق المتوسط على الأنشطة التقليدية والتصنيع النامي مثل و
- ٦٣- تعتبر مصر و الصين من الدول ذات المستوى الاقتصادي
- ٦٤- الدول المعتمدة على ذات مستوى اقتصادي منخفض مثل معظم دول
- ٦٥- تزيد نسبة قوة العمل في مجال الزراعة في الدول النامية في أفريقيا مثل وآسيا مثل
- ٦٦- تقل نسبة قوة العمل في مجال الزراعة في الدول
- ٦٧- تزيد نسبة العاملين في والخدمات المرتبطة بها في الدول المتقدمة عكس الدول الفقيرة يعمل سكانها في و و

ثانياً : التاريخ

- ١- مع بداية القرن السادس عشر الميلادي اتجه السلطان في غزواته نحو الشرق
- ٢- كانت الدولة في إيران بينما الدولة في الشام ومصر والحجاز
- ٣- دخل سليم الأول عاصمة الصفويين بعد انتصاره عليهم في معركة ١٥١٤م
- ٤- بادر السلطان العثماني سليم الأول بالاستيلاء على إمارة المملوكية في بداية احتكاكه بدولة المماليك
- ٥- استولى العثمانيين على بلاد الشام بعد معركة ١٥١٦م
- ٦- انتهت دولة المماليك وأصبحت مصر ولاية عثمانية بعد معركة ١٥١٧م
- ٧- خضعت مصر للحكم العثماني نحو قرون متتالية
- ٨- استطاع نائب علي بك الكبير غزو الشام ودخول دمشق لكنه انحاز للسلطان العثماني
- ٩- بعد فشل حركة عادت مصر ولاية عثمانية تحت حكم شيخ البلد محمد بك ابو الذهب
- ١٠- تركزت فئة الحكام في العصر العثماني في مصر من و
- ١١- الطبقة الوسطى في فئة المحكومين في عهد العثمانيين هي و و
- ١٢- كان أكثرية الشعب المصري في الطبقة مثل الفلاحين وصغار الحرفيين وعانوا من الفقر وتفشي الأمراض
- ١٣- تعد الحملة الفرنسية على مصر والشام جزءاً من التنافس الاستعماري بين و على المستعمرات
- ١٤- أبحرت الحملة من ميناء سرّاً
- ١٥- من أسباب الحملة الفرنسية قطع الطريق بين إنجلترا ومستعمراتها في
- ١٦- هُزمت قوات من الحملة الفرنسية في شبراخيت وامبابة
- ١٧- دخل نابليون بعد أن أمن العلماء والمشايخ على الأرواح والأموال
- ١٨- اغرق الأسطول الانجليزي بقيادة الأسطول الفرنسي في معركة أبو قير البحرية
- ١٩- توقفت حركة التجارة الخارجية بالنسبة لمصر نتيجة معركة

- ٢٠- إبتع أهالي حرب المناوشات والمعارك المتفرقة ضد الحملة الفرنسية
- ٢١- كان مقر ثورة القاهرة الأولى أكتوبر ١٧٩٨م
- ٢٢- ترك نابليون قيادة الحملة الفرنسية لنائبه أثناء معركة أبي قير البرية
- ٢٣- كانت ثورة القاهرة الثانية بقيادة نقيب الأشراف
- ٢٤- اشتعلت ثورة القاهرة الثانية في حي
- ٢٥- عقب رحيل الحملة الفرنسية عن مصر تصارع و و على السيطرة على مصر
- ٢٦- بعد تنازع المماليك والعثمانيين وانجلترا على الاستئثار بحكم مصر استمرت مصر ولاية تابعة
- ٢٧- أراد محمد علي بعد التخلص من العقبات التي واجهته أن يجعل مصر على مصاف الدول
- ٢٨- أراد محمد علي بناء دولة حديثة على الطراز
- ٢٩- نظم محمد علي الاقتصاد المصري في الزراعة والصناعة والتجارة على أساس
- ٣٠- أنشأ محمد علي مشاريع زراعية مثل و
- ٣١- قام محمد علي بتطهير من القرصنة
- ٣٢- أنشأ محمد علي المطابع الأميرية في و أصدر صحيفة
- ٣٣- أسس محمد علي ترسانة لصناعة السفن في ثم
- ٣٤- أنشأ محمد علي ترسانة لتصنيع الأسلحة في
- ٣٥- قسم محمد علي مصر إلي مديريات
- ٣٦- أنشأ محمد علي الديوان و مجلس
- ٣٧- عرفت حروب محمد علي بالجزيرة العربية بإسم الحروب
- ٣٨- وصل النفوذ المصري إلى بلاد الشام وأهالي الفرات في حروب
- ٣٩- صدر فرمان من السلطان العثماني عام ١٨٤١م بولاية "محمد علي" على
- ٤٠- تولى سعيد باشا الحكم عقب وفاة
- ٤١- مع قناة السويس تم حفر ترعة للمياه العذبة هي ترعة
- ٤٢- اشترطت الشركة الفرنسية لصحة الامتياز الخاص بقناة السويس أن يصدق عليه
- ٤٣- حفر الخديو اسماعيل العديد من الترعة مثل الترعة
- ٤٤- توسع الخديو اسماعيل في إنشاء مصانع السكر بالوجه
- ٤٥- كانت وزارة باشا بها وزيران اجنبيان أحدهما بريطاني للمالية والآخر فرنسي للأشغال

٤٦- اضطر باشا للاستقالة لإصرار مجلس النواب على مناقشة الميزانية

٤٧- تأمر الضباط لاغتيال عرابي والضباط الوطنيين للإطاحة بوزارة الثورة

٤٨- قرر العرابيون الانسحاب من مدينة الإسكندرية إلى لمواجهة زحف الجيش البريطاني

٤٩- تم نفي العرابيين إلى جزيرة بالهند ٥٠- استمر الاحتلال الإنجليزي لأكثر من عاماً

٥١- ظهرت طبقة من كبار استفادت من السياسة الاقتصادية للاحتلال البريطاني

٥٢- أسس مصطفى كامل جريدة و الحزب

٥٣- دعا لرفض اتفاقية الحكم الثنائي في السودان

٥٤- تولى رئاسة الحزب الوطني بعد وفاة مصطفى كامل و دعا لجعل التعليم إلزامياً وبالمجان

٥٥- امتدت ثورة ١٩١٩م من إلى كافة المدن والأقاليم

٥٦- تفاوض وزير المستعمرات البريطاني مع الوفد المصري وانتهى بمشروع معاهدة رفضها المصريون

٥٧- هو وزير خارجية بريطانيا الذي تفاوض مع رئيس وزراء مصر حول وضع دستور

يحقق أماني المصريين وفشلت المفاوضات بينهم

٥٨- حصل حزب على الأغلبية في الانتخابات التي أجريت طبقاً لدستور ١٩٢٣م وشكل سعد زغلول

أول وزارة برلمانية عرفت بوزارة

السؤال الثالث : إلى من تنسب الأعمال الآتية

١- اتجه بغزواته نحو الشرق في بداية القرن السادس عشر

٢- تمكن من هزيمة الصفويين في موقعة جالديران ١٥١٤م ودخوله العاصمة تبريز

٣- سلطان مملوكي واجه العثمانيين في موقعة مرج دابق ١٥١٦م

٤- سلطان مملوكي واجه العثمانيين في موقعة الريدانية ١٥١٧م

٥- أعلن أنه الحامي الوحيد للحرمين الشريفين عقب انتصاراته على المماليك ودخول مصر

٦- صار الحاكم الفعلي لمصر عام ١٧٦٨م وأخضع الحجاز لنفوذه وتمرد على الدولة العثمانية

٧- حاكم جنوب الشام الذي تحالف مع علي بك الكبير

٨- نائب علي بك الكبير الذي خانته وانحاز للسلطان العثماني

٩- وجه تقارير تفيد بسوء الأوضاع في مصر وحث حكومة الثورة الفرنسية على إرسال حملة عسكرية على مصر

١٠- هو قائد الحملة الفرنسية على مصر ١٧٩٨م

١١- حاكم الإسكندرية الذي واجه الحملة الفرنسية وأعدم رمياً بالرصاص

١٢- واجهوا الحملة الفرنسية في شبراخيت وامبابة ١٣- فر إلي الصعيد بعد معركة إمبابة

١٤- هرب إلى بلاد الشام بصحبة الوالي العثماني بعد معركة إمبابية

١٥- قائد الاسطول الانجليزي في معركة أبو قير البحرية ١٧٩٨م

١٦- نجحوا في مقاومة الحملة الفرنسية وانهائها وانسحاب الحملة دون اخضاعهم

١٧- قاد الحملة الفرنسية على الشام ١٧٩٩م

١٨- قاد عكا لمقاومة الحملة الفرنسية واضطروهم للتراجع لمصر

١٩- تولى قيادة الحملة الفرنسية بعد رحيل نابليون لفرنسا و كان من أنصار الجلاء عن مصر

٢٠- قاد ثورة القاهرة الثانية ضد الحملة الفرنسية

٢١- أحد طلاب الأزهر الذي قام بقتل كليبر

٢٢- قائد فرنسي كان ينوي البقاء في مصر وتحويلها إلى مستعمرة فرنسية كبرى

٢٣- أنشأ الديوان العام ودواوين الأقاليم وديوان القاهرة

٢٤- اقترح تعيين خورشيد باشا والياً على مصر

٢٥- اجتمع زعماء الشعب في دار المحكمة من أجل عزله

٢٦- أصدر فرماناً يتضمن عزل خورشيد باشا وتعيين محمد علي والياً على مصر ١٨٠٥م

٢٧- مملوكي سعت بريطانيا لتوليها مصر بدلاً من محمد علي

٢٨- ارسل إسطولاً يحمل فرماناً بنقل محمد علي إلى ولاية سالونيك في مقدونيا

٢٩- قام محمد علي بخلعه من نقابة الأشراف ونفيه إلى دمياط

٣٠- طبق نظام الاحتكار في كافة المجالات و ألغى نظام الالتزام ووزع الأراضي على الفلاحين

٣١- أحد ضباط جيش نابليون، وكان ممن استقدمهم محمد علي للعمل في المدارس العسكرية

٣٢- أثبتوا كفاءتهم في التدريب وإطاعة الأوامر العسكرية وفي ميادين القتال

٣٣- من أبرز أعضاء البعثات العلمية التي أرسلها محمد علي لأوروبا وأسهما بعد عودتهم في استمرار النهضة التعليمية

٣٤- أصدر فرمانين ١٨٤١م لوراثة مصر لأكبر أبناء محمد علي الذكور وولاية "محمد علي" على السودان

٣٥- توقفت في عهده حركة النهضة التي قام بها محمد علي

٣٦- بدأ إنشاء أول خط حديدي القاهرة والإسكندرية وأصلح الطريق البري بين القاهرة والسويس

٣٧- أصدر اللائحة السعيدية التي أصلحت أحوال الفلاحين

٣٨- أتم الخط الحديدي بين القاهرة والإسكندرية، وأنشأ خط بين القاهرة والسويس

٣٩- مد الخطوط التلغرافية على الطريقة الحديثة بين القاهرة والإسكندرية والسويس

٤٠- جعل مدة الخدمة العسكرية سنة واحدة إجبارية للجميع واعتنى بالترسانة الحربية وفتح باب الترقى أمام الضباط المصريين

أ/ غادة النوبي

- ٤١- حاكم ألغى ديوان المدارس وشجع البعثات الأجنبية في مصر على فتح مدارس لها
- ٤٢- حاكم على مصر شهد عهده بدايات التدخل الاجنبي في شئون مصر وبدايات الأزمة المالية
- ٤٣- منحه سعيد باشا عقد امتياز قناة السويس
- ٤٤- يمثل عهده فترة من ازهى الفترات وأكثرها تقدماً في تاريخ مصر الحديث كما تعرضت البلاد في عهده لتدخل اجنبي بسبب أخطائه في الأمور المالية
- ٤٥- أعاد فتح ديوان المدارس وأنشأ دار الكتب ودار الرصد بالعباسية ومصلحة الإحصاء والمساحة والجمعية الجغرافية ومصلحة البريد
- ٤٦- أنشأ دار الأوبرا و قصر عابدين ومد الخطوط التلغرافية بين مختلف محافظات مصر
- ٤٧- أنشأ مجلس شورى النواب والوزارة المسئولة واللجنة الأساسية
- ٤٨- وجه حملات حربية إلى الاقاليم الاستوائية في افريقيا لمنع تجارة الرقيق والتوسع
- ٤٩- دولة منحت رعايا الدول الأوروبية العديد من الامتيازات الأجنبية تشجيعاً لهم على الإقامة والتجارة مع تعهدها بالمحافظة على أموالهم وأرواحهم
- ٥٠- أنشأ المحاكم المختلطة وصندوق الدين والمراقبة الثنائية والوزارة المختلطة
- ٥١- رئيس الوزارة المسئولة أو المختلطة التي عينها الخديو اسماعيل وكان بها وزراء أجنب
- ٥٢- أصدر فرمان بخلع الخديو اسماعيل وتولية ابنه توفيق على مصر
- ٥٣- أعاد نظام المراقبة الثنائية ورفض اللانحة الأساسية لمجلس النواب ووضع نفسه تحت حماية انجلترا وفرنسا
- ٥٤- ناظر جهادية كان يضطهد الضباط المصريين ويعطل ترقيتهم وتم عزله بعد حادثة قصر النيل
- ٥٥- رئيس الوزراء الذي تم إقالته بناءً على مظاهرة عابدين لسوء الأحوال الاقتصادية في عهده
- ٥٦- عرض اللانحة الأساسية على مجلس النواب ولم تتضمن حق المجلس في مناقشة الميزانية لتجنب الاصطدام بالدول الأوروبية
- ٥٧- كلفه الخديو توفيق بتأليف وزارة جديدة يونه ١٨٨٢م بعد أن ظلت البلاد بدون وزارة مدة أسبوعين
- ٥٨- أمر بعزل عرابي من وزارة الحربية وحذر المصريين من الانضمام له
- ٥٩- عقد مجلس عسكري وأجمع على ضرورة تعطيل الملاحة في قناة السويس وفقاً للاتفاقات الدولية
- ٦٠- أكد لعرابي حيادية القناة وتواطى مع الإنجليز ضد عرابي
- ٦١- أقتعه الإنجليز بإصدار منشوراً بإعلان عصيان عرابي
- ٦٢- استشهد هو ومعظم رجاله على يد القوات البريطانية في معركة التل الكبير بعد قتال شديد
- ٦٣- خطيب الثورة الذي لم تستطع الحكومة أن تصل إليه عند اعتقال زعماء الثورة العرابية
- ٦٤- أصبحت السلطة الفعلية في مصر في يديه وانحصرت سلطة الخديو في التصديق على قرارات سلطات الاحتلال

٦٥- قاد الحركة الوطنية في أواخر القرن ١٩ ويعتبر باعث الحركة الوطنية

٦٦- أسس جريدة اللواء والحزب الوطني وطالب بإنشاء الجامعة المصرية والدستور

٦٧- معتمد بريطاني استقال عقب تنديد مصطفى كامل بحادثة دنشواي

٦٨- تحول عن مؤازرة الحركة الوطنية إلى موالة الاحتلال

٦٩- طالب بإنشاء مجلس نيابي ونقابات عمالية ومدارس الشعب الليلية

٧٠- نجح في إجبار الحكومة على دعوة مجلس شورى القوانين والجمعية العمومية لمناقشة طلب شركة قناة السويس بمد امتياز قناة السويس ٤٠ سنة إضافية

٧١- ذهب على رأس وفد مصري لعرض مطالب الأمة على المندوب السامي البريطاني عقب الحرب العالمية الأولى

٧٢- اعترض على الصفة التي يتحدث بها سعد زغلول وزملاءه وعدم احقيتهم التحدث بإسم الأمة

٧٣- أعلن ١٤ مبدأ من أهمها حق الشعوب في تقرير مصيرها

٧٤- تم تعيينه مندوباً سامياً في مصر عقب ثورة ١٩١٩م

٧٥- تولى رئاسة وزراء مصر وكان يرجو أن يوفق في الاتفاق مع البريطانيين على وضع دستور يحقق أماني المصريين، لكن مفاوضاته مع كيرزون فشلت واستقال

٧٦- شكّل أول وزارة برلمانية عرفت بوزارة الشعب وافتتح أول برلمان مصري

٧٧- القائد العام للجيش المصري والحاكم العام للسودان الذي أعتيل في ١٩٢٤م

٧٨- قدّم انذار للحكومة المصرية عقب مقتل السير لي ستاك وطلب سحب الجيش المصري من السودان

٧٩- استقالت بعد انذار اللورد اللنبي لها عقب مقتل السير لي ستاك

٨٠- وافق على المطالب البريطانية التي جاءت في الإنذار و سحب الجيش المصري من السودان

٨١- ألغى دستور ١٩٢٣م ووضع دستور ١٩٣٠م الذي أعطى الملك مزيد من السلطات وأهدر سلطة الأمة

٨٢- حاكم اضطر إلى الرضوخ لمطالب الأمة وأعاد دستور ١٩٢٣م

٨٣- وقع مع بريطانيا معاهدة ١٩٣٦م ثم عاد وألغاه عام ١٩٥١م

٨٤- حاصرت قصره الدبابات البريطانية لإجباره على تشكيل وزارة برئاسة مصطفى النحاس باشا

السؤال الرابع : بم تفسر

أولاً : الجغرافيا

١- تعتبر آسيا شبه جزيرة ؟

٢- وجود مراكز بحثية مقسمة لعدة دول في قارة أنتاركتيكا ؟

٣- تعرف هضبة التبت بسقف العالم ؟

٤- قلة أهمية أنهار اوب وينسي ولينا ؟

٥- تتميز السهول الساحلية في قارة أفريقيا بالضيق عموماً ؟

٦- أهمية سهول أنهار النيل والكونغو والنيجر ؟

٧- تتعدد مسميات سلاسل جبال الألب في أوروبا ؟

٨- ضيق السهول الساحلية في غرب أمريكا الجنوبية ؟

٩- تشبه تضاريس استراليا تضاريس أفريقيا ؟

١٠- توجد كثير من المدن الهامة في سهول نهرا مري ودارلنج ؟

١١- تضيق السهول الساحلية في شرق استراليا ؟

١٢- اختلاف المناخ داخل القارات من منطقة لأخرى ؟

١٣- يتميز اقليم مناخ الاستوائي بشدة الحرارة طوال العام ؟

١٤- تدرج حشائش السافانا في الطول ؟

١٥- تعتبر حشائش السافانا حديقة حيوان طبيعية ؟

١٦- أهمية حشائش الاستبس ؟

١٧- تسمية الغابات النفضية بهذا الاسم ؟

١٨- تتنوع الحياة النباتية في إقليم مناخ الجبلي ؟

١٩- تعرض عدد كبير من زواج افريقيا للهجرات الإجبارية على يد الأوروبيين إلي الأمريكتين ؟

٢٠- تزيد نسبة السلالة المغولية عن ٤٠٪ من سكان العالم ؟

٢١- في الوقت الحاضر لا يوجد في العالم سلالات نقية إلا في بعض المجتمعات البدائية ؟

٢٢- تم تقسيم السلالات البشرية على أسس ظاهرية وليست جوهريّة ؟

٢٣- تركز سكان العالم في مناطق السهول الفيضية ؟

٢٤- تركز سكان العالم في مناطق السهول الساحلية ؟

٢٥- تركز السكان في العالم في المدن الكبرى ؟

٢٦- يقل السكان في المناطق الشمالية في سيبيريا بقارة آسيا ؟

٢٧- يقل السكان في وسط قارة آسيا ؟

٢٨- يتركز السكان بالمناطق مرتفعة السطح في الدول الإستوائية في افريقيا ؟

٢٩- قلة السكان في المناطق الاستوائية بأفريقيا ؟

٣٠- يقل السكان بأفريقيا بالمناطق الجبلية مثل جبال البحر الأحمر ؟

٣١- يقل سكان دول شرق أوروبا نسبياً عن الغرب والوسط ؟

٣٢- قلة السكان في المناطق الشمالية بأوروبا ؟

٣٣- تركيز السكان في شمال شرق الولايات المتحدة ؟

٣٤- تركيز السكان في الولايات المتحدة في ولايات الوسط ؟

٣٥- قلة السكان في سهول الأمزون ؟

٣٦- قلة السكان على قمم جبال الإنديز ؟

٣٧- تركيز السكان في استراليا على السواحل الشرقية ؟

٣٨- تركيز السكان في الجنوب الشرقي لأستراليا ؟

٣٩- يقل سكان استراليا في الداخل والغرب ؟

٤٠- يقل سكان استراليا في الشمال ؟

٤١- ارتفاع معدلات المواليد في قارة أفريقيا ؟

٤٢- ارتفاع نسبة معدل الوفيات في أوروبا رغم التقدم الصحي ؟

٤٣- انخفاض معدل الوفيات في مصر في الآونة الأخيرة ؟

٤٤- ارتفاع نسبة فئة كبار السن في الدول المتقدمة ؟

٤٥- اختلاف الخصائص الاقتصادية لسكان العالم ؟

٤٦- تعتبر دول الخليج العربي من الدول ذات الدخل الاقتصادي المرتفع ؟

ثانياً : التاريخ

١- تعرض دولة المماليك أواخر القرن الـ ١٥ الميلادي لأزمات مالية وتدهور اقتصادي ؟

٢- تعرض دولة المماليك لأزمات سياسية في أواخر القرن الـ ١٥ الميلادي ؟

٣- أسباب اتجاه العثمانيين إلي الشام ومصر ؟

٤- أسباب هزيمة الجيوش المملوكية في حروبها مع العثمانيين ؟

٥- حمل نظام الحكم العثماني في ثنياه عوامل ضعفه ؟

٧- تدهور الزراعة في عهد العثمانيين ؟

٦- فشل حركة علي بك الكبير ؟

٨- تأخر الصناعة في العصر العثماني في مصر ؟

٩- كساد التجارة الداخلية إبان العصر العثماني ؟

١٠- تدهور التجارة الخارجية في عهد العثمانيين ؟

١١- اتسمت الحياة الفكرية والثقافية خلال فترة الحكم العثماني بالجمود والتخلف ؟

١٢- أسباب الحملة الفرنسية على مصر ؟

١٣- اصطحاب نابليون لمجموعة من العلماء في مختلف العلوم والفنون ؟

- ١٤- حمل نابليون في حملته على مصر مطبوعة عربية وأخرى فرنسية ؟
- ١٥- الانتصارات المتتالية للحملة الفرنسية على المماليك في شبراخيت وامبابية ؟
- ١٦- إخفاق الحملة الفرنسية في إخضاع أهالي الصعيد ؟
- ١٧- أسباب ثورة القاهرة الأولى أكتوبر ١٧٩٨م ؟
- ١٨- الحملة الفرنسية على الشام ١٧٩٩م ؟
- ١٩- سفر نابليون سرّاً الي فرنسا أثناء معركة أبي قير البرية ؟
- ٢٠- كان كليبر من أنصار الجلاء عن مصر ؟
- ٢١- ارسال انجلترا أسطول بحري إلي أبي قير فبراير ١٨٠١م وانضمام الجيش العثماني له ؟
- ٢٢- توجيه الدول الأوروبية وخاصة انجلترا أنظارهم إلي مصر ؟
- ٢٣- إنشاء نابليون الديوان العام ودواوين الأقاليم وديوان القاهرة ؟
- ٢٤- قيام الشعب المصري بالعديد من الثورات ضد الولاة العثمانيين وزعماء المماليك ؟
- ٢٥- اجتماع زعماء الشعب من العلماء ونقباء الطوائف في دار المحكمة ١٨٠٥م ؟
- ٢٦- الأهمية التاريخية اجتماع زعماء الشعب في دار المحكمة ١٨٠٥م ؟
- ٢٧- سعي بريطانيا لتولية محمد بك الألفي بدلاً من محمد علي في حكم مصر ؟
- ٢٨- تدهور العلاقات بين بريطانيا والسلطان العثماني ١٨٠٦م ؟
- ٢٩- سياسة محمد علي في التخلص من المماليك حتى مذبحه القلعة ١٨١١م ؟
- ٣٠- الهدف من السياسة الزراعية والإجراءات التي أتبعها محمد علي في الزراعة ؟
- ٣١- قيام محمد علي بنهضة تعليمية وثقافية كبيرة ؟
- ٣٢- إنشاء محمد علي للمطبعة الأميرية في بولاق ؟
- ٣٣- الهدف من مشروعات محمد علي العمرانية والتعليمية ؟
- ٣٤- اتجاه محمد علي لتجنيد المصريين بدلاً من السودانيين ؟
- ٣٥- قيام محمد علي بإعادة تنظيم الإدارة في مصر ؟
- ٣٦- حروب محمد علي في الجزيرة العربية ؟
- ٣٧- قيام محمد علي بحروب اليونان ؟
- ٣٨- توتر العلاقات بين محمد علي والسلطان العثماني عقب حروب اليونان ؟
- ٣٩- إدراك الدول الأوروبية ما يمثله محمد علي من خطر على التوازن الدولي ؟
- ٤٠- توجيه الخديو اسماعيل حملات حربية إلى الأقاليم الاستوائية في افريقيا ؟
- ٤١- تقديم الهدايا والمال من الخديو اسماعيل للسلطان العثماني ؟

٤٢- إنشاء الخديو اسماعيل للمحاكم المختلطة ؟

٤٤- أسباب الثورة العرابية ؟

٤٣- ارسال بريطانيا بعثة برئاسة مستر كيبف ؟

٤٥- أمر الخديو توفيق بالقبض على عرابي وزملائه واعتقالهم بسجن قصر النيل ؟

٤٦- خروج عرابي على رأس الجيش ومعه آلاف الوطنيين في مظاهرة وطنية بساحة عابدين "مظاهرة عابدين" ؟

٤٧- عرض شريف باشا اللانحة الأساسية على مجلس النواب ولم تتضمن حق المجلس في مناقشة الميزانية ؟

٤٨- ارسال انجلترا وفرنسا المذكرة المشتركة الأولى للخديو توفيق يناير ١٨٨٢م ؟

٤٩- استقالة شريف باشا من رئاسة الوزارة ؟

٥٠- قرار العرابيون الانسحاب من مدينة الإسكندرية إلى كفر الدوار ؟

٥١- اسباب فشل الثورة العرابية ؟

٥٢- إهمال الاحتلال الإنجليزي التعليم وجعله بمصروفات مرتفعة وحصره في فئة قليلة ؟

٥٣- تخلي فرنسا عن مساندة مصطفى كامل ؟

٥٤- دعا محمد فريد لإنشاء مدارس الشعب الليلية ؟

٥٥- مقابلة أعضاء الجمعية التشريعية برئاسة سعد زغلول المعتمد البريطاني السير ونجت ؟

٥٦- إرسال انجلترا لجنة برئاسة اللورد ملنر وزير المستعمرات البريطاني لمصر ١٩١٩م ؟

٥٧- رفض الشعب المصري التفاوض مع لجنة ملنر ؟

٥٨- رفض الشعب المصري بجميع طوائفه مشروع المعاهدة بين ملنر والوفد المصري ؟

٥٩- أهمية دستور ١٩ أبريل ١٩٢٣م ؟

٦٠- عارض الشعب دستور ١٩٣٠م وقام بالعديد من المظاهرات لإلغائه ؟

٦١- تعدد الأحزاب في مصر منذ دستور ١٩٢٣م لم يثري الحياة النيابية ؟

٦٢- عقد بريطانيا معاهدة ١٩٣٦م مع مصر ؟

٦٣- الخلافات بين حكومة مصر وانجلترا عقب اندلاع الحرب العالمية الثانية ١٩٣٩م ؟

٦٤- محاصرة الدبابات البريطانية قصر عابدين "حادث ٤ فبراير ١٩٤٢م" ؟

٦٥- الصدام بين جنود الشرطة المصرية والانجليز في ٢٥ يناير ١٩٥٢م ؟

السؤال الخامس : دال

٢- يسود المظهر الهضبي في افريقيا ؟

١- تتميز قارة آسيا بكثرة الجزر وأشباه الجزر ؟

٣- تكثر الهضاب شرق جبال الإنديز ؟

- ٤- يتشابه مناخ الاقليم المداري الحار مع مناخ الاقليم الموسمي ؟
- ٥- تقسيم السلالات أمر ظاهري وليس جوهري ؟
- ٦- هناك قلة نادرة من السلالات النقية في العالم حالياً ؟
- ٧- لا توجد دولة في العالم يتكون شعبها من سلالة واحدة ؟
- ٨- هناك عوامل تؤثر على اختلاف معدلات الوفيات في العالم ؟
- ٩- ارتفاع نسبة المتعلمين في مصر في الفترات الأخيرة ؟
- ١٠- هناك عادات وتقاليد في بعض دول العالم تؤثر على معدل التعليم فيها خاصة الإناث ؟
- ١١- توجد علاقة بين النشاط الزراعي والصناعي و الدخل الاقتصادي للدول ؟
- ١٢- هناك سمات مميزة للدول ذات الدخل الاقتصادي المرتفع ؟
- ١٣- اختلف موقف مينو عن موقف كليبر في قيادة كل منهما للحملة الفرنسية في مصر ؟
- ١٤- ساعد انقسام القيادات الشعبية حول تقدير السيد عمر مكرم محمد علي في التخلص منه ؟
- ١٥- تعددت الإجراءات التي اتخذها محمد علي في سياسته الزراعية ؟
- ١٦- أتبع محمد علي سياسة تهدف إلي السيطرة على الإنتاج الصناعي وتوزيعه ؟
- ١٧- تنوعت الإجراءات التي قام بها محمد علي لتطوير وتحديث الإنتاج الصناعي ؟
- ١٨- خضعت التجارة في عهد محمد علي لنظام الاحتكار ؟
- ١٩- اهتمام محمد علي بالنقل والمواصلات ؟
- ٢٠- قام محمد علي بخطوات كبيرة في مجال التعليم والثقافة ؟
- ٢١- قيام محمد علي بإجراءات واضحة في إعادة تنظيم الإدارة ؟
- ٢٢- حقق محمد علي أهداف سياسية واقتصادية وعسكرية من ضم السودان ؟
- ٢٣- لم يكن خلفاء محمد علي بنفس قوته ووعيه وكفاءته ؟
- ٢٤- توقف حركة النهضة في عصر عباس باشا الاول ؟
- ٢٥- اهتمام سعيد باشا بإصلاح أحوال الفلاحين ؟
- ٢٦- كانت شروط الامتياز الثاني لقناة السويس الذي منحه سعيد باشا لديليسبس مجحف لمصر ؟
- ٢٧- يعتبر عهد سعيد باشا بداية الأزمة المالية في مصر ؟
- ٢٨- شمل عهد الخديو اسماعيل تناقض واضح ؟
- ٢٩- تعددت العوامل التي سببت الأزمة المالية في عهد الخديو اسماعيل ؟

- ٣٠- اتخذ الخديو توفيق سياسة أدت إلى زيادة التدخل الأجنبي في شئون البلاد ؟
- ٣١- انتهزت بريطانيا بعض الأحداث الداخلية في مصر لاحتلال مصر ؟
- ٣٢- شهد ميدان القتال في معركة التل الكبير بطولات خالدة رغم الهزيمة ؟
- ٣٣- فرض الاحتلال الإنجليزي سياسة اقتصادية تخدم المصالح البريطانية ؟
- ٣٤- تحركات مصطفى كامل كانت في اتجاهين ؟
- ٣٥- تجمعت عوامل عديدة أسهمت في اشتعال ثورة ١٩١٩ م ؟
- ٣٦- كانت ثورة ١٩١٩ م ثورة شعبية عظيمة ؟
- ٣٧- احتفظت بريطانيا بعدة أمور معروفة بالتحفظات الأربعة بتصريح ٢٨ فبراير ١٩٢٢ م ؟
- ٣٨- أعطت نصوص معاهدة ١٩٣٦ م بعض الأهداف لبريطانيا وكذلك مصر ؟
- ٣٩- كان هناك متغيرات داخلية وخارجية بعد معاهدة ١٩٣٦ م ؟

السؤال السادس : ما النتائج المترتبة على

أولاً : الجغرافيا

- ١- تميز سواحل أوروبا بالتعرج وكثرة الجزر ؟
- ٢- وقوع القارة القطبية الجنوبية في أقصى جنوب الكرة الأرضية ؟
- ٣- وقوع أنهار أوب وينسي ولينا شمال آسيا وتصب في المحيط القطبي الشمالي ؟
- ٤- الارتفاع الشائق لجبال روكي ؟
- ٥- وقوع الإقليم الجبلي فوق قمم الجبال والمنحدرات العليا في العالم ؟
- ٦- وقوع إقليم مناخ الاستوائي بالقرب من دائرة الاستواء ؟
- ٧- وقوع إقليم مناخ التندرا في ما وراء الدائرتين القطبيتين ؟
- ٨- وقوع جنوب غرب استراليا في نطاق إقليم مناخ البحر المتوسط ؟
- ٩- انتماء منطقة شمال اليابان لإقليم مناخ اللورانسى ؟
- ١٠- استقرار الإنسان في البيئات المختلفة أواخر عصر البلايستوسين ؟
- ١١- زيادة السكان في معظم دول آسيا ؟
- ١٢- وقوع الأطراف الشمالية لكل من اسيا وأوروبا وامريكا الشمالية في نطاق الدائرة القطبية الشمالية ؟
- ١٣- ارتفاع فئة صغار السن في بعض الدول ومنها مصر ؟
- ١٤- اعتماد معظم دول أفريقيا على الزراعة ؟
- ١٥- اعتماد الدول المتقدمة على النشاط الصناعي ؟

- ١- كثرة الفتن والصراع المستمر بين المماليك ؟
- ٢- موقعة جالديران ١٥١٤م ؟
- ٣- استيلاء سليم الأول على إمارة ذي القادر المملوكية ؟
- ٤- معركة مرج دابق ١٥١٦م ؟
- ٥- معركة الريدانية ١٥١٧م ؟
- ٦- هزيمة الجيوش المملوكية وانتصار العثمانيين عليهم ؟
- ٧- تأثير الحكم العثماني على مصر؟
- ٨- ضعف الدولة العثمانية ؟
- ٩- فشل حركة علي بك الكبير ؟
- ١٠- انتقال الحرفيين والصناع المهرة إلى الأستانة عاصمة الدولة العثمانية ؟
- ١١- تعددت فئات وطبقات المجتمع المصري في العصر العثماني ؟
- ١٢- العزلة التي فرضها العثمانيين على مصر ؟
- ١٣- وصول الحملة الفرنسية إلى مدينة الإسكندرية ؟
- ١٤- مواجهة المماليك للحملة الفرنسية في شبراخيت يوليو ١٧٩٨م ؟
- ١٥- مواجهة المماليك للحملة الفرنسية في إمبابة ؟
- ١٦- معركة أبو قير البحرية أغسطس ١٧٩٨م ؟
- ١٧- نجاح مقاومة أهالي الصعيد للحملة الفرنسية ؟
- ١٨- دخول الفرنسيون الأزهر الشريف بالخيول ؟
- ١٩- ثورة القاهرة الأولى أكتوبر ١٧٩٨م ؟
- ٢٠- استيلاء نابليون على يافا ؟
- ٢١- مذبحه يافا البشرية واعدام نابليون لأفراد الحامية العثمانية ؟
- ٢٢- الحملة الفرنسية على الشام ١٧٩٩م ؟
- ٢٣- موقعة أبي قير البرية يوليو ١٧٩٩م ؟
- ٢٤- الأخطار التي حاصرت كليبر من كل جانب ورغبته في الجلاء عن مصر ؟
- ٢٥- رفض إنجلترا اتفاقية العريش بين كليبر والعثمانيين ومطالبة الفرنسيين للاستسلام ؟
- ٢٦- ثورة القاهرة الثانية مارس ١٨٠٠م ؟
- ٢٧- نية مينو الإقامة في مصر وتحويلها إلى مستعمرة فرنسية كبرى ؟
- ٢٨- ارسال إنجلترا أسطول حربي إلى أبي قير ١٨٠١م لإخراج الفرنسيين من مصر وانضمام الجيش العثماني له؟
- ٢٩- نتائج الحملة الفرنسية على مصر في كافة النواحي ؟

٣٠- اكتشاف علماء الحملة الفرنسية حجر رشيد ؟

٣١- خشية محمد علي أن تصيب ثورة الشعب المصري جنوده ؟

٣٢- حرص محمد علي الوقوف مع الشعب المصري وزعمائه ؟

٣٣- وقوف الزعامة الشعبية بجانب محمد علي ضد نقله من مصر ١٨٠٦ ؟

٣٤- تدهور العلاقة بين السلطان العثماني وبريطانيا بعد تثبيت محمد علي في مصر ؟

٣٥- حملة فريزر مارس ١٨٠٧ م ؟

٣٦- إدراك محمد علي قوة الزعامة الشعبية ودورها في توليه الحكم والقيود التي فرضتها عليه ؟

٣٧- مذبح القلعة الشهيرة ١٨١١ م ؟

٣٨- تطبيق محمد علي نظام الاحتكار ؟

٣٩- نهوض محمد علي بالزراعة والصناعة والاستقرار الداخلي ؟

٤٠- دور سياسة محمد علي الاقتصادية في تشكيل وبناء القوى الاجتماعية في مصر ؟

٤١- إدراك محمد علي أن بناء القوة العسكرية هي الدعامة الأساسية لتحقيق أهدافه وبناء الدولة الحديثة ؟

٤٢- حروب محمد علي في الجزيرة العربية ؟

٤٣- قيام محمد علي بحروب اليونان ضد ثوار اليونان في المورة ؟

٤٤- موقعة نفاين ١٨٣٧ م ؟

٤٥- تفاوض الدول الأوروبية مباشراً مع محمد علي لإنهاء الحرب على ثوار اليونان في المورة ؟

٤٦- حرب الشام الأولى والثانية ؟

٤٧- إدراك الدول الأوروبية ما يمثله محمد علي من خطر على التوازن الدولي ؟

٤٨- معاهدة لندن الدولية ١٨٤٠ م ؟

٤٩- اصدار السلطان العثماني فرمانين بخصوص محمد علي ١٨٤١ م ؟

٥٠- الأخطاء التي ارتكبها إسماعيل من النواحي المالية ؟

٥١- الحملات الحربية التي وجهها الخديو اسماعيل لوسط أفريقيا ؟

٥٢- احتفالات الخديو اسماعيل بافتتاح قناة السويس ؟

٥٣- ارسال بريطانيا بعثة برئاسة مستر كليف إلى مصر ؟

٥٤- قرارات لجنة التحقيق العليا الأوروبية ؟

٥٥- الانتقادات التي وجهتها الحركة الوطنية في مصر للوزارة المختلطة ؟

٥٦- قيام الخديو اسماعيل بإقضاء الوزيرين الأجنيين من الوزارة وصدار مرسوم بتسوية الديون ؟

٥٩- تولي محمود سامي البارودي الوزارة بدلاً من شريف باشا؟

٦٠- رفض الخديو توفيق التصديق على حكم نفي الضباط الشراكسة لمؤامرة اغتيال عرابي؟

٦١- نشوب معركة في الإسكندرية بين الأجانب والمصريين وحدث قتل من الجانبين ١٨٨٢ م؟

٦٢- رفض الحكومة المصرية انذار قائد الاسطول الإنجليزي لتسليم بعض المدافع المنصوبة في حصون الإسكندرية؟

٦٣- أرسل الخديو توفيق لأحمد عرابي يأمره بالكف عن استعداداته الحربية وأن يحضر إليه؟

٦٤- معركة كفر الدوار بين الإنجليز والعرابيون؟

٦٥- اصدار السلطان العثماني منشوراً بإعلان عصيان عرابي؟

٦٦- معركة التل الكبير ١٨٨٢ م؟

٦٧- روح اليأس والهزيمة التي تسربت للعديد من أنصار عرابي عقب معركة التل الكبير؟

٦٨- محاكمة العرابيون عسكرياً ديسمبر ١٨٨٢ م؟

٦٩- تأثير الاحتلال البريطاني على الجيش المصري؟

٧٠- الأعمال التي قام بها الاحتلال البريطاني في الحياة النيابية؟

٧١- حادثة دنشواي عام ١٩٠٦ م؟

٧٢- إجبار محمد فريد للحكومة المصرية على دعوة مجلس شورى القوانين والجمعية العمومية لمناقشة طلب

شركة قناة السويس بحد امتياز قناة السويس ٤٠ عاماً أخرى؟

٧٣- اعتراض السير ونجت على سعد زغلول وزملائه وعدم أحقيتهم التحدث باسم الأمة؟

٧٤- ثورة ١٩١٩ م؟

٧٥- سفر الوفد المصري إلى مؤتمر الصلح في باريس؟

٧٦- رفض الشعب المصري التفاوض مع لجنة مندر ومقاطعتها؟

٧٧- استقالة عدلي يكن بعد فشل مفاوضاته مع كيروزن وزير خارجية بريطانيا في وضع الدستور؟

٧٨- نفي سعد زغلول إلى جزيرة سيشل؟

٧٩- تصريح ٢٨ فبراير ١٩٢٢ م؟

٨٠- اغتيال القائد العام للجيش المصري والحاكم العام للسودان السير لي ستاك ١٩٢٤ م؟

٨١- تقديم اللورد اللنبي انذار الحكومة المصرية ١٩٢٤ م؟

٨٢- قيام الشعب المصري بالعديد من المظاهرات لإلغاء دستور ١٩٣٠ م؟

٨٣- معاهدة ١٩٣٦ م؟

٨٤- حادث ٤ فبراير ١٩٤٢ م؟

٨٥- عرض مصر قضية جلاء القوات البريطانية الكامل عن مصر على مجلس الأمن ١٩٤٧ م؟

٨٦- اعلان مصطفى النحاس باشا رئيس الوزراء إلغاء معاهدة ١٩٣٦م وأطلق الحرية للشعب للنضال المسلح ؟

٨٧- حصار البريطانيين مبنى محافظة الإسماعيلية لنزع سلاح جنود الشرطة ؟

السؤال السابع : اختر مما بين الأقواس

- ١- تقع جبال طوروس في ... (تركيا - العراق - إيران - لبنان)
- ٢- أعلى جبال في العالم هي .. (الحاجز الكبير - الألب - الهيمالايا - الأنديز)
- ٣- تعرف هضبة ... بسقف العالم (الدكن - التبت - البرازيل - لبرادور)
- ٤- هضبة تقع في غرب آسيا .. (التبت - الدكن - شبه الجزيرة العربية - جيانا)
- ٥- يصب نهري دجلة والفرات في .. (الخليج العربي - خليج عمان - المحيط الهندي - المحيط الهادي)
- ٦- يسود المظهر ... قارة أفريقيا (الجبلي - السهلي - الهضبي - التلاي)
- ٧- من جبال شرق أفريقيا ... (أطلس - كردستان - كلنجارو - روكي)
- ٨- تحتوي هضاب ... على الصحراء الشرقية والغربية في مصر (الصحراء الكبرى - جنوب أفريقيا - الحبشة - البحيرات الاستوائية)
- ٩- تنبع من هضبتي الحبشة والبحيرات الاستوائية روافد نهر (الكونغو - النيل - الفولجا - دجلة)
- ١٠- يمتد بحر الرمال العظيم في مصر و .. (ليبيا - السودان - فلسطين - السعودية)
- ١١- تعرف جبال الألب بجبال البرانس في .. (شبه جزيرة البلقان - اسبانيا - فرنسا - ألمانيا)
- ١٢- تشغل هضبة ... معظم دولة أسبانيا (لبرادور - بتاجونيا - التبت - الميزيتا)
- ١٣- من الأنهار التي تقطع هضبة فرنسا الوسطى (الفولجا - السين - الدانوب - سانت لورانس)
- ١٤- من المدن الرئيسية التي توجد في السهل الأوروبي العظيم (لندن - نيويورك - موسكو - برلين)
- ١٥- يصب نهر الدانوب في .. (البحر الأسود - البحر المتوسط - المحيط الأطلنطي - الخليج العربي)
- ١٦- يصب نهر الراين في .. (البحر الكاريبي - بحر الشمال - بحر قزوين - البحر الكاريبي)
- ١٧- بحر قزوين هو مصب نهر .. (المسيسبي - باراجواي - السين - الفولجا)
- ١٨- تقع جبال ... في شرق أمريكا الشمالية (روكي - الأبلش - الإنديز - الحاجز الكبير)
- ١٩- تقع هضبة في شمال شرق أمريكا الشمالية (لبرادور - المكسيك - جيانا - البرازيل)
- ٢٠- يصب نهر المسيسيبي في .. (المحيط الأطلنطي - خليج المكسيك - خليج هدسن - خليج سانت لورانس)
- ٢١- اصغر هضاب أمريكا الجنوبية (جيانا - الدكن - البرازيل - بتاجونيا)
- ٢٢- توجد في ... اوسع سهول فيضية في العالم (أمريكا الجنوبية - آسيا - أوروبا - أفريقيا)

- ٢٣- تقع جبال الحاجز الكبير في ... استراليا (شمال - غرب - جنوب - شرق)
- ٢٤- تتركز في داخل استراليا السهول (الفيضية - الصحراوية - الساحلية - الخصبة)
- ٢٥- تنتمي منطقة حوض الكونغو في وسط افريقيا الي اقليم مناخ (الموسمي - الاستوائي - المداري - الصيني)
- ٢٦- يسمى اقليم مناخ .. بالمناخ السوداني (اللورانسي - التندرا - الجبلي - المداري)
- ٢٧- توجد حشائش ... في إقليمي المداري والموسمي (السافانا - التندرا - الاستبس - البراري)
- ٢٨- من الاقاليم الممطرة طوال العام اقليم مناخ (الجبلي - غرب أوروبا - البحر المتوسط - المداري)
- ٢٩- تعرف حشائش الاستبس بحشائش البراري في .. (افريقيا - اسيا - أمريكا الشمالية - استراليا)
- ٣٠- ينمو شجر الصفاف والبلوط في غابات الاقليم .. (الاستوائي - الموسمي - المداري - الصيني)
- ٣١- يوجد حيوان الرنة في إقليم مناخ (الجبلي - التندرا - غرب أوروبا - الاستوائي)
- ٣٢- يوجد حيوان ... في إقليم مناخ المعتدل البارد اللورانسي (الرنة - الثعابين - الدب القطبي - الشمبانزي)
- ٣٣- الصفة المتشابهة لكل من اقليم اللورانسي والصيني وغرب أوروبا والاستوائي (درجة الحرارة - سقوط الأمطار طوال العام - تشابه الحيوانات - تشابه الغابات)
- ٣٤- يسود اقليم مناخ التندرا قارة ... بالكامل (أفريقيا - استراليا - أمريكا الجنوبية - انتاركتيكا)
- ٣٥- اقاليم تقع في نطاق شرق القارات هي (الصيني والبحر المتوسط - الصيني واللورانسي - الجبلي وغرب أوروبا - المداري والموسمي)
- ٣٦- أقاليم تقع في غرب القارات هي (الجبلي والتندرا - الصيني والجبلي - غرب أوروبا والبحر المتوسط - الموسمي والمداري)
- ٣٧- أكبر دولة في العالم من حيث السكان .. (الصين - الهند - البرازيل - الولايات المتحدة)
- ٣٨- من مناطق تركز السكان سهول نهر ... في الهند (يانجتسي - السند - أوب - الجانج)
- ٣٩- يعيش السكان في بعض المرتفعات مثل المناطق المدارية بأفريقيا بدولة (السنغال - كينيا - توجو - النيجر)
- ٤٠- يقل عدد سكان بعض مناطق الأنهار مثل نهر .. (يانجتسي - الاورانج - النيل - الأمزون)
- ٤١- يتركز جزء كبير من سكان استراليا في جهة .. (الغرب - الجنوب الشرقي - الشمال - الشمال الغربي)
- ٤٢- أكثر منطقة يتركز فيها الازدحام السكاني بالعالم هي جزيرة (نيوزيلندا - اليابان - جاوة - انجلترا)
- ٤٣- أكبر قارة في العالم في معدل الوفيات (أفريقيا - أوروبا - أمريكا الشمالية - آسيا)
- ٤٤- مصر دولة ذات رعاية طبية .. (فائقة - مرتفعة - منخفضة - متوسطة)
- ٤٥- فئة سنية تكلف الدولة ميزانية ضخمة (صغار السن - البالغون - كبار السن - العمال)

- ٤٦- أقل قارة في نصيب الفرد من الدخل القومي (آسيا - أفريقيا - أستراليا - أوروبا)
- ٤٧- مصر والمغرب دول ذات مستوى اقتصادي (مرتفع - فوق المتوسط - منخفض - اقل من المتوسط)
- ٤٨- الدول ذات الدخل المرتفع تعتمد على النشاط .. (الزراعي - الصناعي - الرعوي - الصيد)
- ٤٩- قارة معدل الزيادة الطبيعية فيها صفر (أوروبا - أمريكا الشمالية - آسيا - أمريكا الجنوبية)
- ٥٠- من أسباب الحملة الفرنسية قطع الطريق بين إنجلترا ومستعمراتها في .. (أفريقيا - مصر - الهند - الشام)
- ٥١- قاد الحملة الفرنسية نحو مصر (نابليون - كليبر - مينو - ديبيوي)
- ٥٢- أدمت الحملة الفرنسية .. بعد مقاومته لهم في الاسكندرية (عمر مكرم - محمد كريم - مراد بك - ابراهيم بك)
- ٥٣- واجهت الحملة الفرنسية قوات ... في شبراخيت وامبابة (العثمانيين - الإنجليز - المصريين - المماليك)
- ٥٤- هرب مراد بك إلي ... بعد معركة إمبابة (الشام - الصعيد - العريش - ليبيا)
- ٥٥- استطاع القائد الانجليزي .. إغراق السلطان الفرنسي في أبو قير البحرية (كليبر - تشرشل - مينو - نلسون)
- ٥٦- أتبع أهالي ... حرب المناوشات ضد الحملة الفرنسية (الإسكندرية - الصعيد - القاهرة - الإسماعيلية)
- ٥٧- قامت ثورة القاهرة الأولى في عهد ... (نابليون - كليبر - مينو - نلسون)
- ٥٨- قام نابليون بمذبحة بشرية ضد حامية ... (عكا - دمشق - صيدا - يافا)
- ٥٩- استتبسل أهالي عكا بقيادة ... ضد الحملة الفرنسية (عمر مكرم - نلسون - أحمد باشا الجزار - ظاهر العمر)
- ٦٠- انتصر نابليون على الأسطول ... في أبي قير البرية (العثماني - المملوكي - الإنجليزي - الروسي)
- ٦١- كان ينوي الجلاء عن مصر بالحملة الفرنسية (نابليون - كليبر - مينو - كولونيل سيف)
- ٦٢- عقدت اتفاقية العريش بين كليبر و... (الدولة العثمانية - المماليك - إنجلترا - المصريين)
- ٦٣- رفضت ... اتفاقية العريش وطالبت باستسلام الجيش الفرنسي (ألمانيا - مصر - روسيا - إنجلترا)
- ٦٤- كان ... ينوي تحويل مصر إلي مستعمرة فرنسية كبرى (نابليون - مينو - كليبر - ويلسون)
- ٦٥- أرادت .. نقل محمد علي من مصر وتعيين محمد بك الألفي (الدولة العثمانية - روسيا - فرنسا - إنجلترا)
- ٦٦- أول العقبات التي واجهت محمد علي هي .. (محاولة نقله - الزعامة الشعبية - حملة فريزر - المماليك)
- ٦٧- قامت .. بتوجيه حملة فريزر على مصر ١٨٠٧م (الولايات المتحدة - فرنسا - الدولة العثمانية - بريطانيا)
- ٦٨- قام محمد علي بنفي السيد عمر مكرم إلي .. (الإسكندرية - دمياط - الصعيد - بورسعيد)
- ٦٩- أنشأ محمد علي ترعة ... (الإبراهيمية - الإسماعيلية - المحمودية - بحر يوسف)
- ٧٠- توقفت في عهده حركة النهضة التي أقامها محمد علي (عباس الأول - سعيد باشا - اسماعيل باشا - توفيق)
- ٧١- أكثر خلفاء محمد علي اهتماماً بالفلاحين (ابراهيم - توفيق - عباس حلمي الثاني - محمد سعيد)

٧٢- تولى .. الوزارة المختلطة في عهد الخديو اسماعيل (نوبار باشا - رياض باشا - زيور باشا - شريف باشا)

٧٣- عارض ... اتفاقية الحكم الثنائي على السودان (أحمد عرابي - سعد زغلول - محمد فريد - مصطفى كامل)

٧٤- تم الغاء الامتيازات الأجنبية وفقاً لمؤتمر ... (باريس - لندن - مونترو - الأستانة)

٧٥- تغيرت علاقة مصر بإنجلترا من علاقة احتلال لعلاقة تحالف بعد ...

(مؤتمر الصلح - تصريح ٢٨ فبراير - معاهدة ١٩٣٦م - دستور ١٩٣٠م)

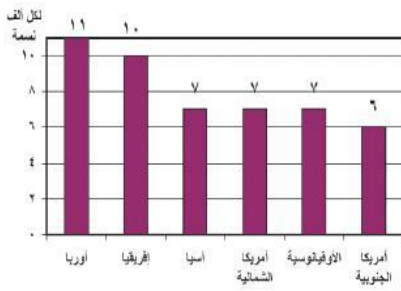
السؤال الثامن : ضع علامة ✓ أو ✗ أمام كل عبارة مع التصويب

- ١- تقع جزر إندونيسيا في نطاق اقليم مناخ الاستوائي ()
- ٢- تعتبر حشائش الاستبس حديقة حيوان طبيعية ()
- ٣- توجد حشائش السافانا في الاقليم المداري والصيني ()
- ٤- تسقط الأمطار طوال العام في إقليم مناخ غرب أوروبا ()
- ٥- الأطراف الشمالية من قارات آسيا وأوروبا وأمريكا الشمالية تنتمي لإقليم الجبلي ()
- ٦- تتنوع الحياة النباتية في إقليم مناخ الجبلي ()
- ٧- يسود اقليم مناخ الجبلي في غرب قارتي أمريكا الشمالية والجنوبية ()
- ٨- البشرة الصفراء تميز السلالة الزنجية ()
- ٩- تعد قارتي إفريقيا وأستراليا من مناطق تركيز السلالة الزنجية ()
- ١٠- ينتمي الإسكيمو للسلالة القوقازية ()
- ١١- أكبر السلالات في العالم هي الزنجية ()
- ١٢- ينتمي العرب للسلالة الزنجية ()
- ١٣- السلالات البشرية أصلها واحد ()
- ١٤- يتم تقسيم السلالات البشرية بناءً على أسس جوهريّة ()
- ١٥- لا توجد دولة في العالم تتكون من سلالة واحدة ()
- ١٦- يتركز السكان في غرب ووسط أوروبا أكثر من الشرق ()
- ١٧- من الهضاب التي يقل فيها السكان بأمريكا الجنوبية هضبة بتاجونيا ()
- ١٨- تعتمد الدول المتقدمة على النشاط الزراعي ()
- ١٩- تعتبر دول الخليج العربي من الدول ذات الدخل الاقتصادي المرتفع ()
- ٢٠- قام محمد الثاني بغزو المشرق العربي ودخول الشام ومصر في القرن الـ١٦ ()
- ٢١- اندلعت ثورة القاهرة الثانية من الازهر الشريف ()

- ٢٢- يعتبر قرار زعماء الشعب في دار المحكمة بعزل خورشيد باشا وتعيين محمد علي أول مرة في تاريخ مصر الحديث التي يعزل فيها الوالي ويعين آخر بإرادة الشعب ()
- ٢٣- كانت فرنسا وراء محاولة نقل محمد علي من مصر ()
- ٢٤- تخلص محمد علي من السيد عمر مكرم ونفاه إلي الصعيد ()
- ٢٥- كان آخر العقبات في وجه محمد علي المماليك وتخلص منهم في مذبحه القلعة ()
- ٢٦- أرسلت انجلترا حملة فريزر بعد رضوخ السلطان العثماني لرأي الشعب وتثبيت خورشيد ()
- ٢٧- أرسلت فرنسا بعثة كيف بناءً على طلب من الخديو اسماعيل ()
- ٢٨- عُرفت وزارة البارودي بوزارة الشعب ()
- ٢٩- كان حريق القاهرة ١٩٥٢م إيذاناً بنهاية الحكم الملكي في مصر ()

السؤال التاسع : ما العلاقة بين

- ١- هضاب شرق ووسط أفريقيا ، ونهر النيل في مصر ؟
- ٢- امتداد جبال الأنديز ، والسهول الساحلية بأمريكا الجنوبية ؟
- ٣- أشجار الزان ،، و فصل الشتاء ؟
- ٤- ارتفاع السطح في أوغندا وكينيا ،، وتركز السكان ؟
- ٥- السهول الفيضية ، والكثافة السكانية ؟
- ٦- التضاريس ، وتوزيع السكان في استراليا ؟
- ٧- مشكلات زيادة السكان في آسيا ، و دول أوروبا ؟
- ٨- امتداد الهضاب والجبال في قارة أفريقيا ، والسهول الساحلية بها ؟
- ٩- العادات والتقاليد ، ونسبة تعليم الإناث ؟
- ١٠- عدد الأطباء ، والرعاية الطبية في العالم ؟
- ١١- حرفة الزراعة البدائية والرعي ،، ومعدلات المواليد في افريقيا ؟
- ١٢- التقدم الصحي في قارة أوروبا ،، وتصدرها معدل الوفيات في العالم ؟
- ١٣- مستوى الدخل الاقتصادي في الدول ، ونوع النشاط الرئيسي فيها ؟
- ١٤- الكشوف الجغرافية ، وضعف دولة المماليك ؟
- ١٥- ضعف الدولة العثمانية ،، وظهور الحركات الاستقلالية في مصر ؟
- ١٦- فرمان ١٨٠٦م ، وحملة فريزر ١٨٠٧م ؟
- ١٧- موقعة أبي قير البحرية ،، وثورة القاهرة الأولى ؟
- ١٨- القوة العسكرية ، وبناء الدولة الحديثة في عهد محمد علي ؟
- ١٩- السلطان العثماني ، وهزيمة العربيين في معركة التل الكبير ١٨٨٢م ؟
- ٢٠- معاهدة ١٩٣٦م ، وعودة الجيش المصري للسودان ؟



الفقرة الاولى أمامك تمثيل بياني لمعدل الوفيات في العالم، أجب عما يلي

- ١- بم تفسر/ تعتبر أوروبا أعلى قارات العالم في معدل الوفيات ؟
- ٢- ما نتائج تقدم الرعاية الصحية والاهتمام بصحة الأطفال بمصر ؟
- ٣- ما العلاقة بين مستوى السكن والتغذية والخدمات الصحية ومعدل الوفيات ؟

الفقرة الثانية أمامك صورة لهضبة التبت، إحدى هضاب قارة آسيا، أجب من خلالها عن الآتي



١- بم تفسر/ تعرف هضبة التبت بسقف العالم ؟

٢- دليل // تتميز منطقة وسط آسيا بتضاريس شائقة الارتفاع ؟

٣- ما إسم الاقليم المناخي الذي يسود منطقة وسط آسيا حيث جبال الهيمالايا وهضبة التبت ؟

الفقرة الثالثة أمامك صورة ملتقطة من قارة أنتاركتيكا ، في ضوء ذلك أجب عن الآتي



١- ما النتيجة المترتبة على/ شدة البرودة في قارة أنتاركتيكا ؟

٢- أكمل/ يحيط بقارة أنتاركتيكا من جميع الجهات المحيط

٣- بم تفسر/ مرور جميع خطوط الطول في قارة أنتاركتيكا ؟

٤- ما هو الاقليم المناخي الوحيد الذي يسود قارة أنتاركتيكا بالكامل ؟

الفقرة الرابعة أمامك صورة للسلالات البشرية في العالم، أجب من خلالها عن ما يأتي

١- ما السلالة الأكثر انتشاراً في العالم وتشمل نصف عدد سكان العالم ؟

٢- رغم انصهار السلالات واختلاطها إلا أنه يوجد بعض

المجموعات تعرف بالسلالة النقية، حددها مع ذكر أماكن وجودها ؟

٣- أذكر لأي سلالة تنتمي الأقسام الآتية (جماعة التنجوس -

البانتو - العرب)



“ قوقازي ”



“ مغولي ”



“ زنجي ”

الفقرة الخامسة أمامك صورة تجمع الزعيم أحمد عرابي والخديو توفيق، من خلالها أجب عن الآتي

١- ما اسم الحدث التاريخي الذي تعبر عنه الصورة في ٩ سبتمبر ١٨٨١م ؟

٢- ما مطالب الأمة التي قدمها عرابي في هذا الحدث ؟

٣- حدد موقف الخديو توفيق من مطالب الأمة ؟



الفقرة السادسة أمامك صورة تجمع شخصيتين تاريخيتين هما طومان باي وسليم الأول

١- ما المعركة التي انتصر فيها سليم الأول على طومان باي وصارت مصر بعدها ولاية عثمانية ؟

٢- بم تفسر/ تعرض دولة المماليك إلى أزمات مالية وتدهور اقتصادي أواخر القرن ال ١٥ م ؟

٣- كان لسقوط دولة المماليك على يد العثمانيين نتائج عديدة أذكر ما يتعلق بالناحية الدينية ؟

الفقرة السابعة أمامك صورة لثورة شعبية شاملة حدثت في مصر ، أجب عما يلي

١- ما اسم الثورة التي تعبر عنها الصورة ؟

٢- أذكر عاملين من عوامل قيام هذه الثورة ؟

٣- ما موقف الحكومة البريطانية من هذه الثورة ؟

الفقرة الثامنة أمامك صورة تظهر فيها محاصرة الدبابات الإنجليزية لقصر عابدين عام ١٩٤٢ م

١- ما اسم الحدث التاريخي الشهير المرتبط بهذه الصورة ؟

٢- بم تفسر/ محاصرة الدبابات الإنجليزية قصر عابدين ؟

٣- ما النتائج المترتبة على/ الحدث التاريخي الموضح بالصورة ؟

السؤال الحادي عشر : ما رأيك في

١- مذبحه يافا التي ارتكبتها نابليون أثناء حملته على الشام ؟

٢- شروط امتياز حفر قناة السويس ؟

٣- منشور السلطان العثماني بإعلان عصيان عربي ؟

٤- مشاركة المرأة في ثورة ١٩١٩ م ؟

٥- بنود معاهدة ١٩٣٦ م ؟

٦- موقف أفراد الشرطة المصرية بالإسماعيلية في ٢٥ يناير ١٩٥٢ م ؟

السؤال الثاني عشر : رتب الأحداث الآتية من الأقدم للأحدث

- * حركة علي بك الكبير * معركة الريدانية * معركة كفر الدوار * وزارة الشعب
* حادث ٤ فبراير * اكتشاف طريق رأس الرجاء الصالح * ثورة القاهرة الأولى

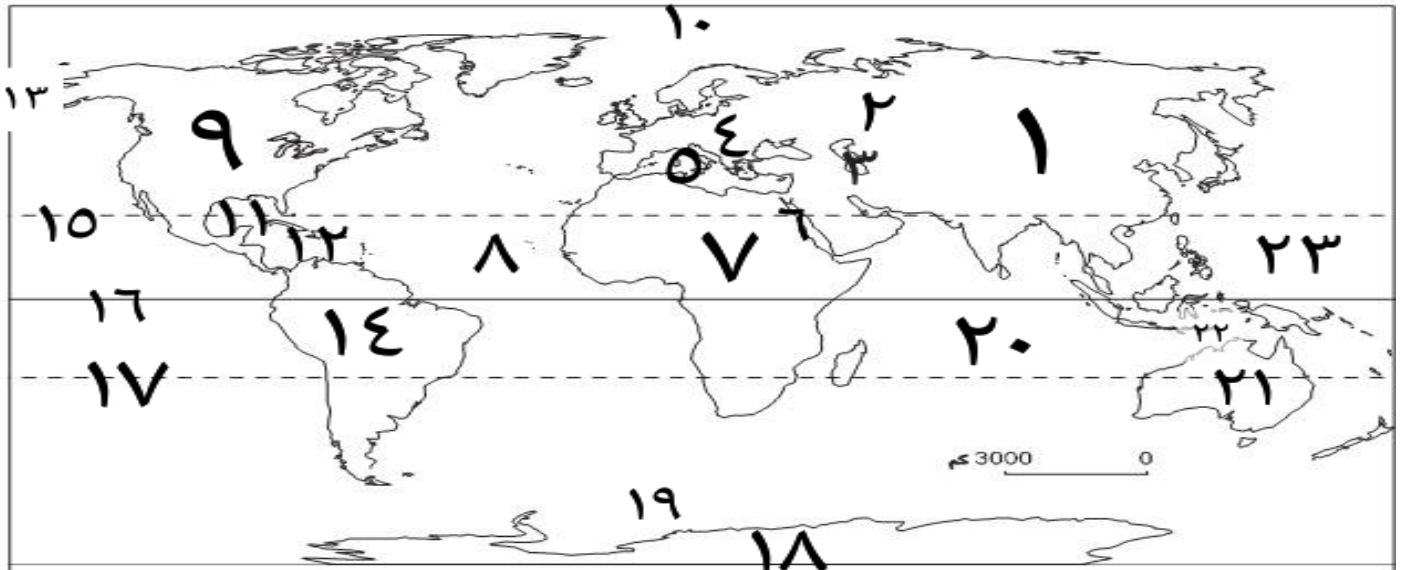
السؤال الثالث عشر : إلى أي اقليم تنتمي هذه الأشجار والحيوانات

(الماهوجني والمطاط - جوز الهند - الزان - الصفصاف والبلوط - الصنوبر والشربين - الزيتون - الدب القطبي - حيوان الرنة والطحالب - الزواحف والحيوانات المتسلقة)

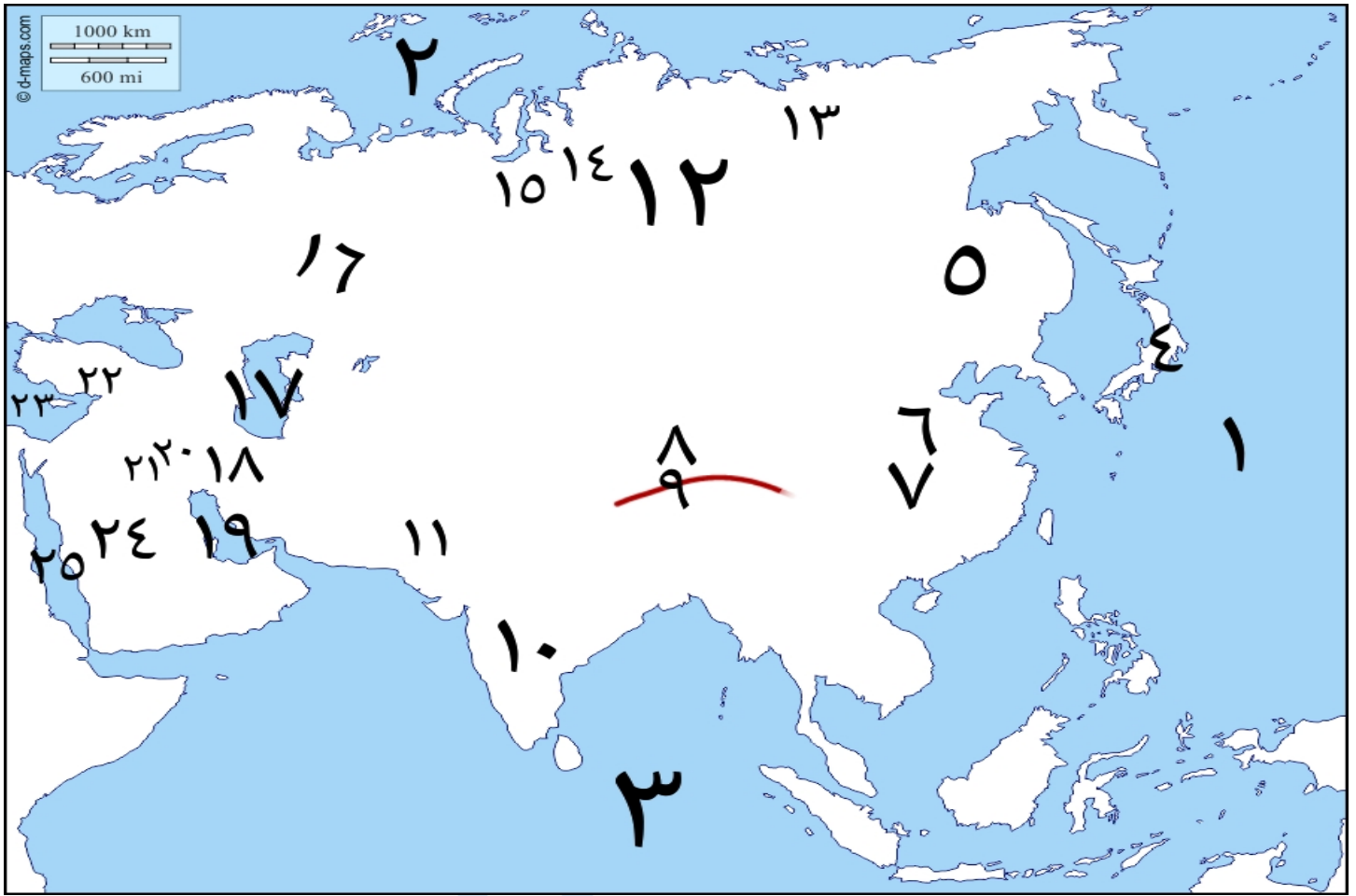
- ١- الماهوجني والمطاط ٢- جوز الهند ٣- الزان ٤- الصفصاف والبلوط ٥- الصنوبر والشربين
٦- الزيتون ٧- الدب القطبي ٨- حيوان الرنة والطحالب ٩- الزواحف والحيوانات المتسلقة

السؤال الرابع عشر : أذكر مصبات الأنهار الآتية

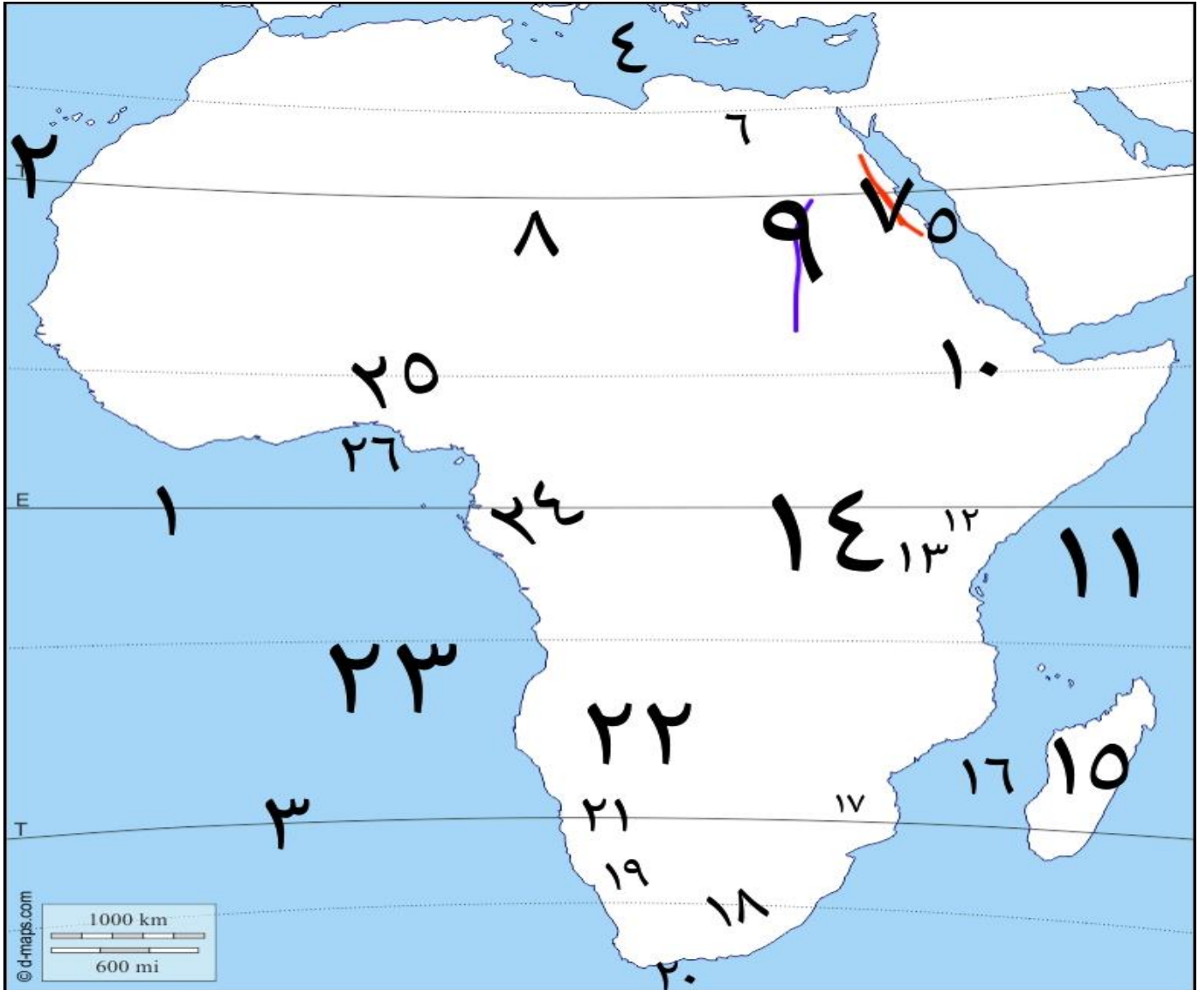
- ١- يانجتسي ٢- السند ٣- أوب وينسي ولينا ٤- دجلة والفرات ٥- النيل
٦- النيجر ٧- الكونغو ٨- الأورانج ٩- ليمبوجو ١٠- زمبيزي
١١- الفولجا ١٢- الدانوب ١٣- الراين ١٤- نلسن ١٥- المسيسيبي
١٦- سانت لورانس ١٧- الأمزون ولابلاتا وبارانا وباراجواي والأورينكو

السؤال الخامس عشر : الخريطة**خريطة درس : قارات العالم (الموقع والمساحة)**

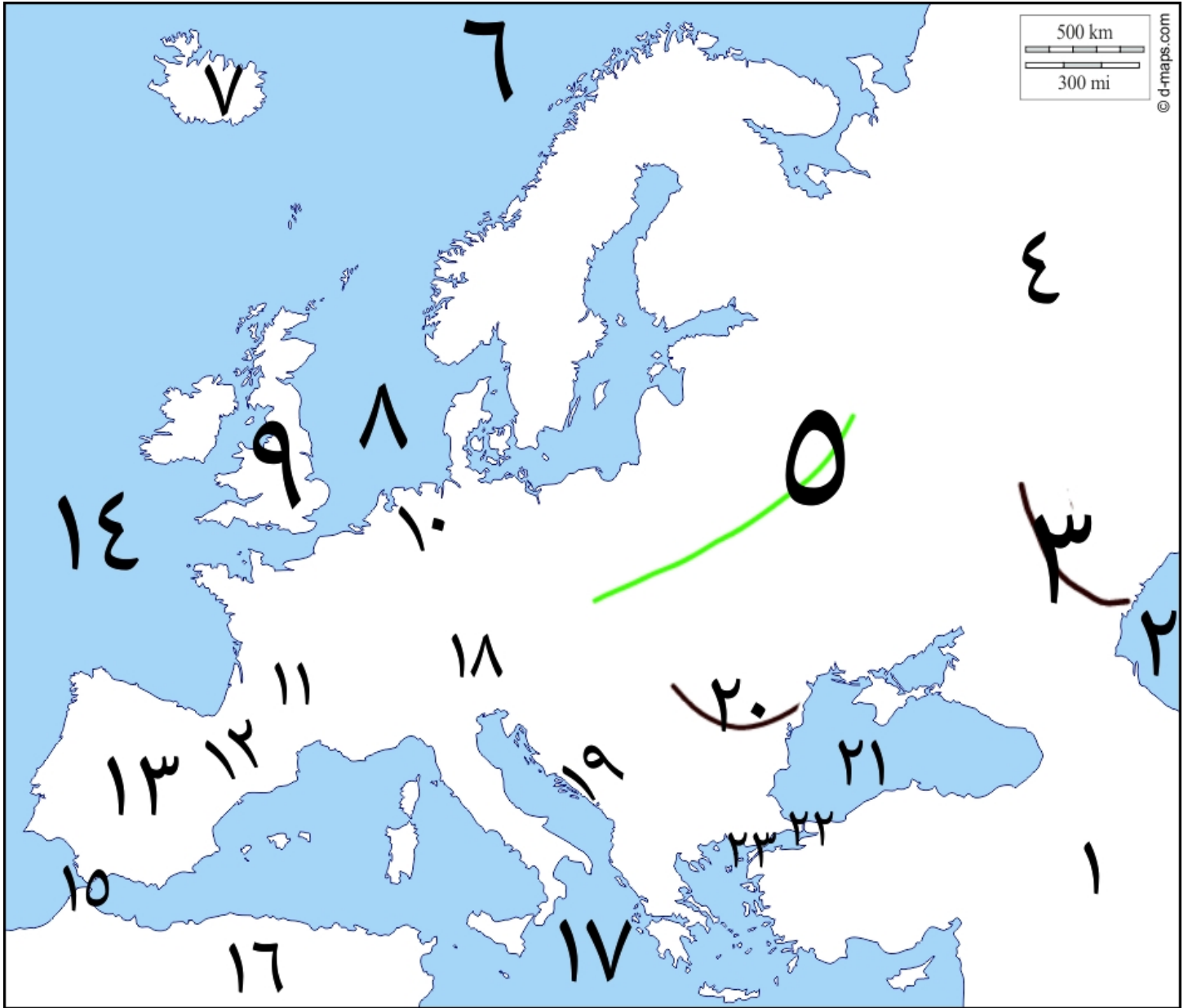
- ١- قارة ٢- جبال ٣- بحر ٤- قارة
٥- البحر ٦- البحر ٧- قارة ٨- المحيط
٩- قارة ١٠- المحيط ١١- خليج ١٢- البحر
١٣- مضيق ١٤- قارة ١٥- مدار ١٦- دائرة
١٧- مدار ١٨- قارة ١٩- المحيط ٢٠- المحيط
٢١- قارة ٢٢- بحر ٢٣- المحيط

١- تضاريس قارة آسيا

- | | | | |
|-----------|-----------|------------|----------|
| ١- المحيط | ٢- المحيط | ٣- المحيط | ٤- جبال |
| ٥- سهول | ٦- سهول | ٧- نهر | ٨- هضبة |
| ٩- جبال | ١٠- هضبة | ١١- نهر | ١٢- سهول |
| ١٣- نهر | ١٤- نهر | ١٥- نهر | ١٦- جبال |
| ١٧- بحر | ١٨- جبال | ١٩- الخليج | ٢٠- نهر |
| ٢١- نهر | ٢٢- جبال | ٢٣- البحر | ٢٤- هضبة |
| ٢٥- البحر | | | |

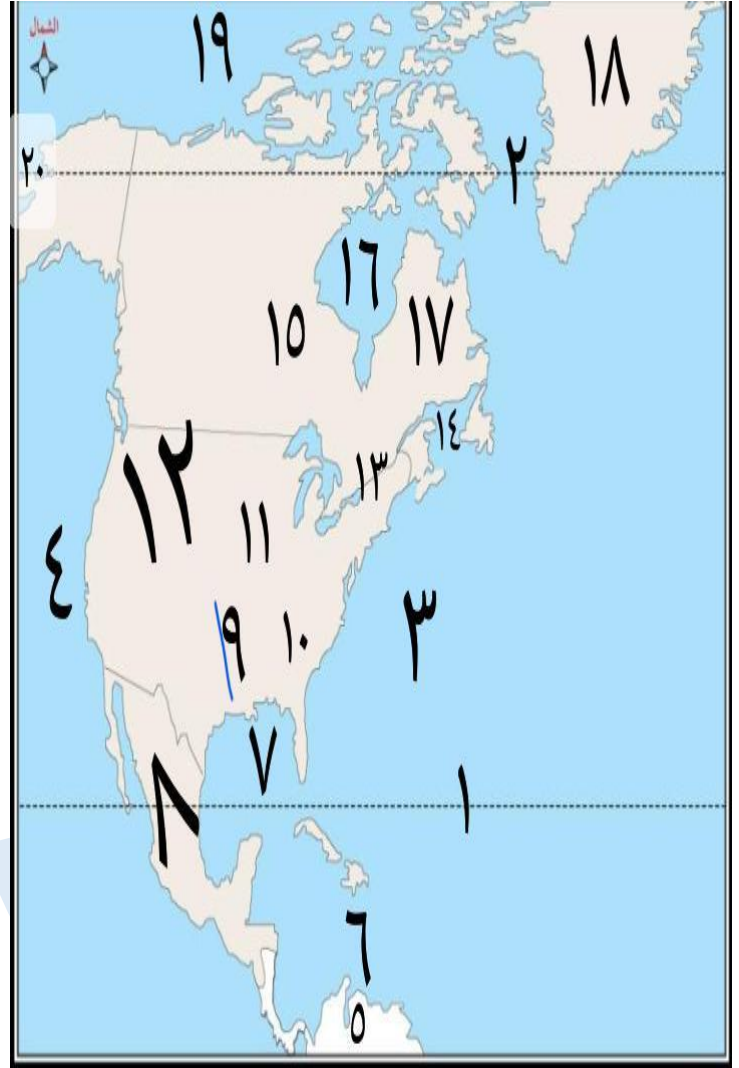
٢- تضاريس قارة أفريقيا

- | | | | |
|-----------|---------------|------------|------------|
| ١- دائرة | ٢- مدار | ٣- مدار | ٤- البحر |
| ٥- البحر | ٦- سهل صحراوي | ٧- جبال | ٨- الصحراء |
| ٩- نهر | ١٠- هضبة | ١١- المحيط | ١٢- جبل |
| ١٣- جبل | ١٤- هضبة | ١٥- جزيرة | ١٦- مضيق |
| ١٧- نهر | ١٨- جبال | ١٩- نهر | ٢٠- رأس |
| ٢١- صحراء | ٢٢- هضبة | ٢٣- المحيط | ٢٤- نهر |
| ٢٥- نهر | ٢٦- خليج | | |

٣- تضاريس قارة أوروبا

- | | | | |
|----------|----------|------------|---------------|
| ٤- جبال | ٣- نهر | ٢- بحر | ١- قارة |
| ٨- بحر | ٧- جزيرة | ٦- المحيط | ٥- السهل |
| ١٢- جبال | ١١- هضبة | ١٠- نهر | ٩- دولة جزرية |
| ١٦- قارة | ١٥- مضيق | ١٤- المحيط | ١٣- هضبة |
| ٢٠- نهر | ١٩- جبال | ١٨- جبال | ١٧- البحر |
| | ٢٣- مضيق | ٢٢- مضيق | ٢١- البحر |

٤- تضاريس قارة أمريكا الشمالية



- ١- مدار
٢- الدائرة
٣- المحيط
٤- المحيط
٥- قارة
٦- البحر
٧- خليج
٨- هضبة
٩- نهر
١٠- جبال
١١- السهول
١٢- جبال
١٣- نهر
١٤- خليج
١٥- نهر
١٦- خليج
١٧- هضبة
١٨- جزيرة
١٩- المحيط
٢٠- مضيق

أ/ غادة النوبي

٥- تضاريس قارة أمريكا الجنوبية

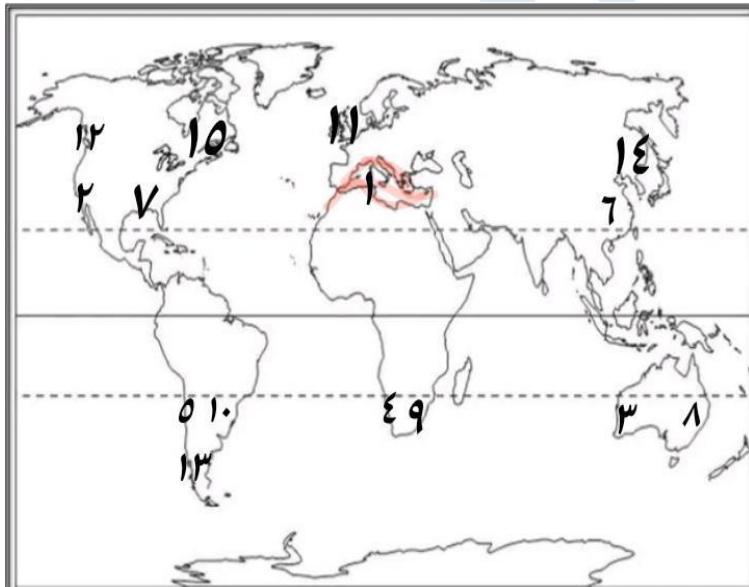


- ١- المحيط
٢- المحيط
٣- قارة
٤- البحر
٥- نهر
٦- هضبة
٧- نهر
٨- هضبة
٩- نهر
١٠- نهر
١١- جبال
١٢- سهل
١٣- نهر
١٤- هضبة
١٥- مضيق

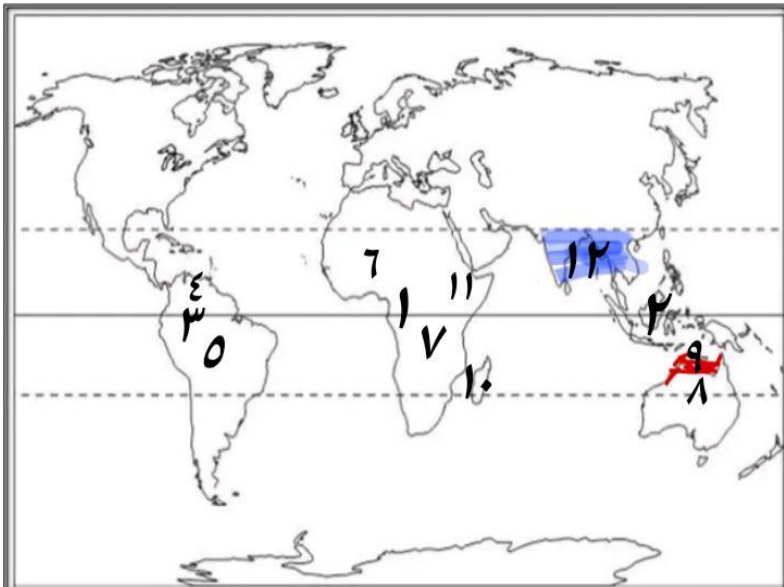
ت/ ٠١٠١٨٥١٦٦٤٢

٦- تضاريس قارة أستراليا

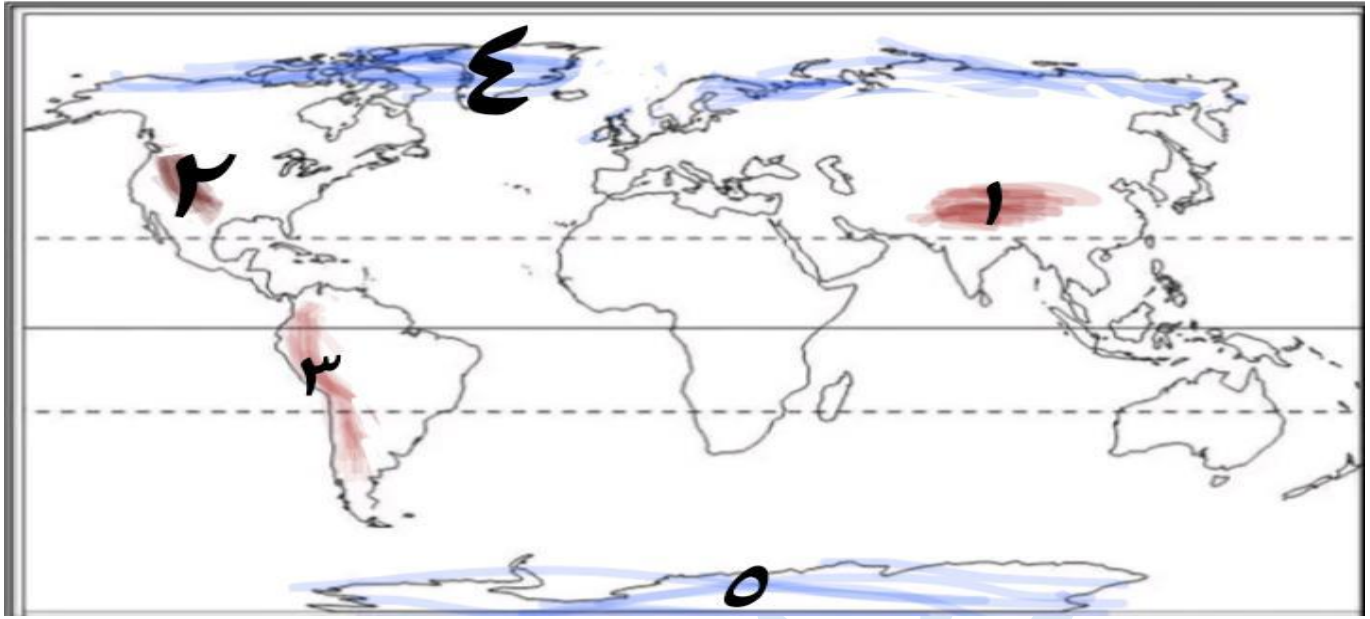
- | | | | |
|-----------|-------------|-----------|----------|
| ١- المحيط | ٢- المحيط | ٣- المحيط | ٤- جزيرة |
| ٥- الخليج | ٦- خليج | ٧- بحر | ٨- صحراء |
| ٩- الهضبة | ١٠- الصحراء | ١١- جبال | ١٢- جبال |
| ١٣- نهر | ١٤- نهر | | |

خرائط درس : المناخ والنبات الطبيعي في العالمخريطة الأقاليم المعتدلةخريطة الأقاليم الحارة

- ١ ، ٢ ، ٣ ، ٤ ، ٥ ← إقليم مناخ
- ٦ ، ٧ ، ٨ ، ٩ ، ١٠ ← إقليم مناخ
- ١١ ، ١٢ ، ١٣ ← إقليم مناخ
- ١٤ ، ١٥ ← إقليم مناخ

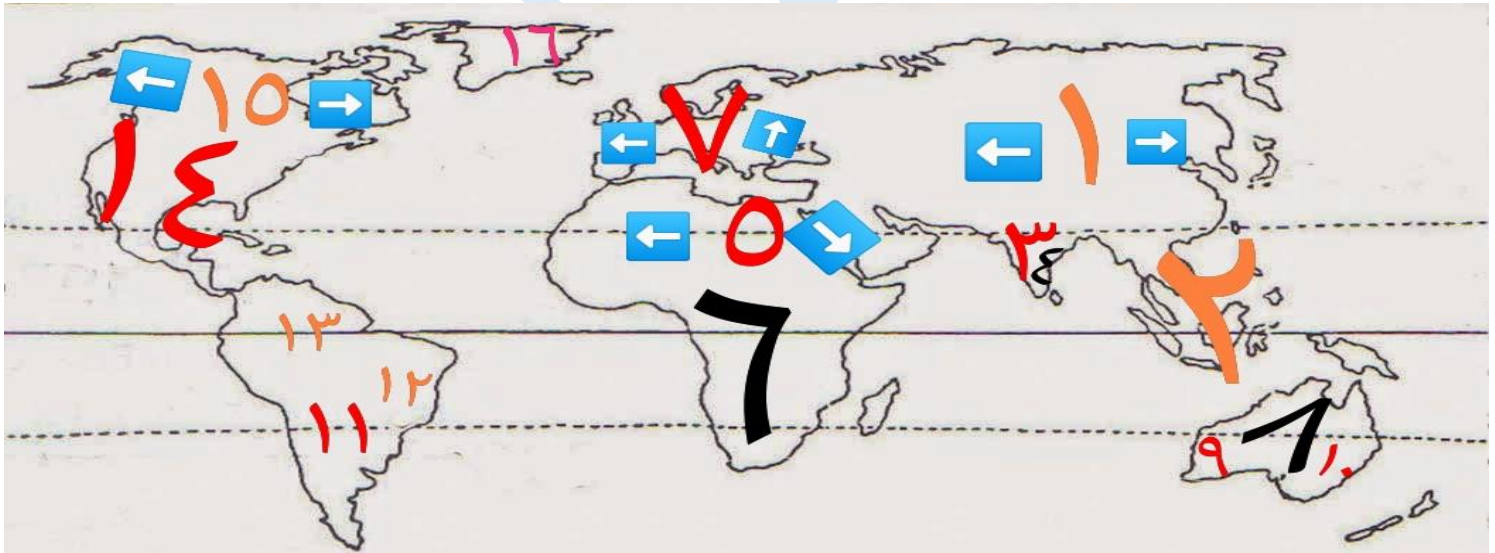


- ١ ، ٢ ، ٣ ← إقليم مناخ
- ٤ ، ٥ ، ٦ ، ٧ ، ٨ ← إقليم مناخ
- ٩ ، ١٠ ، ١١ ، ١٢ ← إقليم مناخ

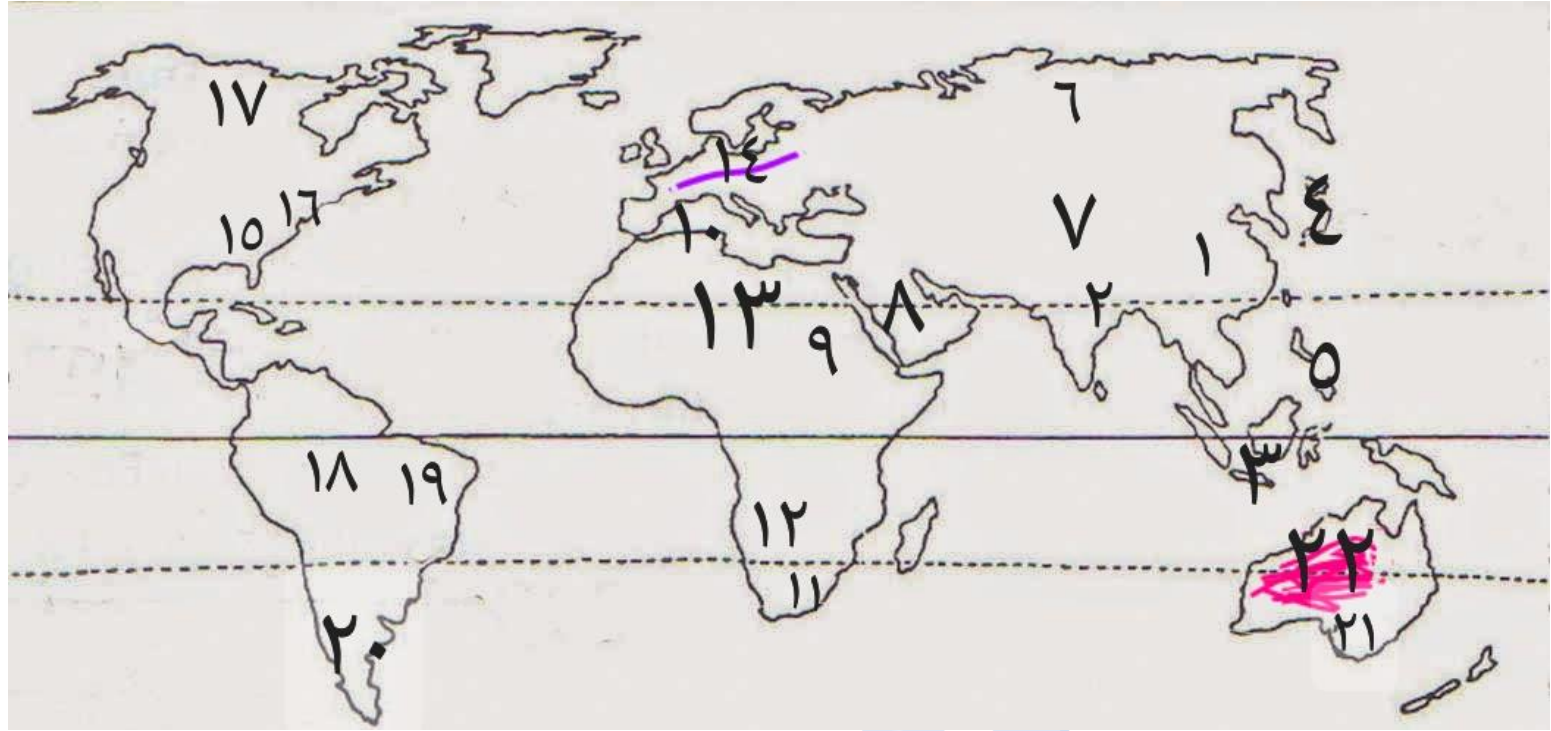


٥ ، ٤ ← إقليم مناخ

٣ ، ٢ ، ١ ← إقليم مناخ

خريطة درس : السلالات البشرية في العالم

- | | | | |
|-------------|-------------|-------------|-------------|
| ١- السلالة | ٢- السلالة | ٣- السلالة | ٤- السلالة |
| ٥- السلالة | ٦- السلالة | ٧- السلالة | ٨- السلالة |
| ٩- السلالة | ١٠- السلالة | ١١- السلالة | ١٢- السلالة |
| ١٣- السلالة | ١٤- السلالة | ١٥- السلالة | ١٦- مناطق |



- ١- منطقة تركيز سكاني
- ٢- منطقة تركيز سكاني
- ٣- أكثر منطقة إزدحاماً بالعالم
- ٤- منطقة تركيز سكاني
- ٥- منطقة تركيز سكاني
- ٦- منطقة قليلة السكان
- ٧- مناطق قليلة السكان
- ٨- منطقة صحراوية
- ٩- منطقة تركيز سكاني
- ١٠- منطقة تركيز سكاني
- ١١- منطقة تركيز سكاني
- ١٢- منطقة قليلة السكان
- ١٣- منطقة قليلة السكان
- ١٤- منطقة تركيز سكاني
- ١٥- منطقة تركيز سكاني
- ١٦- مدينة اقتصادية كبرى
- ١٧- شمال أمريكا الشمالية
- ١٨- منطقة قليلة السكان
- ١٩- أكبر دولة سكانية بأمريكا الجنوبية
- ٢٠- منطقة قليلة السكان
- ٢١- منطقة تركيز سكاني
- ٢٢- مناطق صحراوية