

المراجعة الشاملة للصف الثالث الإعدادي

السؤال الأول : أكتب المفهوم الذي تشير إليه كل عبارة مما يأتيأولاً : الجغرافيا

- ١- نشاط عرفه الإنسان منذ ما يقرب من ٥٠٠٠ سنة وعرف معه الاستقرار في الأراضي الخصبة على ضفاف الأنهار (النشاط الزراعي)
- ٢- نوع من الزراعة ينتشر في المناطق الحارة على هوامش الغابات الاستوائية وحشائش السافانا (الزراعة البسيطة أو البدائية)
- ٣- يقصد بها زراعة الأرض أكثر من مرة في العام الواحد لإشباع حاجة السكان المحليين من الغذاء (الزراعة الكثيفة)
- ٤- نوع من الزراعة تنتشر في المناطق الحارة و المعتدلة (الزراعة الكثيفة)
- ٥- زراعة تعرف بنظام الزراعة الواسعة وتهدف للإنتاج التجاري الضخم (الزراعة التجارية والعلمية)
- ٦- هو الغذاء الرئيسي لمعظم شعوب العالم ويصنع منه الخبز والمكرونه والحلويات (القمح)
- ٧- محصول مداري هام لإنتاج الخيوط التي تستخدم في صناعة أجود أنواع الملابس والمنسوجات (القطن)
- ٨- يستخرج من عصارة اشجار استوائية وتايلاند أولى دول العالم في إنتاجه (المطاط الطبيعي)
- ٩- نبات دائم الخضرة موطنه الأصلي شرق الصين (الشاي)
- ١٠- تعتبر القارة الأكبر في العالم في إنتاج القمح و القطن و المطاط الطبيعي و الشاي (آسيا)
- ١١- أولى دول العالم إنتاجاً للقمح والقطن والشاي (الصين)
- ١٢- قارة في المركز الأول في إنتاج محصول الذرة (أمريكا الشمالية)
- ١٣- دولة تعتبر اكبر دول العالم إنتاجاً لقصب السكر والسكر (البرازيل)
- ١٤- أكبر الدول الأفريقية المنتجة للبنجر (مصر)
- ١٥- أكبر دول العالم إنتاجاً للمطاط الطبيعي (تايلاند)
- ١٦- نوع من الرعي يمارسه سكان المناطق الصحراوية في مساحات واسعة بقارات العالم (الرعي البدائي)
- ١٧- نوع من الرعي يوجد في مناطق الحشائش في العالم (الرعي التجاري)
- ١٨- المصدر الرئيسي للحوم والألبان والجلود والصوف في العالم (الثروة الحيوانية)
- ١٩- المصدر الرئيسي للحوم لغالبية سكان العالم وتدخل بنسبة كبيرة في التجارة الدولية (الأبقار)
- ٢٠- ترتبط تربيتها بالمراعي التجارية الواسعة وأولى دول العالم فيها الصين (الأغنام)

- ٢١- تمثل الغذاء الرئيسي لكثير من سكان العالم خاصة في المناطق الساحلية على البحار والمحيطات (الأسماك)
- ٢٢- أكبر دول العالم في إنتاج الأبقار والألبان (الهند)
- ٢٣- أكبر دول العالم في إنتاج الأغنام واللحوم "معظمه من الخنزير" والأسماك (الصين)
- ٢٤- أكبر دول العالم في إنتاج الأصواف من أغنام المارينو الشهيرة (أستراليا)
- ٢٥- أكبر دول العالم في إنتاج الدواجن (الولايات المتحدة الأمريكية)
- ٢٦- دولة بأمريكا الجنوبية تشتهر بالرعي التجاري (الأرجنتين)
- ٢٧- القارة الأكبر في إنتاج الأبقار في العالم (آسيا)
- ٢٨- دولة أوروبية تشتهر بتصدير الأسماك (النرويج)
- ٢٩- عملية استخراج المعادن ومصادر الطاقة من فحم وبتروول وغاز طبيعي من باطن القشرة الأرضية أو بالقرب من السطح (النشاط التعديني)
- ٣٠- يعتبر من أهم المعادن المستخدمة في العديد من الصناعات مثل صناعة الحديد والصلب (الحديد)
- ٣١- يستخدم في الكثير من الصناعات مثل الاسلاك والأدوات الكهربائية (النحاس)
- ٣٢- يعتبر الخام الرئيسي لمعدن الالومنيوم وأستراليا أولى دول العالم إنتاجاً له (البوكسيت)
- ٣٣- كان عماد الثورة الصناعية في أوروبا أواخر القرن ١٨م والمصدر الأول والرئيسي للطاقة المستخدمة في العالم حتى أوائل القرن ٢٠م (الفحم)
- ٣٤- أهم مصادر الطاقة في العالم حالياً بسبب ارتباطه بالتنمية الاقتصادية والاجتماعية والعلاقات السياسية (البترول)
- ٣٥- يعد من مصادر الطاقة رخيصة الثمن وسهلة النقل والأقل تلويثاً للبيئة (الغاز الطبيعي)
- ٣٦- الكهرباء التي يتم إنتاجها من الفحم والبترول والغاز الطبيعي (الكهرباء الحرارية)
- ٣٧- الكهرباء التي يتم إنتاجها من الأمواج وحركة المد والجزر والسدود والشلالات (الكهرباء المائية)
- ٣٨- الدولة الأولى في العالم في إنتاج كل من الحديد ، والفحم (الصين)
- ٣٩- الدولة الأولى في العالم في إنتاج كل من الالومنيوم ، والغاز الطبيعي (الولايات المتحدة الأمريكية)
- ٤٠- أولى دول العالم في إنتاج النحاس (شيلي)
- ٤١- أولى دول العالم في إنتاج البترول (السعودية)
- ٤٢- أكثر الدول العربية في إنتاج كل من الطاقة الكهربائية من الرياح ،، والطاقة الشمسية (مصر)
- ٤٣- القارة الأولى في العالم في إنتاج كل من الغاز الطبيعي ،، والطاقة النووية (أوروبا)
- ٤٤- يعد في قمة الأنشطة الاقتصادية المتطورة (النشاط الصناعي)

٤٥- تجمع اقتصادي وسياسي يضم معظم دول أوروبا ويهدف للوحدة الاقتصادية الأوروبية والتكامل (هيئة الاتحاد الأوروبي)

٤٦- أكبر الأقاليم الصناعية في العالم الجديد ويشمل منطقة البحيرات العظمى (إقليم شمال شرق الولايات المتحدة)

٤٧- يبدو في مناطق متباعدة أهمها إقليم موسكو وإقليم الأورال (إقليم روسيا وأوكرانيا)

٤٨- إقليم صناعي أهم مراكزه جزيرة هنشو باليابان وجمهورية كوريا ومناطق بالصين (إقليم شرق آسيا)

٤٩- عبارة عن شبه جزيرة تحيط بها المياه من جميع الجهات عدا الشمال وهي علي شكل مثلث رأسه في الجنوب (الهند)

٥٠- دولة يقع معظمها داخل حدود دولة الهند (بنجلاديش)

٥١- هضبة ممتدة في شكل مثلث متقطع الأنهار وسط الهند، وتتركز فيها مناجم الفحم (هضبة الدكن)

٥٢- سهول ساحلية في الهند تمتد على خليج البنغال شرقاً (سهول كروماندل)

٥٣- سهول ساحلية في الهند تمتد على البحر العربي غرباً (سهول ملبار)

٥٤- العاصمة السياسية للهند وتتميز بالجامعات والمراكز الصناعية والمعالم التاريخية المهمة (نيودلهي)

٥٥- العاصمة التجارية وأهم مدن الساحل الغربي، ومن أكبر الموانئ والمدن الصناعية بالهند (بومباي)

٥٦- مدينة توجد بهضبة الدكن ومن أكبر مراكز الصناعات اليدوية وتضم عديد من المراكز الإسلامية (حيدر اباد)

٥٧- مسطح مائي يحد البرازيل من الشرق والشمال الشرقي (المحيط الأطلنطي)

٥٨- مظهر تضاريسي يسود معظم الأراضي البرازيلية (المظهر الهضبي)

٥٩- سهول فيضية تقع في شمال البرازيل عند دائرة الاستواء (سهول نهر الأمازون)

٦٠- تعد أكبر غابة استوائية في العالم (الغابات الاستوائية في حوض نهر الامازون)

٦١- السكان الأصليون لدولة البرازيل (الهنود الحمر)

٦٢- دولة يمثل سكانها نصف سكان أمريكا الجنوبية ومساحتها نصف مساحة أمريكا الجنوبية (البرازيل)

٦٣- مدينة أنشأتها البرازيل لتعمير هضبة البرازيل وإعادة توزيع السكان نحو الداخل وهي العاصمة الحالية (برازيليا)

٦٤- محاصيل زراعية تعتبر البرازيل الأولى في العالم في إنتاجهما (قصب السكر و البن)

٦٥- العاصمة القديمة للبرازيل وتعد واحدة من أجمل مدن العالم (ريودي جانيرو)

٦٦- أهم الموانئ بالبرازيل وتقع على المحيط الأطلنطي وتشتهر بمبانيها الضخمة وشواطئها الرملية الواسعة (ساوباولو)

٦٧- نهر تعتمد عليه نيجيريا في الري والزراعة (نهر النيجر)

- ٦٨- هضبة تقع وسط السهول الشمالية في نيجيريا ويستخرج منها القصدير (هضبة جوس)
- ٦٩- مناخ يسود معظم دولة نيجيريا عدا الأطراف الجنوبية التي تنتمي للمناخ الاستوائي (المداري الحار)
- ٧٠- تعد أكبر دول قارة أفريقيا من حيث السكان وتقع غرب أفريقيا (نيجيريا)
- ٧١- النشاط الاقتصادي الذي تعتمد عليه نيجيريا في المقام الأول (الزراعة)
- ٧٢- محصول زراعي تعد نيجيريا أولى دول أفريقيا إنتاجاً له (المطاط)
- ٧٣- العاصمة الحالية لنيجيريا وهي مدينة داخلية حديثة (أبوجا)
- ٧٤- العاصمة القديمة لنيجيريا وأكبر المدن وأكثرها كثافة بالسكان وتعتبر العاصمة الاقتصادية (لاجوس)
- ٧٥- مدينة نيجيرية تعتبر مركز للتجارة والتعليم والمواصلات (إيبادان)
- ٧٦- يعد من أكبر الأقاليم التضاريسية في ألمانيا، وهو جزء من السهل الأوروبي العظيم الخصب (السهل الألماني الشمالي)
- ٧٧- عبارة عن هضاب متقطعة بألمانيا تفصل بينها سهول خصبة تجرى فيها الأنهار، وتغطي بالغابات المخروطية وتكثر بها التلال والينابيع المائية (المرتفعات الوسطى)
- ٧٨- المناخ الذي يسود دولة ألمانيا (مناخ غرب أوروبا)
- ٧٩- تعد العمود الفقري للاقتصاد الألماني ويعمل بها نحو ثلث القوى العاملة (الصناعة)
- ٨٠- أهم الموانئ الألمانية وقريبة من بحر الشمال (هامبورج)
- ٨١- العاصمة السياسية لدولة ألمانيا (برلين)
- ٨٢- عاصمة إقليم بافاريا جنوباً ويوجد بها مقر عدد من الشركات والمصانع الألمانية العالمية (ميونيخ)
- ٨٣- ولاية أمريكية عبارة عن مجموعة جزر تقع وسط المحيط الهادي (ولاية هاواي)
- ٨٤- ولاية أمريكية تقع في أقصى الشمال الغربي لأمريكا الشمالية ويقبل بها السكان لبرودة الجو (ولاية أسكا)
- ٨٥- دولة تتكون من ٥٠ ولاية وتقع بأمريكا الشمالية وتعتبر القوة الاقتصادية والصناعية الأولى في العالم (الولايات المتحدة الأمريكية)
- ٨٦- إقليم في المنطقة الشمالية الشرقية بالولايات المتحدة يتركز فيه ٥٠٪ من السكان (إقليم نيو إنجلند)
- ٨٧- أكبر مدن السهول الوسطى في الولايات المتحدة وتقع على بحيرة متشجن (شيكاغو)
- ٨٨- ميناء مهم وتطل على المحيط الأطلنطي ويوجد بها مقر الأمم المتحدة (نيويورك)
- ٨٩- العاصمة السياسية للولايات المتحدة وتطل على المحيط الأطلنطي (واشنطن)
- ٩٠- أكبر الموانئ الأمريكية على ساحل المحيط الهادي (سان فرانسيسكو)

- ١- مجموعة ضباط من الجيش المصري الذين نظموا صفوفهم في سرية تامة بهدف القيام بثورة للقضاء على الفساد وتحرير واستقلال مصر من الاحتلال البريطاني (تنظيم الضباط الأحرار)
- ٢- سوء توزيع ملكية الأرض الزراعية وامتلاك فئة صغيرة لمساحات كبيرة من الأراضي الزراعية وتسخير الفلاحين في زراعتها (الإقطاع)
- ٣- منظمة دولية قامت على أساس عدم الانضمام إلى أي من الكتلتين الشرقية والغربية وساهمت مصر في تأسيسها وأصبحت حالياً كياناً ضخماً يضم ١١٨ دولة (حركة عدم الانحياز)
- ٤- دولة عربية صار بينها وبين مصر وحدة سياسية فبراير ١٩٥٨ م (سوريا)
- ٥- إجراء حكومي تم من خلاله تمصير شركة قناة السويس وشركات التأمين والبنوك (التأميم)
- ٦- توزيع الثروات القومية بين المواطنين توزيعاً عادلاً (عدالة اجتماعية)
- ٧- يوصف بوعد ممن لا يملك لمن لا يستحق (وعد بلفور)
- ٨- مؤتمر عقد بإيطاليا إبريل ١٩٢٠ م واعطى لبريطانيا حق الانتداب على فلسطين (مؤتمر سان ريمو)
- ٩- حرب شنتها كل من بريطانيا وفرنسا وإسرائيل على مصر عام ١٩٥٦ م (العدوان الثلاثي على مصر)
- ١٠- معركة نجحت فيها القوات المصرية في هزيمة القوات الإسرائيلية عندما حاولت احتلال مدينة بورفؤاد (معركة رأس العش)
- ١١- قامت صواريخ البحرية المصرية في أكتوبر ١٩٦٧ م بتدميرها (المدمرة الإسرائيلية إيلات)
- ١٢- المرحلة الأولى من إعادة بناء القوات المسلحة وشملت معركة رأس العش وتدمير المدمرة الإسرائيلية إيلات (مرحلة الصمود والتصدي)
- ١٣- المرحلة الثانية من إعادة بناء القوات المسلحة ويقصد بها استنزاف طاقات العدو الإسرائيلي في سيناء (حرب الاستنزاف والمواجهة)
- ١٤- مبادرة قدمها وزير خارجية الولايات المتحدة لوقف إطلاق النار وحل النزاع سلمياً (مبادرة روجرز)
- ١٥- دستور جديد أصدره الرئيس السادات ١٩٧١ م ضمن خطوات تهيئة الجبهة الداخلية للحرب وأطلق عليه الدستور الدائم وأقر مبادئ تعدد الأحزاب وسيادة القانون واستقلال القضاء (دستور ١٩٧١ م)
- ١٦- أسطورة إسرائيل الذي تم تدميره في ست ساعات بحرب أكتوبر ١٩٧٣ م (خط بارليف)
- ١٧- حرب دفاعية في المقام الأول، انتصرت فيها مصر وسوريا على إسرائيل (حرب أكتوبر ١٩٧٣ م)
- ١٨- خط الدفاع الإسرائيلي في هضبة الجولان الذي دمرته القوات السورية تماماً في حرب أكتوبر ١٩٧٣ م (خط ألون)
- ١٩- دولة اجتمع فيها وزراء النفط العربي وقرروا حظر الصادرات النفطية للولايات المتحدة (الكويت)

٢٠- منطقة حدثت بها ثغرة أثناء حرب أكتوبر نتيجة تقديم الولايات المتحدة معلومات عسكرية لإسرائيل ساعدتها في ذلك (**منطقة الدفرسوار**)

٢١- قرار أصدره مجلس الأمن، يقضي بوقف جميع الأعمال الحربية بدءاً من يوم ٢٢ أكتوبر ١٩٧٣م (**قرار رقم ٣٣٨**)

٢٢- مبادرة ترتب عليها تمهيد الطريق أمام إسرائيل لقبول مبدأ التفاوض مع الأطراف المعنية بقضية الصراع العربي / الإسرائيلي (**مبادرة الرئيس السادات لزيارة إسرائيل ١٩٧٧م**)

٢٣- مؤتمر ١٩٧٨م تم التوصل فيه إلى إطار اتفاق "معاهدة" للسلام بين مصر وإسرائيل (**مؤتمر كامب ديفيد**)

٢٤- اتفاقية جمعت مصر وإسرائيل بمشاركة ورعاية الولايات المتحدة الأمريكية ١٩٧٩م نتج عنها رفع العلم المصري فوق سيناء عدا منطقة طابا (**معاهدة السلام**)

٢٥- هيئة دولية أصدرت حكمها بأحقية مصر وسيادتها على طابا (**هيئة التحكيم بمحكمة العدل الدولية**)

٢٦- مؤتمر دعا إلى حل الصراع العربي الإسرائيلي على أساس مبدأ الأرض مقابل السلام (**مؤتمر مدريد للسلام**)

٢٧- اتفاقية تم توقيعها بواشنطن عام ١٩٩٣م بين إسرائيل ومنظمة التحرير الفلسطينية بعد محادثات سرية (**اتفاقية أوسلو للسلام**)

٢٨- من الثورات الفريدة في التاريخ المصري الحديث والمعاصر، حيث ساهمت التكنولوجيا المتطورة ووسائل الاتصال في اندلاعها لتشمل شتى أنحاء البلاد (**ثورة ٢٥ يناير ٢٠١١م**)

٢٩- ميدان بالقاهرة كان مكاناً رئيسياً للتظاهر بثورة يناير (**ميدان التحرير**)

٣٠- ثورة نتج عنها عزل محمد مرسي في ٣ يوليو ٢٠١٣م وتسليم السلطة إلى المستشار عدلي منصور رئيس المحكمة الدستورية العليا لحين إجراء انتخابات رئاسية مبكرة (**ثورة ٣٠ يونيو ٢٠١٣م**)

٣١- قيام الشعب بانتخاب ممثلين لإدارة شؤون الحكم في البلاد وسن القوانين ومراقبة أعمال الحكومة نيابة عنه (**الحياة النيابية**)

٣٢- مجلس نيابي أنشأه الخديو اسماعيل ١٨٦٦م (**مجلس شورى النواب**)

٣٣- وثيقة رسمية تحدد نظام الحكم في الدولة وشكل واختصاصات المؤسسات الدستورية المختلفة (**دستور**)

٣٤- يطلق على المجالس النيابية التي تتولى السلطة التشريعية في الدولة (**برلمان**)

٣٥- أول دستور لمصر بعد ثورة يوليو ١٩٥٢م والذي نص على أن السلطة التشريعية تكون في يد مجلس منتخب هو مجلس الأمة، وحصلت فيه المرأة على حق الانتخاب والترشح (**دستور ١٩٥٦م**)

٣٦- يعتبر هو رئيس السلطة التنفيذية في مصر (**رئيس الدولة**)

٣٧- سلطة يمثلها مجلس النواب والذي مدته خمس سنوات (**السلطة التشريعية**)

٣٨- سلطة تشمل كل من الحكومة والإدارة المحلية في مصر (**السلطة التنفيذية**)

٣٩- سلطة تتمثل في المحاكم على اختلاف أنواعها (**السلطة القضائية**)

٤٠- أول مدرسة لتعليم البنات عام ١٨٧٣م وأنشائها الخديو اسماعيل استجابة لدعوة رفاة الطهطاوي بتعليم البنات (مدرسة السنية)

٤١- أول مجلة نسائية مصرية ظهرت عام ١٩٠٧م واصدرتها جميلة حافظ (مجلة الريحانة)

٤٢- مجلس تم انشائه لتدعيم الدولة مكانة المرأة على كافة المستويات (المجلس القومي للمرأة)

٤٣- تضم جمعيات المجتمعات المحلية والمنظمات غير الحكومية والنقابات العمالية والجمعيات الخيرية (منظمات المجتمع المدني)

٤٤- منظمة تجمع عدداً من الدول المستقلة التي ترتبط ببعضها بروابط معينة (المنظمة الإقليمية)

٤٥- منظمة تضم في عضويتها دول العالم المستقلة وإن لم ترتبط ببعضها بروابط معينة (المنظمة الدولية)

٤٦- يعد أول وثيقة تخص الجامعة العربية بشكلها الحالي و أقر عام ١٩٤٥م مبادئ قيامها (ميثاق القاهرة)

٤٧- منظمة إقليمية ضمت عند توقيعها سبع دول عربية والان عددها ٢٢ دولة وكان لمصر دور رائد في إنشائها (جامعة الدول العربية)

٤٨- يعد أعلى سلطة داخل الجامعة ويتألف من جميع الدول الأعضاء (مجلس الجامعة)

٤٩- لجان معينة بكل مجالات التعاون فيما بين الدول الأعضاء وعددها حالياً ١٢ لجنة (اللجان الدائمة)

٥٠- تتكون من الأمين العام وعدد من الأمناء المساعدون وعدد من الموظفين (الأمانة العامة)

٥١- منظمة شاركت مصر في تأسيسها بعد أن تحررت معظم الدول الأفريقية من الاستعمار وتولت كذلك رئاستها للمرة الثالثة عام ٢٠١٩م (الاتحاد الأفريقي)

٥٢- دولة استضافت أول قمة أفريقية على أرضها عام ١٩٦٤م (مصر)

٥٣- منظمة تضم الدول الإسلامية وساهمت مصر في فكرة إنشائها (منظمة المؤتمر الإسلامي)

٥٤- مدينة عقد بها مؤتمر القمة الإسلامي عام ١٩٦٩م (الرباط بالمغرب)

٥٥- منظمة دولية أنشئت عام ١٩٤٥م وتضم في عضويتها جميع دول العالم المستقلة ومقرها مدينة نيويورك (منظمة الأمم المتحدة)

٥٦- تضم جميع الدول الأعضاء في الأمم المتحدة ولكل دولة صوت واحد (الجمعية العامة)

٥٧- يرأسها الأمين العام ومقرها نيويورك (الأمانة العامة)

٥٨- يعد أهم أجهزة الأمم المتحدة لأنه مسئول عن حفظ الأمن والسلم الدوليين (مجلس الأمن)

٥٩- يختص برعاية مصالح شعوب البلدان التي كانت مستعمرات والأخذ بيدها نحو الحكم الذاتي والاستقلال (مجلس الوصاية)

٦٠- الجهاز القضائي الأساسي للأمم المتحدة ومقرها لاهاي بهولندا وتختص بالنظر في القضايا التي تضعها الدول أمامها (محكمة العدل الدولية)

٦١- مسنول عن نشاط الأمم المتحدة الاقتصادية والاجتماعي (المجلس الاقتصادي والاجتماعي)

٦٢- هي منظمة متخصصة في التربية والعلوم والثقافة وتعاونت مع مصر في إنقاذ معابد أبو سمبل من الغرق وإحياء مكتبة الإسكندرية (منظمة اليونسكو)

٦٣- منظمة أنشئت ١٩٤٨م ومقرها مدينة جنيف بسويسرا وهدفها توفير الرعاية الصحية لجميع الشعوب (منظمة الصحة العالمية)

٦٤- منظمة متخصصة في المجال الزراعي ومقرها روما بإيطاليا وهدفها القضاء الأعلى الجوع ومساعدة البلدان النامية (منظمة الأغذية والزراعة " الفاو ")

٦٥- المنظمة الوحيدة المتخصصة في مجال الطفولة والتي أعلنت حقوق الطفل ١٩٥٩م (منظمة اليونيسيف)

السؤال الثاني : إلى من تنسب الأعمال الآتية

١- مؤسس تنظيم الضباط الأحرار الذي قاد ثورة ٢٣ يوليو ١٩٥٢م (جمال عبد الناصر)

٢- حاكم قامت القوات الإنجليزية بحصار قصره وإجباره على تعيين مصطفى النحاس باشا رئيساً للحكومة (الملك فاروق)

٣- أذاع البيان الأول للثورة في ٢٣ يوليو ١٩٥٢م من دار الإذاعة المصرية (محمد أنور السادات)

٤- أصبح بموجب البيان الأول للثورة مسيطراً على جميع قطاعات الجيش المصري (اللواء محمد نجيب)

٥- غادر البلاد هو وأسرتة قبل الموعد المحدد لأنه أدرك أن الجيش والشعب يكرهان حكمه والإنجليز تخلوا عنه (الملك فاروق)

٦- تم تعيينه كأول رئيس للجمهورية المصرية بعد إلغاء الملكية وإعلان الجمهورية (اللواء محمد نجيب)

٧- وزير خارجية بريطانيا الذي أصدر وعد لليهود، والذي نص على تعهد بريطانيا لهم ببذل مساعيها لإنشاء وطن قومي لليهود في فلسطين (جيمس بلفور)

٨- الدول المنتصرة في الحرب العالمية الأولى والتي قررت وضع فلسطين تحت الانتداب البريطاني مع تنفيذ وعد بلفور (دول الحلفاء)

٩- قام بالعديد من الحركات الوطنية مثل انتفاضة ١٩٢٩م وثورة ١٩٣٦م بقيادة اللجنة العربية (الشعب الفلسطيني)

١٠- وافقت على تقسيم فلسطين عام ١٩٤٧م إلى دولة عربية ودولة يهودية وتدويل منطقة القدس (هيئة الأمم المتحدة)

١١- عرضت على هيئة الأمم المتحدة حل القضية الفلسطينية إلى دولة عربية ودولة يهودية وتدويل منطقة القدس (بريطانيا)

١٢- رفضوا مشروع تقسيم فلسطين ١٩٤٧م (الدول العربية)

١٣- امتنعت عن التصويت على قرار تقسيم فلسطين وسحبت قواتها وانتهت الانتداب على فلسطين (بريطانيا)

١٤- وافقوا على قرار التقسيم وارتكبوا مذبحه دير ياسين واعلنوا قيام دولة إسرائيل ١٩٤٨م (اليهود)

- ١٥- تقدمت إلى مجلس الأمن باقتراح لوقف القتال وإقامة هدنة مدتها شهر بعد تحقيق الجيوش العربية انتصارات على القوات الاسرائيلية في حرب فلسطين ١٩٤٨م (الولايات المتحدة الأمريكية)
- ١٦- لم يلتزموا بالهدنة التي وضعها مجلس الأمن وبدأوا في تقوية قواتهم من حيث العدد والتسليح والتدريب وتفوقوا على القوات العربية في حرب فلسطين ١٩٤٨م (اليهود)
- ١٧- دولة هددت بالتدخل لوقف العدوان الثلاثي على مصر (الاتحاد السوفيتي "سابقاً")
- ١٨- دولة صورت المواقع المصرية بأجهزة التجسس لصالح إسرائيل وساندها عسكرياً واقتصادياً وسياسياً في حرب ١٩٦٧م (الولايات المتحدة الأمريكية)
- ١٩- وزير خارجية الولايات المتحدة الذي قدم مبادرة لوقف إطلاق النار أثناء حرب الاستنزاف لحل النزاع بين مصر وإسرائيل سلمياً (روجرز)
- ٢٠- رئيس أركان حرب القوات المسلحة واحد الأعمدة الأساسية التي اعتمد عليها الرئيس جمال عبد الناصر في إعادة بناء وتنظيم القوات المسلحة في حرب الاستنزاف والذي استشهد أثناء حرب الاستنزاف (الفريق أول عبد المنعم رياض)
- ٢١- رئيس مصري توفى في سبتمبر ١٩٧٠م بعد مرحلة طويلة من الكفاح لتحقيق حلم الاستقلال والتقدم للأمة (جمال عبد الناصر)
- ٢٢- الرئيس الذي خلف جمال عبد الناصر في حكم مصر وفي عهده حدثت حرب أكتوبر ١٩٧٣م (محمد أنور السادات)
- ٢٣- أعطى إشارة بدء الحرب والعمليات العسكرية في حرب أكتوبر ١٩٧٣م (الرئيس محمد أنور السادات)
- ٢٤- قائد سلاح الطيران في حرب أكتوبر والذي قام بضربة جوية ناجحة (محمد حسني مبارك)
- ٢٥- أصدروا قرار في اجتماعهم بالكويت بتخفيض انتاج البترول وحظر تصديره للولايات المتحدة لمساندتها إسرائيل (وزراء النفط العربي)
- ٢٦- أقامت جسراً جويّاً لتقديم المساعدات العسكرية لإسرائيل بالإضافة لمعلومات عسكرية ساعدت إسرائيل في إحداث ثغرة الدفرسوار (الولايات المتحدة الأمريكية)
- ٢٧- أصدر قرار رقم ٣٣٨ بوقف الأعمال الحربية بين مصر وإسرائيل بدءاً من ٢٢ أكتوبر ١٩٧٣م (مجلس الأمن الدولي)
- ٢٨- تولى القيادة العامة الموحدة للقوات المصرية السورية في حرب أكتوبر ١٩٧٣م وتولى التخطيط والتنسيق على الجبهتين وقاد خطة الخداع وحصل على وسام نجمة سيناء (المشير أحمد إسماعيل)
- ٢٩- عينه الرئيس السادات رئيساً لأركان حرب القوات المسلحة عام ١٩٧١م حتى ١٣ ديسمبر ١٩٧٣م وقام بتنفيذ خطة العبور وتحطيم خط بارليف وتم تكريمه في الذكرى ٣٩ لنصر أكتوبر بمنح اسمه قلادة النيل العظمى (الفريق سعد الدين الشاذلي)

٣٠- شغل منصب رئيس هيئة عمليات القوات المسلحة، والتي أعدت دراسة لأنسب التوقيتات للقيام بالعمليات الهجومية على إسرائيل مما كان له الأثر في إحراز النصر، وأصبح رئيساً لأركان حرب القوات المسلحة ديسمبر ١٩٧٣م **(الفريق محمد عبد الغني الجمسي)**

٣١- بادر بزيارة إسرائيل ١٩٧٧م لإنهاء الصراع العربي الإسرائيلي سلمياً وتحقيق السلام العادل ويطلق عليه بطل الحرب والسلام **(الرئيس محمد أنور السادات)**

٣٢- دعا كلاً من الرئيس المصري السادات ورئيس وزراء إسرائيل بيغن لعقد اجتماعات في كامب ديفيد بالولايات المتحدة **(الرئيس الأمريكي جيمي كارتر)**

٣٣- رئيس مصري عادت طابا إلى السيادة المصرية ١٩٨٩ في عهده **(محمد حسني مبارك)**

٣٤- كانت راعية لاتفاقية السلام بين مصر وإسرائيل ولاتفاقيه أوصلو للسلام بين إسرائيل ومنظمة التحرير الفلسطينية **(الولايات المتحدة الأمريكية)**

٣٥- استمر العمل بقانون الطوارئ منذ توليه الحكم اكتوبر ١٩٨١م **(الرئيس محمد حسني مبارك)**

٣٦- الحزب الحاكم الذي حصل على ٩٧٪ من مقاعد الانتخابات البرلمانية المزورة لمجلس الشعب ٢٠١٠م **(الحزب الوطني)**

٣٧- إتخذ بعض الإجراءات لامتناس غضب الجماهير في ثورة يناير مثل تعيين نائب للرئيس وتشكيل حكومة جديدة **(الرئيس محمد حسني مبارك)**

٣٨- تخلى عن الرئاسة في ١١ فبراير ٢٠١١م وسلم إدارة شئون البلاد للمجلس الأعلى للقوات المسلحة **(الرئيس محمد حسني مبارك)**

٣٩- كان دائماً قوة مساندة للشعب المصري وليس أداة لدى النظام لقمع المتظاهرين **(الجيش المصري)**

٤٠- مرشح حزب الحرية العدالة الذي تولى حكم البلاد نتيجة فوزه في انتخابات رئاسة الجمهورية ٢٠١٢م **(محمد مرسي)**

٤١- أعلنت في ٢٣ يونيو ٢٠١٣م بياناً بالتدخل لمنع انزلاق مصر في نفق مظلم من الصراع والاقتتال و دعت لتفاهم ومصالحة حقيقية بين الرئيس مرسي والمعارضة خلال أسبوع **(القوات المسلحة)**

٤٢- رفض الموافقة على إجراء انتخابات رئاسية مبكرة وخرجت جموع الشعب المصري ضده في ثورة ٣٠ يونيو ٢٠١٣م **(الرئيس محمد مرسي)**

٤٣- تم عزله في ٣ يوليو ٢٠١٣م وتسليم السلطة للمستشار عدلي منصور رئيس المحكمة الدستورية العليا **(الرئيس محمد مرسي)**

٤٤- رئيس المحكمة الدستورية العليا الذي تسلم السلطة عقب عزل الرئيس مرسي بعد ثورة ٣٠ يونيو و لحين إجراء انتخابات رئاسية مبكرة وتعديل دستور ٢٠١٢م **(المستشار عدلي منصور)**

٤٥- نجح في الانتخابات الرئاسية التي عقدت بناءً على دستور يناير ٢٠١٤م وأعلن فوزه بالرئاسة **(عبد الفتاح السيسي)**

٤٦- أنشأ مجالس استشارية لا سلطة لها مثل مجلس المشورة والمجلس العالي (محمد علي باشا)

٤٧- أنشأ مجلس شورى النواب عام ١٨٦٦م (الخدوي إسماعيل)

٤٨- أنشأ مجلس شورى القوانين والجمعية العمومية والجمعية التشريعية (الاحتلال الإنجليزي)

٤٩- أصدر أول دستور لمصر بعد الثورة وهو دستور ١٩٥٦م والذي نص على أن السلطة التشريعية تكون في يد مجلس الأمة (الرئيس جمال عبد الناصر)

٥٠- أصدر دستور ١٩٧١م والذي أطلق عليه الدستور الدائم والذي أقر التعددية الحزبية واستقلال القضاء (الرئيس محمد أنور السادات)

٥١- أنشأ أول مدرسة لتعليم البنات عام ١٨٧٣م وهي مدرسة السنية (الخدوي إسماعيل)

٥٢- أصدرت أول مجلة نسائية مصرية "الريحانة" عام ١٩٠٧م (جميلة حافظ)

٥٣- تم انتخابها رئيساً للجنة الوفد المركزية للسيدات ١٩٢٠م (هدى شعراوي)

٥٤- كانت أول وزيرة للشئون الاجتماعية عام ١٩٦٢م (حكمت أبو زيد)

٥٥- أصبحت وزيرة للشئون الاجتماعية في عهد الرئيس السادات ١٩٧١م (الدكتورة عائشة راتب)

٥٦- تولت منصب رئيس اللجنة التشريعية بمجلس الشعب (الدكتورة آمال عثمان)

٥٧- يعين بموافقة مجلس الجامعة العربية بأغلبية الثلثين لمدة خمس سنوات (الأمين العام)

٥٨- ألقى كلمته في الاحتفال بيوم أفريقيا ٢٠١٩م و أكد على ضرورة سعي دول القارة نحو تطوير ثرواتها البشرية وتعزيز مكانة المرأة الأفريقية (الرئيس عبد الفتاح السيسي)

٥٩- يتم تعيينه عن طريق الجمعية العامة بناءً على توصية من مجلس الأمن لفترة خمس سنوات (الأمين العام للأمم المتحدة)

السؤال الثالث : بم تفسر

أولاً : الجغرافيا

١- يعد النشاط الزراعي من الأنشطة الاقتصادية الأساسية في العالم ؟

* يمثل مصدراً رئيساً لغذاء الإنسان بجانب الأسماك والحيوانات * يرتبط بتربية الحيوان

* يعد مصدراً مهماً للمواد الخام الزراعية التي تدخل في الصناعة مثل الألياف التي تدخل في صناعة المنسوجات والمطاط الذي يدخل في صناعة إطارات السيارات

٢- تتطلب الزراعة الكثيفة أيدي عاملة وفيرة ؟

* لأنها تتم من خلال عمليات عديدة مثل بذر الحبوب والري وتنقية الحشائش

٣- زراعة الأرض أكثر من مرة في العام الواحد في الزراعة الكثيفة ؟

* لإشباع حاجة السكان المحليين من الغذاء

٤- يصعب استخدام الآلات والميكنة الزراعية في الزراعة الكثيفة ؟

* لصغر مساحات الحقول الزراعية

٥- أهمية الزراعة التجارية والعلمية ؟

* تهدف للإنتاج التجاري الضخم

٦- يعتبر القمح الغذاء الرئيسي لمعظم شعوب العالم ؟

* حيث يصنع منه الخبز والمكرونات والحلويات وينتج في كل قارات العالم

٧- أهمية محصول الذرة في أمريكا الشمالية ؟

* يستخدم معظم الإنتاج كعلف للماشية ويصدر جزء منه إلى الخارج

٨- زراعة قصب السكر في جميع القارات ماعدا أوروبا ؟

* حيث يحتاج لدرجة حرارة مرتفعة وكمية مياه وفيرة ، ولوقوع أوروبا في المنطقة المعتدلة

٩- تركيز زراعة البنجر في دول أوروبا مثل فرنسا وأمريكا الشمالية في الولايات المتحدة ؟

* بسبب ملائمة ظروف المناخ والتربة الزراعية في تلك المناطق لزراعته

١٠- أهمية محصول القطن ؟

* ينتج الخيوط التي تستخدم في صناعة أجود أنواع الملابس والمنسوجات ويعد مصدراً لاستخراج زيت بذرة القطن والأعلاف

١١- يعد القطن في مصر والسودان من أجود أنواع القطن في العالم ؟

* لان معظمه من الأنواع طويل التيلة

١٢- أهمية المطاط الطبيعي ؟

* تصنع منه إطارات السيارات وصناعات أخرى

١٣- للشاي خصائص معينة تحتاجها زراعته ؟

* يحتاج إلى تربة خصبة خفيفة ومناخ حار وهواء رطب ومطر غزير

١٤- يعتمد الرعي التجاري على الأساليب العلمية الحديثة ؟

* لإنتاج الألبان واللحوم حيث يرعى كل نوع من الحيوانات في مزارع خاصة به

١٥- قل عدد القائمين بحرفة الرعي البدائي في شبه الجزيرة العربية وبادية الشام ؟

* بسبب توطين البدو لتدفق البترول

١٦- قل عدد القائمين على حرفة الرعي البدائي في دول وسط آسيا ؟

* بسبب انتشار التعليم بين القبائل وتغير نشاطهم للعمل بالصناعة والزراعة والخدمات

١٧- أهمية الثروة الحيوانية في العالم ؟

* تعد المصدر الرئيسي لإنتاج اللحوم والألبان بجانب الجلود والصوف وغيرها

١٨- الصين والهند وأستراليا من أوائل الدول في تربية الأغنام ؟

* بسبب توافر الحشائش حيث ترتبط تربية الأغنام بمناطق المراعي التجارية الواسعة

١٩- زاد معدل الاستهلاك العالمي للحوم ؟

* بسبب ارتفاع مستوى المعيشة في كثير من دول العالم

٢٠- تعتبر أستراليا أولى دول العالم في إنتاج الأصواف ؟

* بسبب وجود أغنام المارينو فيها والتي تتميز بغزارة صوفها

٢١- إنتاج الألبان في مصر لا يكفي سكانها ؟

* لزيادة الاستهلاك من الألبان ولزيادة السكان في مصر

٢٢- تربية الدواجن في كل دول العالم تقريباً ؟

* لأنها تساهم في إنتاج اللحوم والبيض وسد حاجة السكان من الغذاء

٢٣- تحتل الصين المركز الأول في إنتاج الأسماك بأكثر من ثلث إنتاج العالم ؟

* بسبب مصادها على المحيط الهادي والأنهار والبحيرات ومزارع تربية الأسماك

٢٤- وجود إندونيسيا والولايات المتحدة في المراكز المتقدمة بعد الصين في إنتاج الأسماك بالعالم ؟

* يرجع ذلك لطول السواحل على البحار والمحيطات وكذلك تقدم وسائل الصيد

٢٥- تستهلك الدول المتقدمة نحو ٨٥٪ من معادن العالم رغم أن بها نحو 1/5 سكان العالم فقط ؟

* حيث تتوافر بها الصناعات المختلفة التي تقوم على هذه المعادن

٢٦- يدخل ٣٠٪ من الإنتاج العالمي للحديد في التجارة الدولية ؟

* حيث تقوم الدول النامية مثل موريتانيا بتصدير خام الحديد إلى الدول الصناعية المتقدمة مثل اليابان وبريطانيا

٢٧- بالرغم من أن بريطانيا دولة منتجة للحديد إلا أنها من أهم الدول المستوردة له ؟

* لأنها من الدول الصناعية المتقدمة والتي تنتشر فيها الصناعة بشكل كبير

٢٨- أهمية معدن النحاس ؟

* يستخدم في الكثير من الصناعات مثل الأسلاك والأدوات الكهربائية

٢٩- أهمية معدن البوكسيت ؟

* يعد الخام الرئيسي لمعدن الألومنيوم

٣٠- تقوم الدول النامية المنتجة للبوكسيت بتصديره لدول المتقدمة ؟

* لعدم توافر مقومات تحويل البوكسيت إلى الألومنيوم في الدول النامية من طاقة كهربائية وفيرة وخبرات متطورة وأسواق محلية وخارجية تستوعب الانتاج

٣١- أهمية مصادر الطاقة في حياة الإنسان ؟

* تعد مصادر الطاقة هي القوى المحركة لحياة الإنسان في جميع المجالات ومن الموارد الطبيعية المهمة التي لا غنى عنها على مستوى الاستخدامات البشرية المختلفة أو على مستوى الصناعة

٣٢- لم يعد الفحم المصدر الأول للطاقة في العصر الحديث ؟

* لظهور أنواع أخرى مثل البترول والغاز الطبيعي وكذلك مصادر الطاقة المتجددة النظيفة

٣٣- يعد البترول أهم مصادر الطاقة في العالم ؟

* بسبب ارتباطه بالتنمية الاقتصادية والاجتماعية والعلاقات السياسية، ويشكل مع الغاز الطبيعي نحو ٥٥٪ من الطاقة المستخدمة في العالم

٣٤- ارتفاع أسعار البترول بشكل مستمر ؟

* نظراً لزيادة الطلب عليه وتعدد استخداماته ولأنه من موارد الطاقة القابلة للنفاذ

٣٥- توسع العالم في استخدام الغاز الطبيعي كبديل لمصادر الطاقة الأخرى ؟

* لأنه يعد من مصادر الطاقة رخيصة الثمن وسهلة النقل والأقل تلويثاً للبيئة

٣٦- اتجهت بعض الدول ومنها مصر لاستخدام الطاقة الشمسية ؟

* لأنها طاقة نظيفة لا تلوث البيئة ومتجددة

٣٧- اختلاف الصناعة من دولة لدولة في العالم ؟

* حسب نوعيتها "خفيفة أو ثقيلة" وحسب تركزها وحسب جودتها

٣٨- قيام مراكز صناعية حديثة في دول الخليج العربي ؟

* حيث تكون معظم الصناعات بها صناعات بترولية لوفرة البترول

٣٩- نمو الغابات الموسمية على السواحل الغربية والشرقية بالهند ؟

* لسقوط الأمطار الموسمية الصيفية الغزيرة في جنوب الهند على الجهات الشرقية والغربية

٤٠- وجود مساحات واسعة من الأرض الزراعية في الهند ؟

* حيث تعتمد زراعتها على مياه الأمطار أو الأنهار المتوافرة في الهند

٤١- توجد بالهند ثروة حيوانية ضخمة ؟

* بسبب كثرة المراعي بها

٤٢ - القيمة الاقتصادية للأبقار في الهند محدودة رغم كثرة الأبقار بها ؟

* بسبب تحريم الديانة الهندوسية أكل لحوم الأبقار

٤٣ - تعد الهند من الدول الرئيسية المنتجة للأسماك ؟

* لأنها تطل على مسطحات مائية بجهات ساحلية طويلة مثل خليج البنغال والبحر العربي

٤٤ - أهمية الفحم في دولة الهند ؟ * يعد أساس قيام صناعة الحديد والصلب بها

٤٥ - شهدت الهند قفزات واسعة في تطور الصناعة ؟

* بسبب توافر مقومات الصناعات بها والاهتمام بالتعليم والبحث العلمي

٤٦ - تعد البرازيل أكبر دول القارة سكاناً ومع ذلك تعاني من قلة عدد السكان ؟

* بسبب مساحتها الواسعة ووجود مناطق شبه خالية من السكان مثل سهول الامازون

٤٧ - أنشأت البرازيل عدة مدن مثل برازيليا وميناؤوس ؟

* لإعادة توزيع السكان نحو الداخل

٤٨ - قطع الاشجار من الأنشطة الاقتصادية الهامة بالبرازيل ؟

* حيث يتم قطع أشجار الغابات الاستوائية والمدارية وتصنيع أخشابها

٤٩ - يمثل الرعي حرفة مهمة في الاقتصاد البرازيلي ؟

* حيث تمتلك البرازيل ثروة حيوانية ضخمة لوجود المراعي الغنية في شمال هضبة البرازيل

٥٠ - تعد البرازيل من الدول المنتجة للأسماك ؟

* بسبب امتلاكها سواحل طويلة على المحيط الأطلسي والبحر الكاريبي ووجود نهر الامازون

٥١ - يسود نيجيريا المناخ الحار وسقوط المطر ؟

* حيث تقع معظمها في نطاق المناخ المداري ذي الحرارة المرتفعة والمطر الصيفي، بينما الأطراف الجنوبية

ضمن الإقليم الاستوائي ذي الحرارة الأشد ارتفاعاً وأمطار طوال العام

٥٢ - يقل السكان في دلتا نهر النيجر جنوب نيجيريا ؟

* بسبب وجود الغابات الكثيفة والظروف المناخية القاسية

٥٣ - يعد اقتصاد نيجيريا اقتصاداً نامياً ؟ * حيث تعتمد على الزراعة في المقام الأول

٥٤ - توجد في نيجيريا أعداد كبيرة من الأبقار والأغنام والماعز ؟

* بسبب وجود مراعي حشائش السافانا

٥٥ - تنتج نيجيريا كميات كبيرة من الأسماك ؟

* لان بها ساحل طويل على خليج غينيا وانهار وبحيرات داخلية

٥٦- أهمية مدينة لاجوس بنيجيريا ؟

* لأنها أكبر المدن وأكثرها تكديساً بالسكان وهي مدينة ساحلية تعتبر العاصمة الاقتصادية لنيجيريا

٥٧- تعتبر المرتفعات الوسطى بألمانيا مناطق جذب للسياح ؟

* لأنها مغطاة بالغابات المخروطية وتكثر بها التلال والينابيع المائية

٥٨- انكماش مساحة الحشائش في ألمانيا بالوقت الحالي ؟

* بسبب إحلال الزراعة محلها والتوسع العمراني

٥٩- يتركز السكان بالمدن الكبرى والمناطق الصناعية في ألمانيا ؟

* حيث تتوفر فرص العمل في الشركات والمصانع العالمية

٦٠- الأودية على جانبي الأنهار من مناطق تركز السكان بألمانيا ؟ * حيث تقوم عليها الزراعة

٦١- شهدت الصناعة الألمانية توسعاً وتطوراً كبيراً بعد الحرب العالمية الثانية ؟

* بسبب توافر مقومات الصناعة وتدفق الاستثمارات * توافر المراكز العلمية المتقدمة

٦٢- تنوع المناخ والنبات الطبيعي في الولايات المتحدة الأمريكية ؟

* بسبب اتساع مساحة الولايات المتحدة الأمريكية

٦٣- انتشار الاعشاب الصحراوية على الأحواض الجنوبية بالولايات المتحدة الأمريكية ؟

* حيث نقل الأمطار في صحراء أريزونا الحارة الجافة

٦٤- يعد إقليم نيويورك في المنطقة الشمالية الشرقية أكثر الأقاليم كثافة سكانية بالولايات المتحدة ؟

* بسبب وجود المدن الكبرى مثل نيويورك

* وجود المناطق الصناعية والتجارية الكبرى

٦٥- تركز السكان في السهول الوسطى حول البحيرات العظمى ودلتا نهر المسيسيبي ؟

* لوجود المناطق الصناعية والمدن الكبرى مثل سان فرانسيسكو ولوس انجلوس

* المناطق الزراعية الخصبة

٦٦- تعد الولايات المتحدة القوة الاقتصادية الاولى في العالم ؟

* لأنها تتمتع بموارد طبيعية وفيرة ومتنوعة وبالتالي تعدد الأنشطة الاقتصادية وضخامة إنتاجها

٦٧- تتمتع الولايات المتحدة بضخامة وتنوع الإنتاج الزراعي ؟

* لوجود أراضي زراعية خصبة واسعة في سهول نهر المسيسيبي في الوسط، وفي الجنوب الشرقي، وفي الوادي

الأوسط بكاليفورنيا، وعلى جوانب المرتفعات

* لاعتمادها على التكنولوجيا الحديثة

٦٨- توجد ثروة سمكية كبيرة بالولايات المتحدة الأمريكية ؟

* بسبب وقوعها على محيطين كبيرين هما الأطلنطي والهادي

* وجود الأنهار والبحيرات

٦٩- تعد الولايات المتحدة القوة الصناعية الأولى وأولى الدول الصناعية السبع ؟

* بسبب توافر كل مقومات الصناعة بها

* إسهامها بحصص مرتفعة من الإنتاج العالمي لصناعات عديدة كالسيارات والصلب والالومنيوم

* احتلالها المرتبة الأولى عالمياً في صناعة الطائرات وسفن الفضاء والاقمار الصناعية

* توافر انتاج كبير في الصناعات الإلكترونية والكهربائية

ثانياً : التاريخ

١- تأسيس تنظيم الضباط الأحرار ؟

* بهدف القيام بثورة للقضاء على الفساد وتحرير واستقلال مصر من الاحتلال البريطاني

٢- لم تحقق معاهدة ١٩٣٦ م الاستقلال الحقيقي لمصر ؟

* حيث قامت قوات الاحتلال البريطاني بحصار قصر عابدين في فبراير ١٩٤٢ م لإجبار الملك فاروق على تعيين مصطفى النحاس باشا رئيساً للحكومة

٣- هزيمة الجيش المصري في حرب فلسطين ١٩٤٨ م ؟

* بسبب دعم الولايات المتحدة الأمريكية وبريطانيا لإسرائيل

* عدم استعداد الجيش المصري والعربي عسكرياً للحرب

٤- عدم وجود حياة ديمقراطية سليمة في مصر قبل ثورة ٢٣ يوليو ١٩٥٢ م ؟

* لخضوع مصر للاحتلال البريطاني وفساد النظام الملكي وفساد الأحزاب السياسية وتصارعها على الحكم

٥- يعتبر يوم ١٨ يونيه من كل عام هو عيد الجلاء ؟

* لأنه اليوم الذي رحلت فيه القوات البريطانية عن مصر عام ١٩٥٦ م بعد احتلال دام ٧٤ عام

٦- وافق الملك فاروق على مغادرة البلاد هو وأسرته قبل الموعد الذي تم تحديده ؟

* لأنه أدرك أن الجيش والشعب يكرهان حكمه بالإضافة إلى تخلي الإنجليز عنه

٧- أهمية فلسطين الدينية والجغرافية ؟

* ولد فيها السيد المسيح، وإليها أسري سيدنا محمد، وبها المسجد الأقصى أولى القبلتين وثالث الحرمين، وتتميز بموقع جغرافي جعلها مطعماً للغزاة على مر العصور

٨- إصدار بريطانيا وعد بلفور ١٩١٧ م ؟

* لأنها أدركت أهمية فلسطين وبذلت مساعيها لإقامة وطن لليهود في فلسطين

٩- قيام حرب فلسطين ١٩٤٨ م ؟

* بسبب اعلان اليهود قيام دولة إسرائيل لذلك تحركت الجيوش العربية لنصرة الشعب الفلسطيني ضد اليهود و مساعدته على إقامة حكومة وطنية على أرضه

١٠- ظهر تفوق اليهود على جميع جبهات القتال في حرب فلسطين ١٩٤٨ م بعد استئناف القتال ؟

* لأنهم لم يلتزموا بالهدنة وبدأوا في تقوية قواتهم من حيث العدد والتسليح والتدريب

١١- أسباب العدوان الثلاثي على مصر ١٩٥٦ م ؟

* بسبب عقد حكومة الثورة اتفاقية مع الاتحاد السوفيتي لتزويد مصر بالأسلحة والمعدات لمواجهة الأطماع الإسرائيلية

* مساندة مصر لحركات التحرر الوطني في الجزائر ضد الاستعمار الفرنسي

* تأميم شركة قناة السويس في يوليو ١٩٥٦ م

١٢- لم تستطع القوات الإنجليزية والفرنسية في احتلال الإسماعيلية بالعدوان الثلاثي ١٩٥٦ م ؟

* بسبب شدة مقاومتها

١٣- فشل العدوان الثلاثي على مصر ١٩٥٦ م ؟

* المقاومة الباسلة من الجيش والشعب * وقوف الشعوب العربية إلى جانب مصر

* تهديد الاتحاد السوفيتي بالتدخل لوقف العدوان

* رفض الولايات المتحدة الأمريكية استخدام القوة في حل النزاعات

* تنديد الأمم المتحدة بالعدوان

١٤- أسباب العدوان الإسرائيلي على مصر ١٩٦٧ م ؟

* أرادت إسرائيل القضاء على قوة مصر واستدراج الدول العربية إلى حرب غير مستعدة لها فقامت بحشد القوات على الحدود مع سوريا في ١٩٦٧ م

١٥- اغلاق مصر لخليج العقبة في وجه الملاحة الإسرائيلية مايو ١٩٦٧ م ؟

* إكماماً للحصار الاقتصادي الذي فرضه العرب على إسرائيل

١٦- أسباب هزيمة الدول العربية في عدوان ٥ يونيو ١٩٦٧ م ؟

* التفوق العسكري الإسرائيلي خاصة السلاح الجوي

* استخدام عنصر المفاجأة في ضرب المطارات المصرية بعد أن صورا أجهزة تجسس أمريكية المواقع المصرية

* مساندة الولايات المتحدة وبعض الدول الأوروبية لإسرائيل عسكرياً واقتصادياً وسياسياً

* نقص التدريب وعدم توافر الأسلحة المتطورة للقوات المصرية

- * رفض إسرائيل لكل نداءات السلام بالانسحاب من الأراضي التي احتلتها في العدوان الإسرائيلي ٥ يونيو ١٩٦٧ م بموجب قرار مجلس الأمن ٢٤٢
- * تصميم مصر وسوريا على إزالة آثار نكسة يونيو ١٩٦٧ م واسترداد شبه جزيرة سيناء والجولان
- ١٨- طلب إسرائيل المساعدة من الولايات المتحدة الأمريكية أثناء حرب أكتوبر ١٩٧٣ م ؟
- * نتيجة الخسائر الكبيرة التي لحقت بها في أعداد الجنود والطائرات على الجبهتين المصرية والسورية
- ١٩- إحداث إسرائيل ثغرة في منطقة الدفرسوار ؟
- * بسبب تقديم الولايات المتحدة الأمريكية معلومات عسكرية لإسرائيل ساعدتها في ذلك
- ٢٠- مبادرة الرئيس السادات لزيارة إسرائيل ١٩٧٧ م ؟ * لإنهاء الصراع العربي / الإسرائيلي سلمياً
- ٢١- المشاركة الفعالة لمصر في مؤتمر مدريد للسلام ١٩٩١ م ؟
- * لأنه دعا إلى حل الصراع العربي / الإسرائيلي على ضوء قرارات الأمم المتحدة "مجلس الأمن" وعلى أساس مبدأ الأرض مقابل السلام
- ٢٢- تأييد مصر اتفاقيات السلام بين الفلسطينيين والإسرائيليين ؟
- * لأنها كانت دائماً مساندة لحقوق الشعب الفلسطيني وحريصة على دعم السلطة الوطنية الفلسطينية
- ٢٣- اختيار السلام بدلاً من الحرب يعود بالنفع على الدول العربية ؟
- * لأنه يحقق الاستقرار الداخلي للبلاد العربية
- * دفع عجلة التنمية الاقتصادية والاجتماعية وإصلاح البنية الأساسية للبلاد
- * تشجيع رءوس الأموال العربية والأجنبية للاستثمار في مصر وغيرها من الدول العربية
- * تنشيط حركة السياحة لزيادة الدخل القومي وتوفير العملات الأجنبية
- * إقامة المشروعات الوطنية وتحقيق التنمية في مصر والمنطقة العربية بشكل عام
- ٢٤- كانت ثورة ٢٥ يناير من الثورات الفريدة في التاريخ المصري الحديث والمعاصر ؟
- * حيث ساهمت التكنولوجيا المتطورة ووسائل الاتصال مثل الانترنت والفيديو بوك في اندلاع الثورة لتشمل شتى أنحاء البلاد
- ٢٥- تدهور الأوضاع الاقتصادية كان من أسباب ثورة يناير ؟
- * بسبب اتباع سياسة الانفتاح الاقتصادي دون ضوابط علمية
- * التطبيق غير السليم لسياسة الخصخصة وبيع مؤسسات الدولة بأقل من سعرها الحقيقي
- ٢٦- سوء الأوضاع الاجتماعية من أسباب قيام ثورة يناير ؟
- * بسبب زيادة الفوارق الاجتماعية بين طبقات المجتمع وغياب العدالة الاجتماعية في توزيع الثروات

٢٧- تزوير الانتخابات البرلمانية لمجلس الشعب عام ٢٠١٠ م؟

* حيث حصل الحزب الوطني الحاكم على ٩٧٪ من المقاعد وبهذا خلا المجلس من اي معارضة وطنية

٢٨- تشكيل اللجان الشعبية أثناء ثورة ٢٥ يناير؟

* بهدف حماية المنشآت والمناطق، ومواجهة أعمال السرقة والحرق والترويع

٢٩- الاستعانة بالقوات المسلحة أثناء ثورة ٢٥ يناير؟

* لحماية وتأمين الممتلكات العامة والخاصة والمحافظة على أمن المواطنين

٣٠- اندلاع ثورة ٣٠ يونيو ٢٠١٣ م؟

* لأن السياسات الجديدة للرئيس محمد مرسي لم تحقق حلول للمشكلات التي يعاني منها غالبية الشعب المصري خاصة العدالة الاجتماعية واستمرار سوء الأحوال الاقتصادية

٣١- إعلان القوات المسلحة بيان ٢٣ يونيو ٢٠١٣ م؟

* حفاظاً على الأمن العام للدولة ومحاولة إيجاد صيغة تفاهم بين الأطراف السياسية لمصلحة الوطن

٣٢- أهمية صدور دستور ١٩٢٣ م؟

* لأنه تضمن حرية تكوين الأحزاب السياسية

* إنشاء برلمان يمثل السلطة التشريعية وتكون من مجلسين "مجلس النواب و مجلس الشيوخ"

٣٣- قيام السادات بإصدار دستور ١٩٧١ م "الدستور الدائم؟

* ليؤكد على سيادة القانون واستقلال القضاء وإقرار مبادئ التعددية الحزبية

٣٤- مساهمة المرأة في تأسيس الصحافة النسائية مثل مجلة الريحانة؟

* لكي تتبنى القضايا النسائية وتدافع عن حقوق المرأة ومكانتها

٣٥- شهدت مرحلة ما بعد ثورة ١٩١٩ م حتى ثورة ٢٣ يوليو ١٩٥٢ م نهضة نسائية بمختلف المجالات؟

* حيث شاركت المرأة إلى جانب الرجل في المظاهرات عقب نفي سعد زغلول بصورة لم يعهدها المجتمع المصري من قبل

* شكلت المرأة لجنة الوفد المركزية للسيدات وانتخبت هدى شعراوي رئيساً لها

* التحقت المرأة بالجامعة المصرية ١٩٢٨ م

٣٦- أهمية دستور ١٩٥٦ م للمرأة؟

* حصلت فيه المرأة على حق الانتخاب والترشح وأصبحت عضواً بالبرلمان المصري

٣٧- انشاء المجلس القومي للمرأة؟

* لإدراك الدولة مكانة المرأة والعمل على تدعيمها على كافة المستويات

٣٨- أهمية ميثاق القاهرة مارس ١٩٤٥ م ؟

* يعد أول وثيقة تخص الجامعة العربية بشكلها الحالي وتضمن مبادئ قيامها

٣٩- أهمية إنشاء جامعة الدول العربية ١٩٤٥ م ؟

* تنسيق العلاقات بين الدول الأعضاء

* تنسيق الخطط السياسية والاقتصادية والاجتماعية والثقافية والأمنية

* التعاون وحماية الأمن القومي العربي * صيانة وحماية استقلال الدول الأعضاء وسيادتها

* تعزيز العمل العربي المشترك في مختلف المجالات

٤٠- أهداف منظمة الأمم المتحدة ؟

* المحافظة على السلام والأمن الدوليين

* تنمية العلاقات الودية والتعاون الدولي لحل المشكلات الاقتصادية والاجتماعية والثقافية

* تعزيز احترام حقوق الإنسان وحرياته دون تفرقة بسبب الجنس أو الدين

٤١- يعد مجلس الأمن أهم أجهزة الأمم المتحدة ؟

* لأنه مسئول عن حفظ السلام والأمن الدوليين وله سلطة قانونية على حكومات الدول الأعضاء

٤٢- أهمية منظمة اليونسكو ؟

* تسهم في إحلال السلام والأمن عن طريق رفع مستوى التعاون بين دول العالم في مجالات التربية والعلوم والثقافة

٤٣- أهمية منظمة الصحة العالمية ؟

* توفير أفضل سبل الرعاية الصحية لجميع الشعوب

* نشر الوعي من أجل حماية مياه الشرب من التلوث * عقد دورات تدريبية لتطوير الخدمات الصحية

٤٤- أهمية منظمة الأغذية والزراعة "الفاو" ؟

* القضاء على الجوع * مساعدة البلدان النامية على تطوير وتحسين الإنتاج الزراعي والتغذية الجيدة

٤٥- قيام منظمة اليونسيف بإعلان حقوق الطفل ١٩٥٩ م ؟

* حيث يمثل الاطفال محور التنمية، فهدفت لتعزيز وحماية حقوق الطفل ورفاهيته

السؤال الرابع : اختر المناسب لكل عبارة

أولاً : الجغرافيا

١- تتشابه الزراعة البسيطة والزراعة الكثيفة في ...

(أ) مناطق الزراعة (ب) صغر المساحة الزراعية (ج) استخدام الميكنة الحديثة (د) الأيدي العاملة

٢- من المحاصيل المتشابهة في الزراعة الكثيفة والزراعة التجارية محصولي ...

(أ) المطاط والشاي (ب) القمح والشاي (ج) القمح والقطن (د) المطاط والقطن

٣- توجد الدولة الأكبر في إنتاج قصب السكر بقارة ..

(أ) آسيا (ب) أفريقيا (ج) أمريكا الشمالية (د) أمريكا الجنوبية

٤- يستخرج محصول ... من عصارة الأشجار الاستوائية

(أ) المطاط الطبيعي (ب) الذرة (ج) الشاي (د) القطن

٥- من الدول التي تتميز بالرعي التجاري بأمريكا الجنوبية دولة ...

(أ) بوليفيا (ب) الأرجنتين (ج) شيلي (د) بيرو

٦- يمارس سكان المناطق ... الرعي البدائي بقارات العالم

(أ) الصناعية (ب) الزراعية (ج) الساحلية (د) الصحراوية

٧- ترتبط تربية ... بالمراعي التجارية الواسعة

(أ) الأبقار (ب) الاغنام (ج) الجاموس (د) الماعز

٨- برغم أن الصين الدولة الأكبر في الاغنام إلا أن استراليا تصدر انتاج الصوف بسبب ...

(أ) التقدم العلمي (ب) غزارة اغنامها بالصوف (ج) كثرة المراعي بها (د) وفرة المياه العذبة

٩- إنتاج الألبان لا يكفي السكان في مصر بسبب ...

(أ) قلة الإنتاج (ب) قلة السكان (ج) زيادة الاستهلاك (د) غلاء الأسعار

١٠- تتواجد دولة ... في قائمة أهم الدول المنتجة والمصدرة للأسماك

(أ) الولايات المتحدة (ب) اليابان (ج) النرويج (د) الصين

١١- من الدول العربية التي تتميز بتصدير خام الحديد للدول الصناعية دولة ...

(أ) مصر (ب) موريتانيا (ج) الصومال (د) السعودية

١٢- أي من الدول التالية تعد منتجة لمعدن البوكسيت ومصنعة للألومنيوم ؟

(أ) كندا (ب) أستراليا (ج) الولايات المتحدة (د) فرنسا

١٣- يستخدم معدن ... في صناعة الأسلاك والأدوات الكهربائية

(أ) النحاس (ب) الحديد (ج) المنجنيز (د) البوكسيت

١٤- أكبر قارات العالم إنتاجاً للقمح والبتترول قارة ...

(أ) أوروبا (ب) آسيا (ج) أفريقيا (د) استراليا

١٥- تتصدر قارة أوروبا إنتاج الغاز الطبيعي إلا أن أكبر دولة منتجة له تقع في قارة

(أ) آسيا (ب) أفريقيا (ج) أمريكا الشمالية (د) أمريكا الجنوبية

١٦- من الدول العربية التي اتجهت للطاقة المتجددة دولة ..

(أ) مصر (ب) سوريا (ج) الإمارات (د) اليمن

١٧- كل هذه الدول متقدمة صناعياً ما عدا ... تعتبر دولة نامية تخطو نحو مستوى الدول المتقدمة

(أ) ألمانيا (ب) الولايات المتحدة (د) فرنسا (ج) الصين

١٨- من المقومات الطبيعية لقيام الصناعة

(أ) المواد الخام (ب) الأسواق (ج) التطور التكنولوجي (د) العمالة الماهرة

١٩- إقليم شمال شرق الولايات المتحدة هو أكبر الأقاليم الصناعية في ...

(أ) أمريكا الشمالية (ب) أمريكا الجنوبية (ج) العالم الجديد (د) العالم

٢٠- من المراكز الصناعية الهامة جزيرة هنشو بدولة

(أ) الصين (ب) اليابان (ج) كوريا الشمالية (د) تايلاند

٢١- معظم الصناعات في دول الخليج العربي صناعات

(أ) حديد وصلب (ب) معدنية (ج) بترولية (د) تقليدية

٢٢- يبدو إقليم ... الصناعي في شكل مناطق متباعدة

(أ) غرب ووسط أوروبا (ب) شمال شرق الولايات المتحدة (ج) روسيا وأوكرانيا (د) شرق آسيا

٢٣- تحد السواحل البحرية الهند من ...

(أ) جهة واحدة (ب) جهتين (ج) ثلاث جهات (د) أربع جهات

٢٤- يقع معظم دولة ... داخل حدود دولة الهند

(أ) نيبال (ب) بنجلاديش (ج) بوتان (د) ميانمار

٢٥- تنمو الغابات ... على السواحل الغربية والشرقية بالهند

(أ) الاستوائية (ب) المخروطية (ج) المدارية (د) الموسمية

٢٦- القيمة الاقتصادية للأبقار في الهند محدودة بسبب

(أ) قلة المراعي (ب) قلة لحومها (ج) العقيدة الدينية (د) سوء التغذية

٢٧- يستخرج الفحم من ... بالهند

(أ) جبال الغات الشرقية (ب) هضبة الدكن (ج) سهول ملبار (د) بومباي

- (أ) نيودلهي (ب) بومباي (ج) حيدر أباد (د) كلكتا
- ٢٩- العامل الأساسي في تنوع المناخ بالبرازيل هو
- (أ) تنوع التضاريس (ب) الموقع الفلكي (ج) التعدد الثقافي (د) تعدد الدول المحيطة
- ٣٠- يسود البرازيل المظهر ...
- (أ) الجبلي (ب) السهلي (ج) الصحراوي (د) الهضبي
- ٣١- المناخ المعتدل الرطب يقع أقصى للبرازيل
- (أ) الشمال الشرقي (ب) الجنوب الشرقي (ج) الشمال الغربي (د) الجنوب الغربي
- ٣٢- تعتبر حرفة ... من أهم الحرف في الاقتصاد البرازيلي لامتلاك البرازيل ثروة حيوانية كبيرة
- (أ) الزراعة (ب) الصيد (ج) الصناعة (د) الرعي
- ٣٣- تعد ... العاصمة القديمة للبرازيل
- (أ) برازيليا (ب) ريودي جانيرو (ج) ساوباولو (د) ميناووس
- ٣٤- تقع الأطراف ... من نيجيريا في نطاق المناخ الاستوائي
- (أ) الشمالية (ب) الجنوبية (ج) الشرقية (د) الغربية
- ٣٥- تصدر نيجيريا محصول ... في قارة أفريقيا
- (أ) القطن (ب) الأرز (ج) المطاط (د) القمح
- ٣٦- توجد في نيجيريا ثروة حيوانية كبيرة بسبب مراعي ..
- (أ) حشائش الاستبس (ب) حشائش السافانا (ج) حشائش التندرا (د) الرعاية الطبية
- ٣٧- أهم مصادر الطاقة التي تنتج منه نيجيريا ٣٪ من إنتاج العالم
- (أ) الفحم (ب) الغاز الطبيعي (ج) البترول (د) الكهرباء
- ٣٨- أكثر المدن النيجيرية كثافة سكانية
- (أ) أبوجا (ب) لاجوس (ج) إيبادان (د) كانو
- ٣٩- تتدرج تضاريس ألمانيا من الانخفاض للإرتفاع كلما اتجهنا
- (أ) شمالاً (ب) شرقاً (ج) غرباً (د) جنوباً
- ٤٠- من أكبر الأقاليم التضاريسية في ألمانيا
- (أ) السهل الألماني الشمالي (ب) المرتفعات الوسطى (ج) جبال الألب (د) جبال الفوج

(أ) الزراعي (ب) الرعوي (ج) الصناعي (د) التعدين

٤٢- تمول ألمانيا محطات توليد الكهرباء من ... في مصر

(أ) المياه (ب) الرياح (ج) الأمواج (د) الفحم

٤٣- يتمثل وجه التشابه بين المرتفعات الوسطى وجبال الألب بدولة ألمانيا في

(أ) الغطاء النباتي (ب) أعلى القمم الجبلية (ج) المناخ المعتدل (د) السهول الخصبة

٤٤- تقع ولاية هاواي التي تتكون من مجموعة جزر وسط المحيط ...

(أ) الهادي (ب) الهندي (ج) الأطلنطي (د) القطبي الشمالي

٤٥- تسود المرتفعات العالية في جهة ... من الولايات المتحدة الأمريكية

(أ) الشمال (ب) الجنوب (ج) الشرق (د) الغرب

٤٦- من أمثلة المدن الكبرى التي تقع في إقليم نيو إنجلند في الولايات المتحدة

(أ) نيويورك (ب) لوس انجلوس (ج) سان فرانسيسكو (د) فلوريدا

٤٧- يقل السكان في ولاية ... بالولايات المتحدة لبرودة الجو

(أ) شيكاغو (ب) هاواي (ج) ألاسكا (د) تكساس

٤٨- تعد الولايات المتحدة القوة الصناعية ... بالعالم

(أ) الأولى (ب) الثانية (ج) الثالثة (د) الرابعة

٤٩- تعد حلقة الوصل التجاري في الولايات المتحدة مع دول شرق آسيا مدينة

(أ) سان فرانسيسكو (ب) نيويورك (ج) شيكاغو (د) واشنطن

٥٠- تنتشر غابات الإقليم ... في جنوب شرق الولايات المتحدة

(أ) الاستوائي (ب) المداري (ج) الصيني (د) اللورانسبي

ثانياً : التاريخ

١- كانت هزيمة الجيش المصري في حرب فلسطين ١٩٤٨ في عهد

(أ) الملك فاروق (ب) جمال عبد الناصر (ج) محمد أنور السادات (د) الملك فؤاد

٢- أدى توقيع معاهدة ١٩٣٦ أن أصبحت مصر ميداناً لمعارك

(أ) الحرب العالمية الأولى (ب) حرب فلسطين

(ج) الحرب العالمية الثانية (د) العدوان الثلاثي

(أ) محمد نجيب (ب) جمال عبد الناصر (ج) محمد أنور السادات (د) محمد حسني مبارك

٤- إنشاء السد العالي كان من إنجازات الثورة في المجال

(أ) السياسي (ب) الاقتصادي (ج) الاجتماعي (د) الدولي

٥- تم منح المرأة حق الانتخاب والترشح لأول مرة بمجلس ...

(أ) المشورة (ب) شورى النواب (ج) النواب (د) الأمة

٦- تحققت أول تجربة للوحدة العربية بين مصر و ... ١٩٥٨م

(أ) فلسطين (ب) الاردن (ج) سوريا (د) العراق

٧- مؤتمر دول عدم الانحياز الذي عقد عام ١٩٥٥م كان في قارة

(أ) افريقيا (ب) أوروبا (ج) آسيا (د) استراليا

٨- سعت لإقامة وطن قومي لليهود في فلسطين

(أ) الاتحاد السوفيتي (ب) الولايات المتحدة (ج) فرنسا (د) بريطانيا

٩- أعطى مؤتمر ... لبريطانيا حق الانتداب على فلسطين

(أ) باندونج (ب) سان ريمو (ج) مدريد (د) كامب ديفيد

١٠- ارتكب اليهود مذبحه دير ياسين عقب

(أ) قيام دولة إسرائيل (ب) قرار تقسيم فلسطين (ج) حرب فلسطين (د) انتفاضة ١٩٢٩م

١١- دولة مواقفها متناقضة، اعترفت بدولة إسرائيل عند قيامها، وساندت مصر وهددت بصد العدوان الثلاثي

(أ) الولايات المتحدة (ب) بريطانيا (ج) فرنسا (د) الاتحاد السوفيتي

١٢- دولة كان لتحركاتها مع مجلس الأمن دور في انتصار اليهود على الجيوش العربية بحرب فلسطين

(أ) الولايات المتحدة (ب) فرنسا (ج) بريطانيا (د) ألمانيا

١٣- عجزت قوات العدوان الثلاثي على احتلال مدينة ... لشدة المقاومة

(أ) السويس (ب) الإسماعيلية (ج) بورسعيد (د) العريش

١٤- الوحدة بين مصر وسوريا كانت من نتائج ادراك العرب خطورة إسرائيل بعد

(أ) حرب فلسطين (ب) العدوان الثلاثي (ج) العدوان الإسرائيلي (د) حرب أكتوبر ١٩٧٣م

١٥- أصدر ... قرار بانسحاب إسرائيل من الأراضي التي احتلتها ١٩٦٧م

(أ) الولايات المتحدة (ب) مجلس الأمن (ج) عصبة الأمم (د) الجامعة العربية

١٦- نجحت القوات المصرية في معركة رأس العش صد القوات الإسرائيلية عن احتلال مدينة

(أ) الإسماعيلية (ب) بورسعيد (ج) بورفؤاد (د) السويس

١٧- استشهد الفريق عبد المنعم رياض أثناء

(أ) حرب فلسطين (ب) العدوان الإسرائيلي ١٩٦٧ م

(ج) حرب الاستنزاف (د) حرب أكتوبر ١٩٧٣ م

١٨- من إجراءات تهيئة الجبهة الداخلية لحرب أكتوبر إصدار دستور

(أ) ١٩٢٣ م (ب) ١٩٥٦ م (ج) ١٩٧١ م (د) ٢٠١٢ م

١٩- قام سلاح الطيران بقيادة ... بضربة جوية ناجحة في بداية حرب أكتوبر

(أ) محمد حسني مبارك (ب) سعد الدين الشاذلي (ج) عبد الغني الجمسي (د) أحمد إسماعيل

٢٠- من الاجتماعات العربية الضاغطة على الدول الداعمة لإسرائيل هو إجتماع وزراء النفط في ..

(أ) القاهرة (ب) الرياض (ج) دمشق (د) الكويت

٢١- اختلفت مساعدة الولايات المتحدة الأمريكية لإسرائيل عن مساندة العرب لمصر وسوريا في حرب أكتوبر ١٩٧٣ م بتقديم

(أ) معلومات عسكرية (ب) مساعدات مالية (ج) معدات عسكرية (د) قوات حربية

٢٢- الرئيس الذي كان شجاعاً في إنهاء الصراع العربي / الإسرائيلي سلمياً بزيارة إسرائيل

(أ) جمال عبد الناصر (ب) محمد أنور السادات

(ج) محمد حسني مبارك (د) محمد نجيب

٢٣- بدأ العزم في مفاوضات وجود حكم ذاتي للفلسطينيين في

(أ) مؤتمر كامب ديفيد ١٩٧٨ م (ب) معاهدة السلام ١٩٧٩ م

(ج) مؤتمر مدريد ١٩٩١ م (د) اتفاقية أوسلو ١٩٩٣ م

٢٤- أصدرت هيئة التحكيم بمحكمة العدل الدولية قرار رجوع طابا للسيادة المصرية في عهد الرئيس

(أ) محمد نجيب (ب) جمال عبد الناصر (ج) محمد أنور السادات (د) محمد حسني مبارك

٢٥- مؤتمر دعا إلى حل الصراع العربي الإسرائيلي على أساس مبدأ الأرض مقابل السلام

(أ) باندونج (ب) سان ريمو (ج) كامب ديفيد (د) مدريد

٢٦- من أسباب انفجار ثورة ٢٥ يناير ٢٠١١ م

(أ) خلو مجلس الشعب ٢٠١٠ م من اي معارضة (ب) تعديل قانون الطوارئ

(ج) إلغاء الدستور (د) محاربة الخصخصة

(أ) الاعلان عن ثورة ٢٥ يناير

(ب) الاضطراب الأمني الشديد

(ج) الاستعانة بالقوات المسلحة

(د) تخلي الرئيس مبارك عن الحكم

٢٨- الإجراء الأول للرئيس مبارك لامتناس غضب الجماهير أثناء الثورة تعيين

(أ) رئيس وزراء جديد (ب) وزير داخلية جديد (ج) نائب للرئيس (د) حكومة جديدة

٢٩- بعد تخلي الرئيس مبارك عن الحكم تسلم ... إدارة البلاد

(أ) رئيس مجلس الشعب (ب) جبهة المعارضة

(ج) الشرطة المصرية (د) المجلس الأعلى للقوات المسلحة

٣٠- عقدت انتخابات رئاسية مبكرة في عام ٢٠١٤م في عهد الرئيس

(أ) عدلي منصور (ب) محمد مرسي (ج) محمد حسني مبارك (د) عبد الفتاح السيسي

٣١- أنشأ الخديو ... مجلس شورى النواب ١٨٦٦م

(أ) سعيد (ب) اسماعيل (ج) عباس حلمي الثاني (د) توفيق

٣٢- تم إنشاء برلمان يمثل السلطة التشريعية وتكون من مجلسين هما النواب والشيوخ في

(أ) دستور ١٩٢٣م (ب) الدستور الدائم (ج) دستور ١٩٥٦م (د) الجمعية التشريعية

٣٣- تم حل الأحزاب السياسية وإلغاء دستور ١٩٢٣م عند قيام

(أ) الحرب العالمية الأولى (ب) ثورة ١٩١٩م (ج) ثورة يوليو ١٩٥٦م (د) العدوان الإسرائيلي

٣٤- المحاكم على اختلاف أنواعها تمثل السلطة

(أ) التشريعية (ب) التنفيذية (ج) القضائية (د) النيابية

٣٥- صدر الدستور الدائم ١٩٧١م في عهد الرئيس

(أ) جمال عبد الناصر (ب) محمد أنور السادات (ج) محمد حسني مبارك (د) محمد نجيب

٣٦- أنشئت أول مدرسة لتعليم البنات عام ١٨٧٣م في عهد

(أ) محمد علي (ب) عباس الأول (ج) اسماعيل (د) توفيق

٣٧- كانت ... أول وزيرة للشئون الاجتماعية ١٩٦٢م

(أ) جميلة حافظ (ب) حكمت أبو زيد (ج) عائشة راتب (د) أمال عثمان

٣٨- برزت المرأة على الساحة السياسية لأول مرة في ..

(أ) الثورة العربية (ب) ثورة ١٩١٩م (ج) ثورة ١٩٥٢م (د) ثورة ٢٥ يناير ٢٠١١م

(أ) الجمعية العامة (ب) مجلس الأمن (ج) مجلس الوصاية (د) الأمانة العامة

٤٠- الجهاز القضائي الأساسي للأمم المتحدة ومقرها لاهاي بهولندا

(أ) المجلس الاقتصادي والاجتماعي (ب) محكمة العدل الدولية

(ج) منظمة اليونسف (د) مجلس الأمن

٤١- عقد مؤتمر القمة الإسلامية ١٩٦٩م بمدينة

(أ) القاهرة (ب) الرياض (ج) الرباط (د) بغداد

٤٢- منظمة دولية ساهمت في إنقاذ معابد أبو سمبل من الغرق

(أ) اليونسكو (ب) الصحة العالمية (ج) الفاو (د) اليونسف

٤٣- يعد أهم أجهزة الأمم المتحدة وله سلطة قانونية على الدول الأعضاء

(أ) مجلس الوصاية (ب) مجلس الأمن (ج) الجمعية العامة (د) الأمانة العامة

٤٤- استضافت أول قمة أفريقية على أرضها ١٩٦٤م

(أ) مصر (ب) المغرب (ج) الجزائر (د) نيجيريا

٤٥- شاركت مصر في تشكيل حركة عدم الانحياز مع كل من اندونيسيا و ... و ...

(أ) الهند ونيجيريا (ب) ألمانيا ويوغوسلافيا (ج) الهند ويوغوسلافيا (د) أمريكا وروسيا

٤٦- في ضوء دراستك وضح المناسبة التي كان للولايات المتحدة موقف إيجابي نحو مصر

(أ) حرب فلسطين ١٩٤٨م (ب) العدوان الثلاثي ١٩٥٦م

(ج) العدوان الإسرائيلي ١٩٦٧م (د) حرب أكتوبر ١٩٧٣م

٤٧- يعد ... أعلى سلطة داخل الجامعة العربية

(أ) مجلس الجامعة (ب) الأمين العام (ج) الأمناء المساعدون (د) اللجان الدائمة

٤٨- قامت مصر بإغلاق خليج ... احكاماً للحصار الاقتصادي على إسرائيل ١٩٦٧م

(أ) السويس (ب) عدن (ج) العقبة (د) هرمز

٤٩- من أسباب ثورة ٢٥ يناير تزوير الانتخابات عام ٢٠١٠م لصالح

(أ) حزب الوفد (ب) الحزب الوطني (ج) حزب المصريين الأحرار (د) حزب الأمة

٥٠- من الدول العربية التي قدمت دعماً عسكرياً ومالياً لمصر وسوريا في حرب أكتوبر ١٩٧٣م

(أ) اليمن (ب) الصومال (ج) لبنان (د) الجزائر

السؤال الخامس : ما النتائج المترتبة على**أولاً : الجغرافيا**

- ١- صغر مساحات الحقول الزراعية في الزراعة الكثيفة ؟
* يؤدي ذلك إلى صعوبة استخدام الآلات والميكنة الزراعية
- ٢- استخدام أحدث الآلات الزراعية والطرق العلمية الحديثة في الزراعة التجارية ؟
* يؤدي ذلك إلى قلة التكاليف وقلة العمالة الزراعية
- ٣- تحتاج زراعة قصب السكر إلى درجة حرارة مرتفعة ؟
* أدى ذلك إلى زراعته في جميع القارات ما عدا قارة أوروبا لوقوعها في المنطقة المعتدلة
- ٤- انتشار التعليم بين قبائل دول وسط آسيا ؟
* أدى ذلك إلى قلة عدد القائمين على حرفة الرعي البدائي
- ٥- تدفق البترول في شبه الجزيرة العربية وبادية الشام ؟
* أدى ذلك إلى توطين البدو وقلة عدد القائمين على حرفة الرعي البدائي بها
- ٦- غزارة صوف اغنام المارينو في استراليا ؟
* أصبحت استراليا تتصدر انتاج الأصواف في العالم
- ٧- طول سواحل وتقدم وسائل الصيد في الولايات المتحدة واندونيسيا ؟
* أصبحوا من أهم الدول المنتجة للأسماك في العالم
- ٨- توافر النشاط الصناعي بكثرة في الدول المتقدمة ؟
* أصبحت تستهلك نحو ٨٥٪ من معادن العالم رغم أن بها نحو ١/٥ سكان العالم
- ٩- عدم توافر مقومات تحويل البوكسيت إلى ألومنيوم في الدول النامية المنتجة للبوكسيت ؟
* أصبحت تصدر البوكسيت إلى الدول المتقدمة
- ١٠- زيادة الطلب على البترول وتعدد استخداماته ؟
* أصبحت أسعاره في زيادة مستمرة
- ١١- يعد الغاز الطبيعي من مصادر الطاقة رخيصة الثمن سهلة النقل والعقل تلويناً للبيئة ؟
* توسع العالم في استخدامه كبديل لمصادر الطاقة الأخرى، ويستخدم في الصناعة والاستخدامات المنزلية وتوليد الطاقة الكهربائية وكوقود للسيارات بديلاً للبنزين
- ١٢- الوحدة الاقتصادية الأوروبية في إقليم غرب ووسط أوروبا الصناعي ؟
* أدت إلى التكامل في الجوانب الاقتصادية وحماتها جمركياً وتدعيمها من جانب هيئة الاتحاد الأوروبي

١٣- سقوط الأمطار الموسمية الصيفية الغزيرة في جنوب الهند ؟

* أدت إلى نمو الغابات الموسمية في جنوب الهند على السواحل الغربية والشرقية

١٤- توافر الموارد الاقتصادية بالهند سواء الزراعية أو الثروات المعدنية ؟

* أدى إلى تنوع الأنشطة الاقتصادية بها

١٥- تحريم الديانة الهندوسية اكل لحوم الأبقار ؟

* أدى إلى أن القيمة الاقتصادية لها محدودة في الهند

١٦- افتقار الهند للبترول ؟ * أدى إلى اتجاهها للطاقة النووية والكهربائية

١٧- الموقع الفلكي لدولة البرازيل ؟

* أدى إلى وقوع معظمها في المناطق الاستوائية والمدارية، ويسودها المناخ الاستوائي في حوض الأمازون والسهل الشمالي، بينما يسودها المناخ المداري الحار في السهول الشرقية وهضبة البرازيل، وفي أقصى الجنوب الشرقي يسود المناخ المعتدل الرطب

١٨- امتلاك البرازيل ثروة حيوانية كبيرة ومراعي غنية في شمال هضبة البرازيل ؟

* أدى إلى أنها أصبحت من الدول الرئيسية المنتجة والمصدرة للحوم

١٩- انتشار الغابات الاستوائية في دلتا نهر النيجر جنوب نيجيريا ؟

* أدى إلى قلة السكان في تلك المنطقة للظروف المناخية والطبيعية القاسية

٢٠- تغطية الغابات نحو ٣/١ مساحة نيجيريا ؟

* أصبحت تعد مصدراً هاماً للأخشاب من قطع الأشجار

٢١- انتشار الغابات المخروطية والتلال والينابيع المائية في المرتفعات الوسطى بألمانيا ؟

* أصبحت تعد من مناطق جذب السياح

٢٢- التوسع العمراني والزراعة في السهل الساحلي لألمانيا ؟

* أدى إلى انكماش مساحة الحشائش في الوقت الحالي

٢٣- توافر مقومات الصناعة والمراكز العلمية المتقدمة والاستثمارات في ألمانيا ؟

* أدى إلى التوسع والتطور الكبير في الصناعة الألمانية بعد الحرب العالمية الثانية

٢٤- اتساع مساحة الولايات المتحدة الأمريكية وتنوع تضاريسها ؟

* أدى إلى تنوع المناخ والنبات الطبيعي فيها

٢٥- تميز الساحل الجنوبي الشرقي ودلتا نهر المسيسيبي بالمناخ شبه المداري الحار غزير المطر ؟

* أدى إلى انتشار غابات الإقليم الصيني

٢٦- اتساع وامتداد السهول الوسطى في الولايات المتحدة الأمريكية من الشمال للجنوب ؟

* أدى إلى اختلاف خصائصها المناخية من منطقة لأخرى وانتشار الحشائش في الوسط والغابات في الجنوب

٢٧- قلة الأمطار في الأحواض الجنوبية "صحراء أريزونا" غرب الولايات المتحدة ؟

* أدى إلى انتشار الاعشاب الصحراوية

٢٨- سقوط الأمطار الغزيرة في المرتفعات الشمالية الغربية للولايات المتحدة الأمريكية ؟

* أدى إلى انتشار الحشائش والنباتات الجبلية

٢٩- برودة الجو في ولاية أسكا ؟

* أدى إلى قلة السكان بها

٣٠- تمتع الولايات المتحدة الأمريكية بموارد طبيعية وفيرة ؟

* أدى إلى تعدد الأنشطة الاقتصادية وضخامة الإنتاج بها وأصبحت القوة الاقتصادية الأولى في العالم

ثانياً : التاريخ

١- توقيع معاهدة ١٩٣٦ بين مصر وانجلترا ؟

* جعلت مصر ميداناً لمعارك الحرب العالمية الثانية

* استنزفت موارد مصر لخدمة بريطانيا وحلفائها مما أرهق الاقتصاد المصري وزاد من معاناة الشعب

٢- ظاهرة الإقطاع وسوء توزيع ملكية الأرض الزراعية ؟

* أدى إلى انتشار ظاهرة الفقر والجهل والمرض

٣- إذاعة البيان الأول للثورة في دار الإذاعة المصرية ؟

* أصبح اللواء محمد نجيب مسيطراً على جميع قطاعات الجيش المصري

٤- ادراك الملك فاروق أن الجيش والشعب يكرهان حكمه ؟

* قام بمغادرة البلاد هو وأسرته قبل الموعد الذي تم تحديده

٥- توقيع اتفاقية الجلاء بين مصر وانجلترا ١٩٥٤ م ؟

* أدت إلى جلاء القوات البريطانية خلال عشرين شهراً من توقيع الاتفاقية ورحيل القوات البريطانية عن مصر بعد

احتلال دام أربعة وسبعين عام

٦- تأميم شركة قناة السويس البحرية ١٩٥٦ م ؟

* أصبحت منذ هذا التاريخ شركة مصرية بإدارة مصرية

٧- قوانين الإصلاح الزراعي في عهد ثورة يوليو ؟

* أدت إلى تحديد الملكية الزراعية بخمسين فدان، مما زاد من تملك الفلاحين للأرض الزراعية

٨- إدراك بريطانيا أهمية فلسطين ؟

* سعت لتأييد فكرة إقامة وطن قومي لليهود في فلسطين، وأصدر بلفور وزير خارجية بريطانيا ١٩١٧م وعد بالعمل على ذلك

٩- مؤتمر سان ريمو بإيطاليا ١٩٢٠م ؟

* أعطى بريطانيا حق الانتداب على فلسطين

١٠- قرار هيئة الأمم المتحدة بتقسيم فلسطين ١٩٤٧م ؟

* رفضت الدول العربية مشروع التقسيم

* وافق اليهود على التقسيم وقامت عصابات اليهود المسلحة بطرد العرب من ديارهم وارتكاب أبشع المذابح مثل مذبحه دير ياسين

* امتنعت بريطانيا عن التصويت واعلنت أنها ستسحب قواتها وتنتهي انتدابها على فلسطين

١١- اعلان اليهود قيام دولة إسرائيل ١٩٤٨م ؟

* اعترفت بها كل من الولايات المتحدة الأمريكية والاتحاد السوفيتي

* تحركت الجيوش العربية إلى فلسطين لنصرة الشعب الفلسطيني من بطش اليهود

١٢- حرب فلسطين ١٩٤٨م ؟

* ترتب عليها هزيمة الجيوش العربية واستيلاء اليهود على جميع أراضي فلسطين ما عدا قطاع غزة تحت إدارة مصرية والضفة الغربية بها قوات أردنية، والقدس قسمت بين العرب واليهود

١٣- فشل العدوان الثلاثي على مصر ١٩٥٦م ؟

* ترتب على ذلك انسحاب القوات الإنجليزية والفرنسية من بورسعيد

* انسحاب القوات الإسرائيلية من قطاع غزة وسيناء، ووضع قوات طوارئ دولية بين مصر وإسرائيل منذ عام ١٩٥٧م

* ادراك الدول العربية الخطر الإسرائيلي وأطماعه في السيطرة على العالم العربي ولذلك قامت الوحدة بين مصر وسوريا منذ عام ١٩٥٨م وحتى الانفصال ١٩٦١م

١٤- العدوان الإسرائيلي ٥ يونيو ١٩٦٧م

* استيلاء إسرائيل على قطاع غزة وسيناء، وهضبة الجولان من سوريا، والقدس العربية، والضفة الغربية لنهر الأردن

١٥- قرار مجلس الأمن رقم ٢٤٢ ؟

* قبلت مصر تنفيذ القرار

* امتنعت إسرائيل عن تنفيذ القرار ولم تتسحب من الأراضي التي احتلتها

* نجحت القوات المسلحة المصرية في هزيمة القوات الإسرائيلية عندما حاولت احتلال مدينة بورفؤاد

١٧- الضربات العسكرية المصرية في حرب الاستنزاف لإسرائيل ؟

* تدخلت الولايات المتحدة الأمريكية وقدم وزير خارجيتها روجرز مبادرة عرفت بمبادرة روجرز لوقف إطلاق النار تمهيداً لحل النزاع سلمياً

١٨- الضربة الجوية الناجحة لسلاح الطيران وقيام المدفعية بإطلاق النيران على طول القناة بحرب أكتوبر ؟

* أدى إلى تحطيم أعداد كبيرة من الطائرات والمعدات العسكرية الإسرائيلية

* عبور الدبابات والمدرعات والآليات العسكرية المصرية بمختلف أنواعها

١٩- الخسائر الكبيرة التي لحقت بإسرائيل على الجبهتين المصرية والسورية بحرب أكتوبر ؟

* طلبت إسرائيل المساعدة من الولايات المتحدة الأمريكية

٢٠- دور الدول العربية العسكري والمالي والسياسي في دعم مصر وسوريا بحرب أكتوبر ؟

* كان لهذه المساهمات دوراً هاماً في انتصارات أكتوبر ١٩٧٣ م

٢١- تقديم الولايات المتحدة الأمريكية معلومات عسكرية لإسرائيل بحرب أكتوبر ؟

* ساعدتها في إحداث ثغرة في منطقة الدفرسوار

٢٢- قرار مجلس الأمن رقم ٣٣٨ ؟

* وقف جميع الأعمال الحربية بدءاً من يوم ٢٢ أكتوبر ١٩٧٣ م وبدء مباحثات المفاوضات بين الطرفين المصري والإسرائيلي

٢٣- مبادرة الرئيس السادات لزيارة إسرائيل ١٩٧٧ م ؟

* ترتب على ذلك أن مهد الطريق أمام إسرائيل للقبول بمبدأ التفاوض مع الأطراف المهمة والمعنية بقضية الصراع العربي/الإسرائيلي

٢٤- مؤتمر كامب ديفيد سبتمبر ١٩٧٨ م ؟

* تم التوصل إلى إطار اتفاق "معاهدة" للسلام بين مصر وإسرائيل

٢٥- معاهدة السلام مارس ١٩٧٩ م ؟

* نتج عنها رفع العلم المصري فوق شبه جزيرة سيناء ٢٥ أبريل ١٩٨٢ م بعد استعادتها من المحتل الإسرائيلي، فيما عدا منطقة طابا على رأس خليج العقبة

٢٦- حدوث خلاف بين مصر وإسرائيل على تعيين مكان بعض علامات الحدود بينهما ؟

* اتفق الطرفان على مبدأ التحكيم فتم إحالة قضية طابا إلى هيئة التحكيم الدولي "محكمة العدل الدولية" والتي أصدرت حكمها لصالح مصر وعادت طابا للسيادة المصرية ١٩٨٩ م في عهد الرئيس مبارك

٢٧- مؤتمر مدريد للسلام ١٩٩١م ؟

* ترتب عليه حدوث مفاوضات سرية بين إسرائيل ومنظمة التحرير الفلسطينية وأسفرت هذه المفاوضات عن توقيع اتفاقية برعاية أمريكية في ١٩٩٣م بواشنطن

٢٨- التطبيق غير السليم لسياسة الخصخصة ؟

* أدى إلى ارتفاع الأسعار

* تجمع آلاف العاملين بعد خروجهم بنظام التقاعد المبكر وانضمامهم لصفوف البطالة في وقفات احتجاجية

٢٩- ثورة ٢٥ يناير ٢٠١١م ؟

* تخلي الرئيس مبارك عن الرئاسة ١١ فبراير ٢٠١١م وتسليم إدارة شؤون البلاد للمجلس الأعلى للقوات المسلحة، واحتفل الملايين بهذا الحدث التاريخي

* أثبتت أحداث الثورة مدى إصرار الشعب المصري على تحقيق مطالبه، وأن الجيش المصري قوة مساندة للشعب وليس أداة لدى النظام لقمع المتظاهرين

٣٠- ثورة ٣٠ يونيو ٢٠١٣م ؟

* عزل محمد مرسي وتسليم السلطة إلى المستشار عدلي منصور رئيس المحكمة الدستورية العليا حين إجراء انتخابات رئاسية مبكرة وتعديل دستور ٢٠١٢م

٣١- الانتخابات الرئاسية التي حدثت عقب دستور ٢٠١٤م ؟

* أعلن فوز المرشح عبد الفتاح السيسي وأصبح رئيساً لمصر

٣٢- صدور دستور ١٩٢٣م ؟

* تضمن حرية تكوين الأحزاب السياسية

* انشاء برلمان يمثل السلطة التشريعية ويتكون من مجلسين هما مجلس النواب ومجلس الشيوخ

٣٣- دستور ١٩٥٦م بالنسبة للمرأة ؟

* حصلت المرأة بناءً عليه على حق الانتخاب والترشح وأصبحت عضواً بالبرلمان المصري

٣٤- ميثاق القاهرة ١٩٤٥م ؟

* تضمن مبادئ قيام الجامعة العربية ويعد أول وثيقة تخص الجامعة العربية بالشكل الحالي

٣٥- انشاء محكمة العدل الدولية "الجهاز القضائي الأساسي" للأمم المتحدة ؟

* النظر في القضايا التي تضعها الدول أمامها

* تقديم الاستشارات القانونية للهيئات الدولية

أولاً : الجغرافيا

- ١- يعد القمء أكثر المحاصيل الزراعية انتشاراً في العالم ؟
- * حيث ينتج في جميع قارات العالم وتعد آسيا أولى القارات إنتاجاً
- ٢- هناك عوامل طبيعية وعوامل بشرية تساعد على تطور حرفة الصيد وتربية الأسماك ؟
- * عوامل طبيعية وهي
- أ) ضحالة المياه الساحلية وغناها بالمواد الغذائية
- ب) التقاء التيارات البحرية الدافئة مع الباردة
- ج) توافر الموانئ لرسو سفن الصيد
- * عوامل بشرية وهي
- أ) توافر الخبرات الفنية والعلمية في صناعة المراكب وأدوات الصيد والثلاجات
- ب) التوسع في تربية الأسماك على أسس علمية حديثة
- ٣- توجد عدة عمليات تسبق التعدين ؟
- * حيث يتم البحث والكشف عن الخامات ثم إعداد المنجم لعملية التعدين والاستخراج مثل مد الخطوط الحديدية والطرق وإنشاء مساكن العاملين
- ٤- يتطلب إنتاج الألومنيوم من البوكسيت عدة مقومات تتواجد في الدول المتقدمة ؟
- * وفرة الطاقة الكهربائية * خبرة علمية وفنية متطورة * سوق محلية وخارجية تستوعب الإنتاج
- ٥- أهمية الفحم الكبيرة منذ القرن ال١٨ م ؟
- * حيث كان عماد الثروة الصناعية في أوروبا وأواخر القرن ال١٨ م والمصدر الأول والرئيسي للطاقة المستخدمة في العالم حتى أوائل القرن ال٢٠ م
- ٦- توسع العالم في استخدام الغاز الطبيعي كبديل لمصادر الطاقة الأخرى ؟
- * حيث يستخدم في الصناعة على نطاق واسع وفي الاستخدامات المنزلية وفي توليد الطاقة الكهربائية وكوقود للسيارات بديلاً للبنزين للحد من تلوث البيئة
- ٧- تعد الصناعة الحديثة مقياساً رئيسياً لتطور الشعوب وازدهارها ؟
- * حيث أن الدول المتقدمة هي الدول التي تطورت فيها الصناعة تطوراً مذهباً آخذة بالأساليب العلمية وتطبيق الأبحاث والتجارب وتحديث المنتجات الصناعية بشكل مستمر لذلك تتركز فيها الصناعة المتطورة
- ٨- واجهت الهند زيادة عدد السكان بسياسات تنموية مختلفة ؟
- * حيث اهتمت بالتعليم وتطوير البحث العلمي مما أدى إلى تطوير الزراعة والصناعة

٩- تشهد العلاقات الاقتصادية المصرية الهندية نمواً كبيراً ؟

* حيث تصدر مصر إلى الهند القطن والفوسفات والأسمدة والجلود بينما تستورد من الهند غزل القطن والسمسم والشاي والتوابل وقطع غيار وسائل النقل

١٠- يسود المظهر الهضبي معظم الأراضي البرازيلية ؟

* حيث توجد هضبة البرازيل في الوسط والجنوب * بعض الهضاب في الشمال

١١- تنوع المناخ في البرازيل ؟

* يسودها مناخ استوائي شديد الحرارة في حوض الأمازون والسهل الشمالي،، ومناخ مداري حار في السهول الشرقية وهضبة البرازيل،، بينما يسودها مناخ معتدل رطب في أقصى جنوب شرق البرازيل

١٢- يعد سكان البرازيل خليطاً من معظم الأجناس ؟

* يوجد بها الهنود الحمر "السكان الأصليون"، والعناصر السوداء ذات الأصول الأفريقية، والاوروبيون

١٣- يتركز السكان في البرازيل في الساحل الجنوبي الشرقي ؟

* حيث يوجد العديد من المدن الرئيسية مثل ريو دي جانيرو و ساوباولو

١٤- أنشأت البرازيل عدة مدن لإعادة توزيع السكان نحو الداخل ؟

* أنشأت مدينة برازيليا "العاصمة" لتعمير هضبة البرازيل،، و مدينة ميناؤوس على نهر الأمازون

١٥- هناك اهتمام بين مصر والبرازيل بتوسيع نطاق التبادل التجاري بين البلدين ؟

* حيث تصدر مصر إلى البرازيل الاقطن والمواد الغذائية والأثاث والمنسوجات والأسمدة،، بينما تستورد مصر من البرازيل الحبوب الغذائية والسكر والبن واللحوم والمعادن خاصة الحديد

١٦- يعد اقتصاد نيجيريا اقتصاداً نامياً ؟

* حيث يعتمد على الزراعة في المقام الأول

١٧- تمتلك نيجيريا تميزاً كبيراً في بعض المحاصيل على مستوى أفريقيا ؟

* حيث تعد الأولى في إنتاج المطاط في أفريقيا و الثانية في إنتاج الارز بعد مصر

١٨- توجد بنيجيريا ثروات معدنية ومصادر طاقة ؟

* يوجد بها القصدير الذي يستخرج من هضبة جوس

* الفحم ويستخرج من المنطقة الشرقية

* البترول ويستخرج من المنطقة القريبة من الساحل الجنوبي الشرقي وتنتج ٣٪ من الإنتاج العالمي

١٩- توجد علاقات قوية بين مصر ونيجيريا ؟

* حيث تصدر مصر إلى نيجيريا الأسمدة والأسلاك الكهربائية والمعدات الثقيلة والاطارات والمحولات الكهربائية ومواسير الألومنيوم ونستورد منها الحبوب الزيتية

٢٠- تعد الصناعة العمود الفقري للاقتصاد الألماني ؟

* حيث يعمل بها نحو ثلث القوى العاملة في ألمانيا وتتميز بالتطور والجودة والتنوع

٢١- توجد علاقات ثقافية وعلمية بين مصر وألمانيا ؟

* تتمثل في هيئة التبادل العلمي الألمانية،، المركز الثقافي الألماني،، الجامعة الألمانية بالقاهرة،، معهد الآثار الألماني

٢٢- توجد علاقات اقتصادية بين مصر وألمانيا ؟

* حيث تمويل ألمانيا محطات توليد الكهرباء من الرياح في مصر

* كما تصدر مصر إلى ألمانيا البترول والغاز الطبيعي والملابس بينما تستورد من ألمانيا الصناعات الكيماوية والآلات والسيارات

٢٣- يتميز الجزء الغربي من الولايات المتحدة الأمريكية بالمرتفعات ؟

* حيث يتكون من أعلى السلاسل الجبلية "جبال روكي" ،، وهضبة كولورادو ،، وجبال "كسكيد"

٢٤- ترتبط مصر والولايات المتحدة بعلاقات قوية واتفاقيات تجارية هامة ؟

* حيث توجد بينهما اتفاقية منطقة التجارة الحرة

* اتفاقية المناطق الصناعية المؤهلة "الكويز"

* تستورد مصر من الولايات المتحدة منتجات تكنولوجية حديثة وأسلحة وطائرات

ثانياً : التاريخ

١- اختلفت الكتابات وتعددت الآراء حول ثورة ٢٣ يوليو ١٩٥٢ م ؟

* حيث يرى بعض المؤرخين أنها تكتسب أهميتها مما تركته من آثار على أغلب الحركات التحررية العربية وفي العالم أجمع، واسهامات قادتها في تأسيس حركات دولية مثل عدم الانحياز والحياد الإيجابي

* يرى مؤرخين آخرون أن الثورة كانت امتداداً ومكملة لنضال طويل لشعب مصر ضد الفساد والاحتلال منذ الثورة العربية وثورة ١٩١٩ م وحتى قيامها

٢- لم تحقق معاهدة ١٩٣٦ م الاستقلال الحقيقي لمصر ؟

* حيث قامت قوات الاحتلال البريطاني بحصار قصر عابدين في فبراير ١٩٤٢ م لإجبار الملك فاروق على تعيين مصطفى النحاس باشا رئيساً للحكومة

٣- فساد النظام الملكي قبل ثورة يوليو ١٩٥٢ م ؟

* تمثل في استبداد الملك فاروق بالحكم * انتشار الرشاوي كما حدث في صفقة الأسلحة الفاسدة

٤- تأثر الاقتصاد المصري بالحرب العالمية الثانية ؟

* حيث أدى توقيع معاهدة ١٩٣٦ م إلى جعل مصر ميداناً لمعارك الحرب العالمية الثانية و استنزاف موارد مصر لخدمة بريطانيا وحلفائها

٥- اهتمام ثورة يوليو ١٩٥٢م بالزراعة ؟

- * التوسع في استصلاح الأراضي الصحراوية لزيادة الرقعة الزراعية
- * انشاء السد العالي بهدف حماية البلاد من خطر الفيضان وتخزين المياه وتوليد الكهرباء

٦- اهتمام ثورة يوليو ١٩٥٢م بالصناعة ؟

- * حيث تم إنشاء العديد من المصانع مثل مصنع الحديد والصلب بحلوان ومصنع الأسمدة بأسوان
- * الاهتمام بالتعليم الصناعي ومراكز التدريب المهني
- * الاهتمام بالبحث والتنقيب عن البترول وانشاء معامل لتكرير البترول

٧- اهتمام ثورة يوليو ١٩٥٢م بالتجارة ؟

- * حيث تم فتح أسواق خارجية جديدة لتسويق المنتجات المصرية
- * تمصير البنوك وشركات التأمين وشركات التصدير والاستيراد

٨- وصف وعد بلفور بأنه وعد من لا يملك لمن لا يستحق ؟

- * حيث تعهدت بريطانيا التي تحتل فلسطين بإنشاء وطني قومي لليهود فيها

٩- قام الشعب الفلسطيني بالعديد من الحركات الوطنية ضد إجراءات تنفيذ وعد بلفور ؟

* حيث قام بانتفاضة عام ١٩٢٩م ، وثورة ١٩٣٦م بقيادة اللجنة العربية

١٠- كان للهدنة التي اقترحتها الولايات المتحدة على مجلس الأمن بين اليهود والعرب في حرب فلسطين أثر في تغير مسار الحرب ؟

- * حيث لم يلتزم اليهود بالهدنة، وبدأوا في تقوية قواتهم من حيث العدد والتسليح والتدريب وعند استئناف القتال ظهر تفوقهم في جميع جبهات القتال مما أدى إلى تراجع وهزيمة القوات العربية

١١- كان للولايات المتحدة الأمريكية دور في ضرب إسرائيل للمطارات المصرية في حرب ١٩٦٧م ؟

* حيث صورت أجهزة التجسس الأمريكية الحديثة المواقع المصرية لصالح إسرائيل

١٢- كان دور الدول العربية داعم بشدة لمصر وسوريا في حرب أكتوبر ١٩٧٣م ؟

- * حيث قدمت بعض الدول العربية دعماً عسكرياً مثل العراق والجزائر والسعودية والأردن، ومالياً مثل السعودية والجزائر والإمارات

* ومن الناحية السياسية أصدر وزراء النفط العربي قرار في اجتماعهم بالكويت نص على خفض انتاج البترول وحظر الصادرات النفطية للولايات المتحدة بعد مساعدتها لإسرائيل

١٣- دعمت الولايات المتحدة الأمريكية إسرائيل بكافة الوسائل في حرب أكتوبر ١٩٧٣م ؟

- * عسكرياً ، أقامت جسراً جويّاً لتقديم المساعدات العسكرية لإسرائيل وقدمت معلومات عسكرية ساعدتها في إحداث ثغرة في منطقة الدفرسوار

* مالياً، قدمت مساعدات مالية ضخمة عاجلة لإسرائيل

* سياسياً، تدخلت مع مجلس الأمن وتم إصدار قرار ٣٣٨ بوقف جميع الأعمال الحربية وبدء المفاوضات بين الطرفين المصري والإسرائيلي

١٤- كان للمشير أحمد إسماعيل دور بارز في حرب أكتوبر ١٩٧٣ م ؟

* حيث تولى التخطيط والتنسيق على الجبهتين المصرية والسورية وقاد خطة الخداع لصرف أنظار إسرائيل عن التجهيزات الهجومية

١٥- كان لحرب أكتوبر العديد من النتائج والدروس المستفادة ؟

* حيث تعد نقطة تحول في الصراع العربي الإسرائيلي وأثبتت أن منطق القوة لا يمنح سلاماً

* تحطيم أسطورة الجيش الإسرائيلي الذي لا يقهر

* هدم أسس العقيدة القتالية للقوات الإسرائيلية

* إنهاء نظرية الأمن الإسرائيلية بعد انهيار خط بارليف

* إنهاء حالة اللاسلم واللاحرب، وبدء المفاوضات من منطلق قوة عربية

* أظهرت أهمية استخدام سلاح النفط العربي

* اثرت في العلاقات بين إسرائيل وبعض الدول المحبة للسلام

١٦- ظهر دور مصر المساند للقضية الفلسطينية في اتفاقية أوسلو ١٩٩٣ م ؟

* حيث أيدت مصر الاتفاقية وما حدث من اتفاقيات أخرى تتعلق بالانسحاب الإسرائيلي من الأراضي المحتلة وإقامة السلطة الوطنية الفلسطينية

١٧- ثورة ٢٥ يناير ٢٠١١ م من الثورات الفريدة في التاريخ المصري الحديث والمعاصر ؟

* حيث ساهمت التكنولوجيا المتطورة ووسائل الاتصال في اندلاع الثورة لتشمل شتى أنحاء البلاد مثل شبكة الإنترنت ومواقع التواصل الاجتماعي

١٨- حافظ الشعب المصري على أمن البلاد أثناء ثورة يناير ٢٠١١ م ؟

* حيث قام بتشكيل ما عرف باللجان الشعبية لحماية المنشآت والمناطق ومواجهة أعمال السرقة والحرق والترويع

١٩- قام نظام مبارك باتخاذ بعض الإجراءات لامتناع غضب الجماهير أثناء الثورة ؟

* حيث تم تعيين نائب للرئيس وتفويض صلاحيات رئيس الجمهورية إليه

* تشكيل حكومة جديدة

٢٠- تعدد سلطات الحكم في مصر ؟

* رئيس الدولة وهو رئيس السلطة التنفيذية

* السلطة التشريعية وهي مجلس النواب ومدته ٥ سنوات

أ/ غادة النوبي

* **السلطة التنفيذية** وتتكون من الحكومة والإدارات المحلية

* **السلطة القضائية** وتتمثل في المحاكم على اختلاف أنواعها

٢١- أسست المرأة صحافة نسائية تتبنى القضايا النسائية وتدافع عن حقوقها ؟

* حيث ظهرت أول مجلة نسائية مصرية هي الريحانة في فبراير ١٩٠٧م والتي أصدرتها جميلة حافظ ثم تحولت إلى جريدة في مارس ١٩٠٨م

٢٢- يعد دور منظمات المجتمع المدني مكمل للعمل الحكومي ؟

* حيث تعد هذه المنظمات عناصر فاعلة في تقديم الخدمات الاجتماعية وبرامج التنفيذ من خلال

(أ) تثقيف المواطنين وتعريفهم بحقوقهم

(ب) توضيح علاقة المواطن بالدولة وكيفية التعبير عن حقوقه وواجباته

(ج) توفير مناخ يحقق الوحدة الوطنية من خلال التوعية

(د) تدعيم سياسة الدولة ومواقفها من القضايا الدولية مثل حظر استخدام الألغام الأرضية ومحاربة الإرهاب وحماية البيئة

٢٣- لمصر دور مهم في منظمة الاتحاد الأفريقي ؟

* شاركت في تأسيسه بعد تحرر معظم الدول الأفريقية واستضافت أول قمة أفريقية على أرضها ١٩٦٤م

٢٤- لمصر دور مهم في منظمة المؤتمر الإسلامي ؟

* حيث تعد من أوائل الدول التي ساهمت في بلورة فكرة إنشائها وشاركت في كافة المؤتمرات الإسلامية ومن أهمها مؤتمر القمة الإسلامي ١٩٦٩م في الرباط بالمغرب

٢٥- هناك اسهامات عديدة لمنظمة اليونسكو مع مصر ؟

* انقاذ معابد أبو سمبل ١٩٦٤م لتجنب تعرضها للغرق

* إحياء مكتبة الإسكندرية

٢٦- لمصر دور واضح في الأمم المتحدة ؟

* حيث شاركت مصر في الأنشطة المختلفة للأمم المتحدة وشاركت بجنودها في قوات حفظ السلام الدولية في بلدان عديدة مثل الكونغو والصومال واليمن والبوسنة والهرسك

٢٧- دور مصر المؤسس في حركة عدم الانحياز ؟

* ساهمت مصر في تأسيس الحركة في مؤتمر باندونج ١٩٥٥م بالاشتراك مع الهند واندونيسيا ويوغوسلافيا

السؤال السابع : ما العلاقة بين

١- مساحات الحقول الزراعية واستخدام الآلات والميكنة الزراعية بالزراعة الكثيفة ؟

* أدى صغر مساحات الحقول الزراعية إلى صعوبة استخدام الآلات والميكنة الزراعية بالزراعة الكثيفة

٢- المناخ في أوروبا ومحصول قصب السكر ؟

* يزرع قصب السكر في جميع القارات ما عدا قارة أوروبا لوقوعها في المنطقة المعتدلة وهو من المحاصيل المدارية الحارة

٣- الأشجار الاستوائية وإطارات السيارات ؟

* تصنع اطارات السيارات من المطاط الطبيعي الذي يستخرج من عصارة الأشجار الاستوائية

٤- زراعة القطن والثروة الحيوانية ؟

* يعد القطن مصدراً لصناعة الاعلاف التي تتغذى عليها الثروة الحيوانية

٥- انتشار التعليم بدول وسط آسيا وحرقة الرعي بها ؟

* قل عدد العاملين بحرقة الرعي البدائي في دول وسط آسيا بسبب انتشار التعليم بين القبائل

٦- مستوى معيشة الأفراد والاستهلاك العالمي للحوم الحمراء ؟

* زاد معدل الاستهلاك العالمي للحوم الحمراء بسبب ارتفاع مستوى المعيشة للأفراد في كثير من دول العالم

٧- الدول المتقدمة ومعادن العالم ؟

* تستهلك الدول المتقدمة نحو ٨٥٪ من معادن العالم رغم أن بها نحو ١/٥ سكان العالم حيث تتوفر بها الصناعات المختلفة التي تقوم على هذه المعادن

٨- الفحم والثورة الصناعية في أوروبا أواخر القرن ١٨ م ؟

* كان الفحم عماد الثورة الصناعية في أوروبا أواخر القرن ال ١٨ م والمصدر الاول والرئيسي للطاقة المستخدمة في العالم حتى أوائل القرن ٢١ م

٩- الغاز الطبيعي والكهرباء ؟

* يستخدم الغاز الطبيعي في توليد الطاقة الكهربائية فيما يعرف بالكهرباء الحرارية

١٠- القيمة الاقتصادية للأبقار في الهند والديانة الهندوسية ؟

* أصبحت القيمة الاقتصادية للأبقار محدودة بسبب تحريم الديانة الهندوسية اكل لحوم الأبقار

١١- الاهتمام بالتعليم والنشاط الصناعي في الهند ؟

* أدى الاهتمام بالتعليم والبحث العلمي إلى حدوث قفزات سريعة في تطور الصناعة بالهند

١٢- السكان وسهول الأمازون في البرازيل ؟

* توجد مناطق شبه خالية من السكان في البرازيل في سهول الأمازون

١٣- توزيع السكان في البرازيل ومدينتي برازيليا وميناؤوس ؟

* أنشأت البرازيل عدة مدن لإعادة توزيع السكان نحو الداخل أهمها برازيليا "العاصمة" لتعمير هضبة البرازيل، و ميناؤوس على نهر الامازون

أ/ غادة النوبي

* يعد اقتصاد نيجريا اقتصاداً نامياً يعتمد على الزراعة في المقام الأول

١٥- حشائش السافانا والثروة الحيوانية في نيجريا ؟

* توجد في نيجريا أعداد كبيرة من الأبقار والأغنام والماعز بسبب وجود مراعي حشائش السافانا

١٦- الظروف الطبيعية وتوزيع السكان في نيجريا ؟

* يقل السكان في دلتا نهر النيجر جنوب نيجريا بسبب وجود الغابات الاستوائية الكثيفة والظروف المناخية القاسية

١٧- قوة العمل الألمانية والنشاط الصناعي ؟

* تعد الصناعة العمود الفقري للاقتصاد الألماني حيث يعمل بها نحو ثلث ٣/١ القوى العاملة الألمانية

١٨- مساحة الولايات المتحدة الأمريكية وتضاريسها ؟

* نتيجة اتساع مساحة الولايات المتحدة الأمريكية إلى ٩.٤ مليون كم ٢ تنوعت تضاريسها من الشرق للغرب

١٩- برودة الجو ونسبة السكان في ولاية ألاسكا ؟

* يقل السكان في ولاية ألاسكا بسبب برودة الجو

٢٠- معاهدة ١٩٣٦م والاقتصاد المصري ؟

* أدى توقيع معاهدة ١٩٣٦م بين مصر وانجلترا، أنها جعلت مصر ميدان لمعارك الحرب العالمية الثانية فاستنزفت موارد مصر لخدمة بريطانيا وترتب عليه إرهاب الاقتصاد المصري

٢١- نظام الحكم في مصر وثورة يوليو ١٩٥٢م ؟

* من إنجازات ثورة ٢٣ يوليو ١٩٥٢م في المجال السياسي إلغاء الملكية وإعلان الجمهورية وعين اللواء محمد نجيب أول رئيس للجمهورية المصرية

٢٢- قوانين الإصلاح الزراعي وظاهرة الإقطاع ؟

* أدى صدور قوانين الإصلاح الزراعي إلى تحديد الملكية الزراعية وزيادة تملك الفلاحين للأرض الزراعية والقضاء على ظاهرة الإقطاع

٢٣- وزير خارجية بريطانيا بلفور وفلسطين ؟

* أصدر بلفور وزير خارجية بريطانيا وعد ينص على تعهد بريطانيا بالسعي لإنشاء وطن قومي لليهود في فلسطين

٢٤- مؤتمر سان ريمو ١٩٢٠م وإجراءات تنفيذ وعد بلفور ؟

* أعطى مؤتمر سان ريمو لبريطانيا حق الانتداب على فلسطين وشرعت في إجراءات تنفيذ وعد بلفور

٢٥- مساندة مصر ثورة الجزائر والعدوان الثلاثي على مصر ١٩٥٦م ؟

* نتيجة مساندة مصر ثورة الجزائر ضد الاستعمار الفرنسي انضمت فرنسا للعدوان الثلاثي على مصر

٢٦- تأميم قناة السويس والعدوان الثلاثي على مصر ١٩٥٦ م ؟

* أدى تأميم شركة قناة السويس إلى الضرر بمصالح الدول الاستعمارية خاصة إنجلترا واعلنوا العدوان الثلاثي على مصر

٢٧- حرب الاستنزاف ومبادرة روجرز ؟

* نتيجة الهجمات المتتالية لمصر في حرب الاستنزاف تدخلت الولايات المتحدة الأمريكية حيث قدم وزير خارجيتها روجرز مبادرة عرفت بمبادرة روجرز لوقف إطلاق النار تمهيداً لحل النزاع سلمياً

٢٨- إصدار دستور ١٩٧١ م وحرب أكتوبر ١٩٧٣ م ؟

* كان إصدار دستور جديد للبلاد "دستور ١٩٧١ م" أحد الخطوات في تهيئة وإعداد الجبهة الداخلية لحرب أكتوبر ١٩٧٣ م

٢٩- هيئة عمليات القوات المسلحة المصرية ونصر أكتوبر ١٩٧٣ م ؟

* قامت الهيئة بإعداد دراسة عن أنسب التوقيتات للقيام بالعمليات الهجومية على إسرائيل على الجبهتين المصرية والسورية مما كان له الأثر في إحراز النصر

٣٠- الرئيس كارتر ومؤتمر كامب ديفيد ؟

* دعا الرئيس الأمريكي كارتر كلاً من الرئيس المصري محمد أنور السادات ورئيس وزراء إسرائيل بيجين لعقد اجتماعات في كامب ديفيد بالولايات المتحدة للتوصل إلى مبادرة سلام

٣١- قرار مجلس الأمن رقم ٢٤٢ ومعاهدة السلام ١٩٧٩ م ؟

* نصت معاهدة السلام ١٩٧٩ م على التطبيق الكامل لقرار مجلس الأمن الدولي رقم ٢٤٢

٣٢- التكنولوجيا المتطورة لوسائل الاتصال وثورة ٢٥ يناير ٢٠١١ م ؟

* حيث استخدمت في اندلاع الثورة لشتى أنحاء البلاد الشبكة الدولية للمعلومات "الإنترنت" ومواقع التواصل الاجتماعي "الفيس بوك وغيره"

٣٣- سياسة الخصخصة في مصر والأوضاع الاقتصادية قبل ثورة ٢٥ يناير ٢٠١١ م ؟

* أدت سياسة الخصخصة وبيع مؤسسات الدولة لفئة معينة من رجال الأعمال إلى ارتفاع الأسعار وزيادة البطالة وتدهور الأوضاع الاقتصادية

٣٤- دستور ١٩٥٦ م وحقوق المرأة السياسية ؟

* حصلت المرأة على حق الانتخاب والترشح في دستور ١٩٥٦ م فأصبحت عضواً بالبرلمان المصري

السؤال الثامن : ماذا كان يحدث إذا

١- لم تتميز أغنام المارينو الشهيرة بغزارة صوفها في استراليا ؟

* كانت الصين ستكون الاولى في إنتاج الصوف في العالم بدلاً من أستراليا، لأنها الاولى في إنتاج الأغنام

٢- لم تتوافر المصائد الكبيرة والمزارع السمكية بشكل كبير في الصين ؟

* كانت لن تصبح الأولى في إنتاج الاسماك بالعالم

٣- اتبعت مصر الأساليب العلمية في الرعي ؟

* ستزيد الثروة الحيوانية وإنتاج الألبان واللحوم وسيكفي إنتاج الألبان السكان

٤- لم يتدفق البترول في دول الخليج العربي ؟

* كان لن يقل عدد القائمين بحرفة الرعي البدائي في شبه الجزيرة العربية ولن يتوطن السكان

٥- كانت موريتانيا دولة متقدمة ؟

* كانت لن تصدر خام الحديد للدول الصناعية المتقدمة وستقوم هي باستغلاله والاستفادة منه

٦- توافرت مقومات تحويل البوكسيت إلى ألومنيوم عند الدول النامية ؟

* ستقوم بإنتاج الألومنيوم ولن تصدر خام البوكسيت إلى الدول المتقدمة

٧- أنتجت مصر الكهرباء من الأمواج وحركة المد والجزر ؟

* سيكون لدينا مصدر طاقة نظيف لا يلوث البيئة وغير قابل للنفاذ

٨- أخذت الدول النامية بالأساليب العلمية في الصناعة ؟

* سترتفع بمستوى شعوبها وتقترب من مستوى الدول المتقدمة

٩- لم تسقط الأمطار الموسمية الصيفية الغزيرة في جنوب الهند ؟

* لن تنمو الغابات الموسمية في جنوب الهند على السواحل الغربية والشرقية

١٠- لم تحرم الديانة الهندوسية اكل لحوم الأبقار ؟

* ستكون القيمة الاقتصادية للأبقار عالية جداً نظراً لأن الهند هي الأولى في إنتاج الأبقار بالعالم

١١- لم تقع دلتا نهر النيجر في جنوب نيجيريا في الإقليم الاستوائي ؟

* كان لن يقل السكان فيها ولن توجد الغابات الكثيفة والظروف المناخية القاسية

١٢- قل اهتمام ألمانيا بالصناعة ؟

* سيتهور الاقتصاد الألماني ولن تكون ألمانيا من الدول المتقدمة في العالم ولن يعمل ثلث القوى العاملة بالصناعة

١٣- لم يتم إنشاء السد العالي في عهد ثورة يوليو ١٩٥٢ م ؟

* كان لن يتم حماية البلاد من خطر الفيضان ولم نستفيد منه في توليد الكهرباء وتخزين المياه

١٤- لم توقع ثورة ٢٣ يوليو ١٩٥٢ م اتفاقية الجلاء ؟

* كانت لن ترحل القوات الإنجليزية عن مصر وسنظل تحت الاحتلال

١٥- لم يوقف القتال ولم تكن هناك هدنة شهر في حرب فلسطين ١٩٤٨ م ؟

* كانت الجيوش العربية ستكمل انتصاراتها على القوات الإسرائيلية

١٦- ضعفت المقاومة في مدينة الإسماعيلية أثناء العدوان الثلاثي على مصر ؟

* كانت ستستطيع القوات الإنجليزية والفرنسية احتلالها

١٧- وافقت إسرائيل على تنفيذ قرار مجلس الأمن رقم ٢٤٢ ؟

* كانت ستسحب من الأراضي التي احتلتها عام ١٩٦٧ م

١٨- لم تقدم الولايات المتحدة معلومات عسكرية لإسرائيل خلال حرب أكتوبر ١٩٧٣ م

* كانت إسرائيل لن تستطيع إحداث ثغرة في منطقة الدفرسوار

١٩- لم يتخذ الرئيس السادات قرار مبادرة السلام عام ١٩٧٧ م ؟

* لم يتم تمهيد الطريق أمام إسرائيل للقبول بمبدأ التفاوض مع الأطراف المهمة والمعنية بقضية الصراع العربي

الإسرائيلي وبالتالي لم يتم إنهاء الصراع العربي الإسرائيلي سلمياً

٢٠- فشل مؤتمر كامب ديفيد ١٩٧٨ م ؟

* كان لن يتم التوصل إلى اطار اتفاق "معاهدة" للسلام بين مصر وإسرائيل

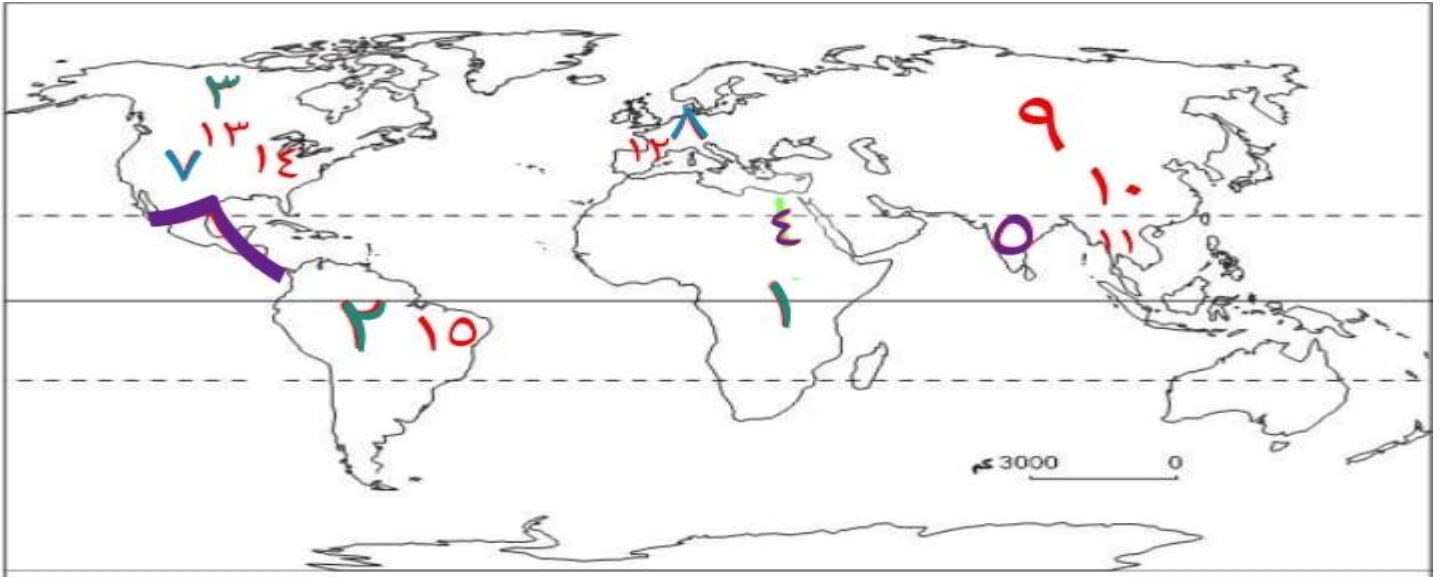
٢١- رفضت إسرائيل تنفيذ قرار محكمة العدل الدولية ١٩٨٨ م ؟

* ستتوتر العلاقات بين الطرفين وستصر مصر على استرداد أرضها بكل الطرق وستعرض إسرائيل لعقوبات من

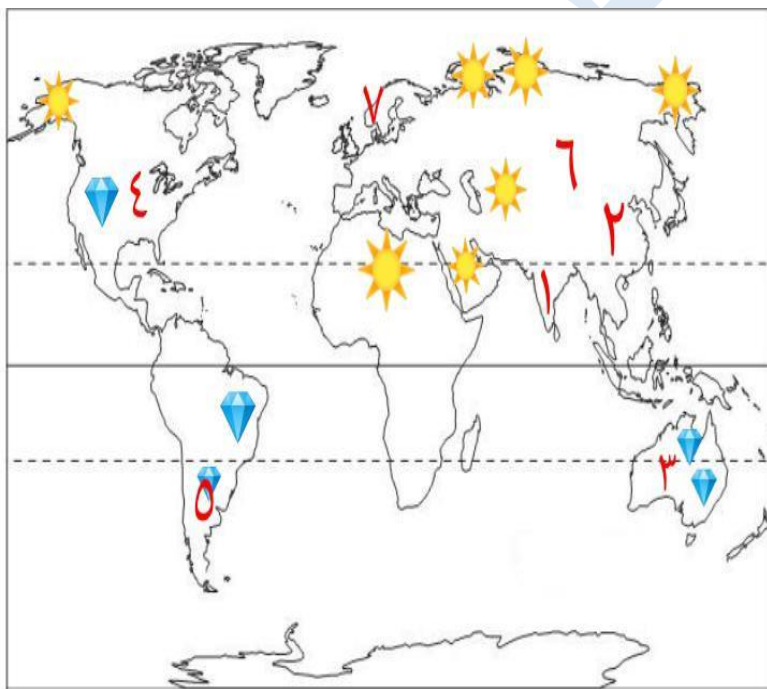
الأمم المتحدة

٢٢- لم يتم الاستعانة بالقوات المسلحة خلال أحداث ثورة ٢٥ يناير ٢٠١١ م ؟

* كانت ستزداد حالة الفوضى والتخريب في البلاد ولن يتم تأمين وحماية الممتلكات العامة والخاصة

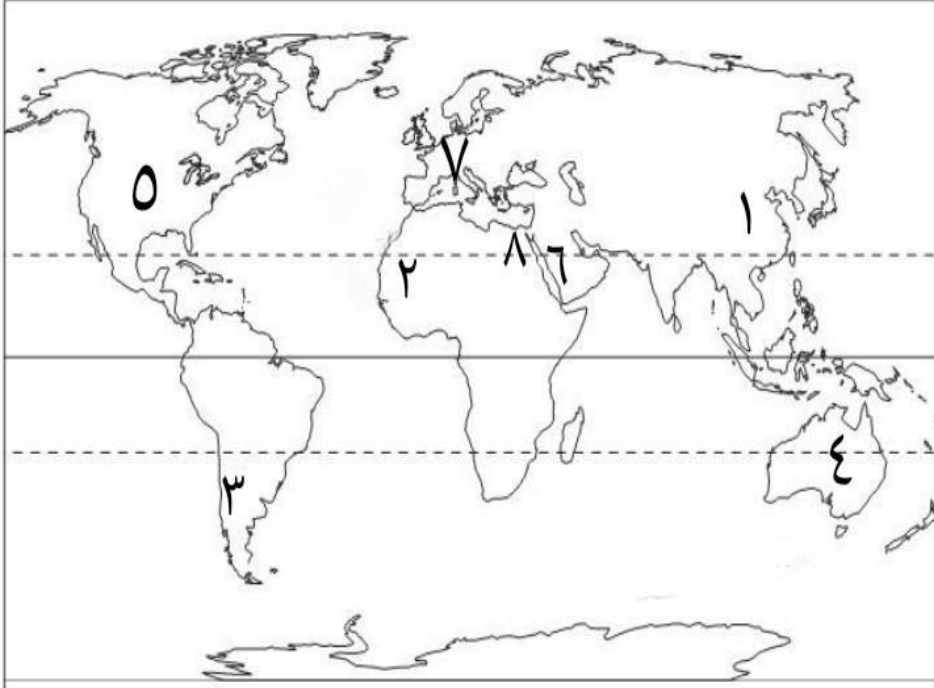
السؤال التاسع : الخريطةخريطة درس (النشاط الزراعي وموارده في العالم)

- ١- الزراعة البسيطة ٢- الزراعة البسيطة ٣- الزراعة البسيطة ٤- الزراعة الكثيفة
- ٥- الزراعة الكثيفة ٦- الزراعة الكثيفة ٧- الزراعة التجارية ٨- الزراعة التجارية
- ٩- قارة الاولى في القمح والقطن والمطاط الطبيعي والشاي آسيا
- ١٠- أكبر دولة منتجة للقمح والقطن والشاي الصين ١١- أكبر دولة منتجة للمطاط الطبيعي تايلاند
- ١٢- دولة منتجة للبنجر فرنسا ١٣- قارة الاولى في إنتاج الذرة أمريكا الشمالية
- ١٤- دولة منتجة للبنجر الولايات المتحدة ١٥- أكبر دولة منتجة لقصب السكر والسكر البرازيل

خريطة درس (الرعي والثروة الحيوانية والسمكية)

- ترمز علامة ☀ على مناطق الرعي البدائي
- ترمز علامة 💎 على مناطق الرعي التجاري
- ١- أكبر دول العالم في إنتاج الأبقار والألبان الهند
- ٢- أكبر دول العالم في الأغنام واللحوم والأسماك الصين
- ٣- أكبر دول العالم في الأصواف استراليا
- ٤- أكبر دول العالم في إنتاج الدواجن الولايات المتحدة
- ٥- دولة تشتهر بالرعي التجاري الارجننتين
- ٦- القارة الأكبر في إنتاج الأبقار آسيا
- ٧- دولة تشتهر بتصدير الأسماك النرويج
- أ/ عادة النوبي

خريطة درس النشاط التعدينى فى العالم



١- أولى دول العالم فى إنتاج الحديد
والفحم الصين

٢- دولة مصدرة لخام الحديد موريتانيا

٣- أولى دول العالم فى إنتاج النحاس
شيلي

٤- أولى دول العالم فى إنتاج البوكسيت
أستراليا

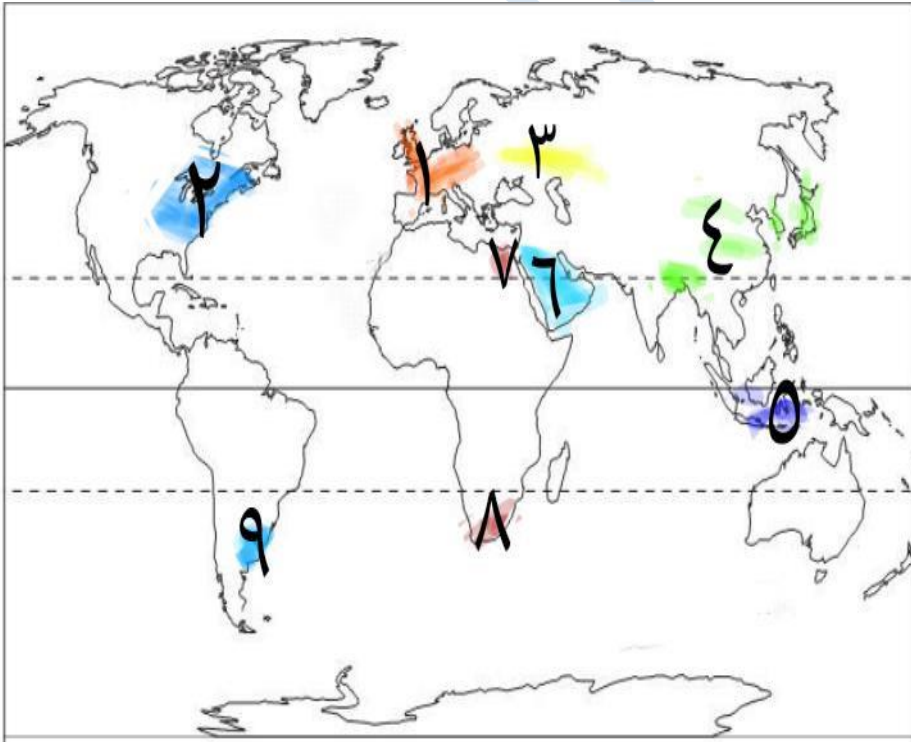
٥- أولى دول العالم فى إنتاج الالومنيوم
والغاز الطبيعى الولايات المتحدة

٦- أولى دول العالم فى إنتاج البترول
السعودية

٧- أولى قارات العالم فى إنتاج الغاز الطبيعى والطاقة النووية أوروبا

٨- أولى الدول العربية فى إنتاج الكهرباء من طاقة الرياح مصر

خريطة درس النشاط الصناعى فى العالم



١- إقليم صناعى "إقليم غرب ووسط أوروبا"

٢- إقليم صناعى "إقليم شمال شرق الولايات المتحدة الأمريكية"

٣- إقليم صناعى "إقليم روسيا واوركرانيا"

٤- إقليم صناعى "إقليم شرق آسيا"

٥- مركز صناعى حديث "إندونيسيا"

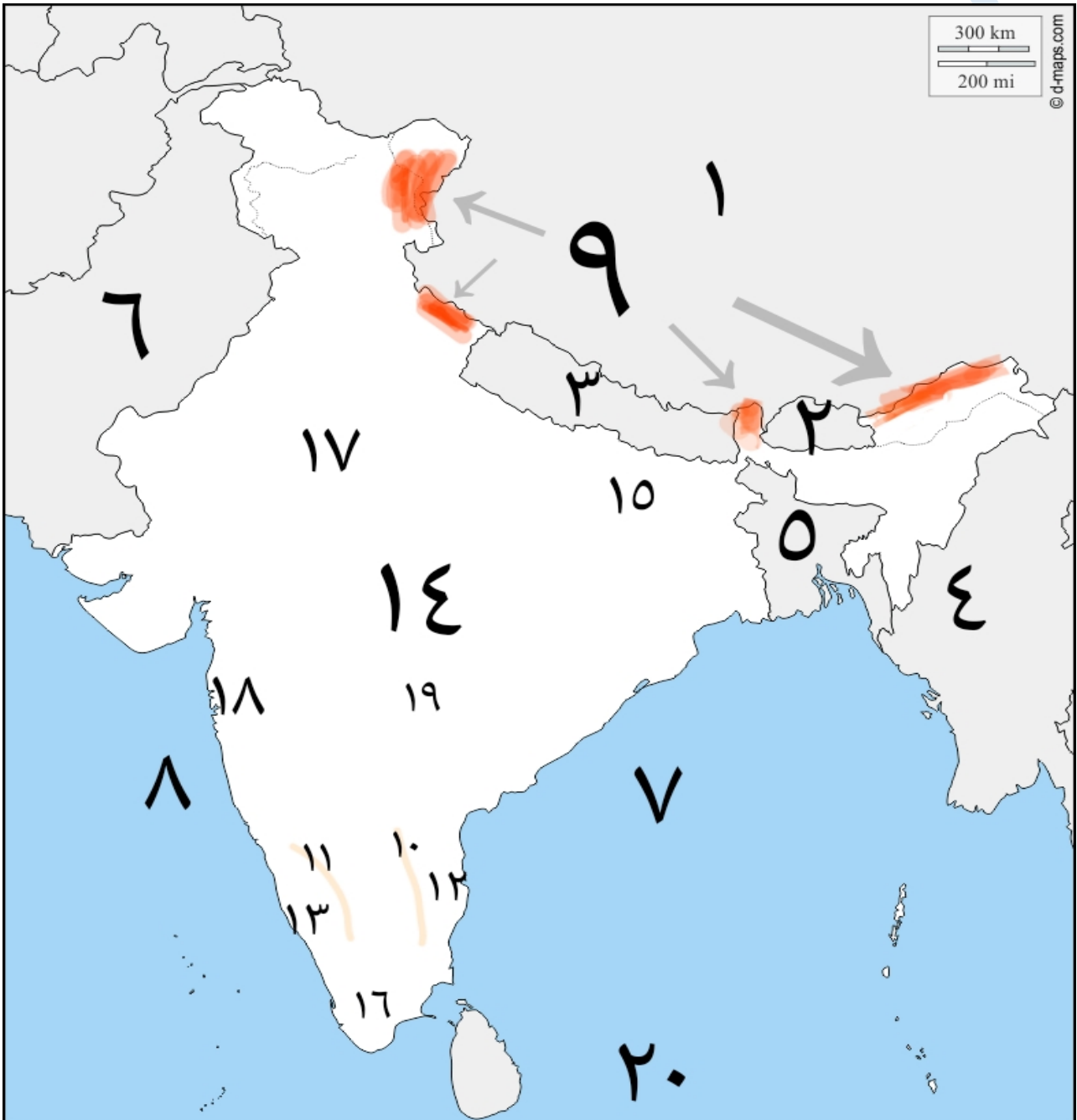
٦- مركز صناعى حديث "دول الخليج العربى"

٧- مركز صناعى حديث بأفريقيا "مصر"

٨- مركز صناعى حديث فى افريقيا
"جنوب أفريقيا"

٩- مركز صناعى حديث فى امريكا الجنوبية "الارجنتين"

- ١- دولة الصين ٢- دولة بوتان ٣- دولة نيبال ٤- دولة ميانمار ٥- دولة بنجلاديش
- ٦- دولة باكستان ٧- خليج البنغال ٨- البحر العربي ٩- جبال الهيمالايا ١٠- جبال الغات الشرقية
- ١١- جبال الغات الغربية ١٢- ساحل كروماندل ١٣- ساحل ملبار ١٤- هضبة الدكن
- ١٥- نهر الجانج ١٦- نهر كوفري
- ١٧- العاصمة السياسية "نيودلهي"
- ١٨- العاصمة التجارية وأهم مدن الساحل الغربي "بومباي"
- ١٩- مركز للصناعات اليدوية "حيدر أباد"
- ٢٠- المحيط الهندي



خريطة دولة جمهورية البرازيل الاتحادية



١- المحيط الأطلنطي

٢- دولة جيانا

٣- دولة سورينام

٤- دولة جويانا

٥- دولة فنزويلا

٦- دولة كولومبيا

٧- دولة بيرو

٨- دولة بوليفيا

٩- دولة باراجواي

١٠- دولة الأرجنتين

١١- دولة أوروغواي

١٢- هضبة البرازيل

١٣- نهر الامازون

١٤- دائرة عرض

"دائرة الاستواء"

١٥- دائرة عرض "مدار الجدي"

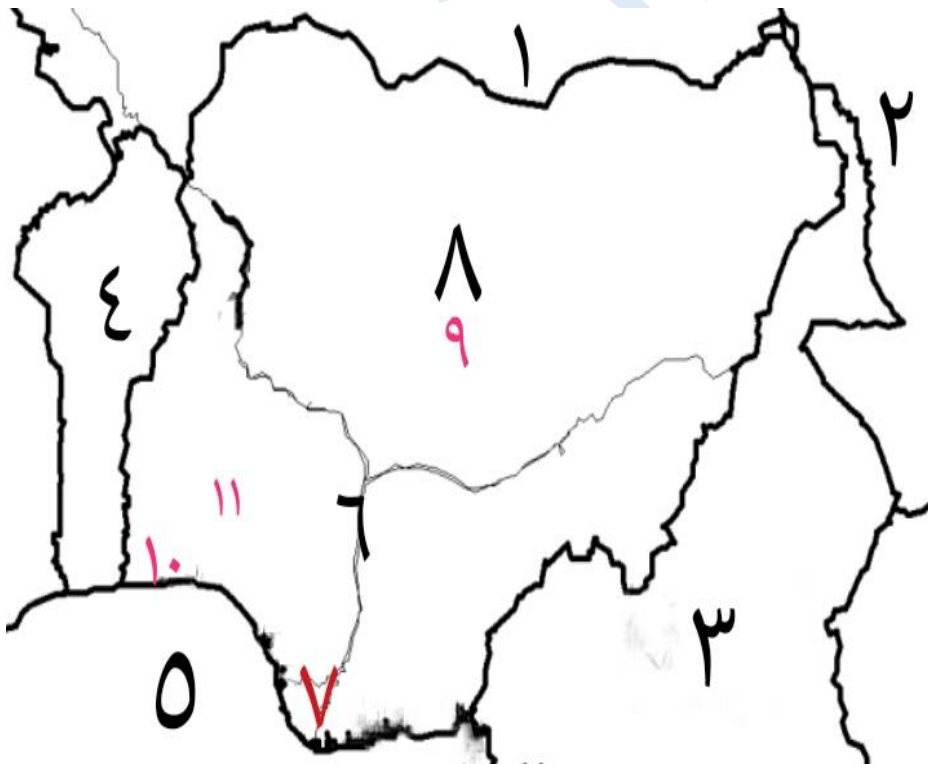
١٦- العاصمة الجديدة "برازيليا"

١٧- العاصمة القديمة "ريودي جانيرو"

١٨- أهم الموانئ "ساوباولو"

١٩- مدينة جديدة "ميناؤوس"

خريطة دولة جمهورية نيجيريا الاتحادية



١- دولة النيجر

٢- دولة تشاد

٣- دولة الكامبيرون

٤- دولة بنين

٥- خليج غينيا

٦- نهر النيجر

٧- دلتا نهر النيجر

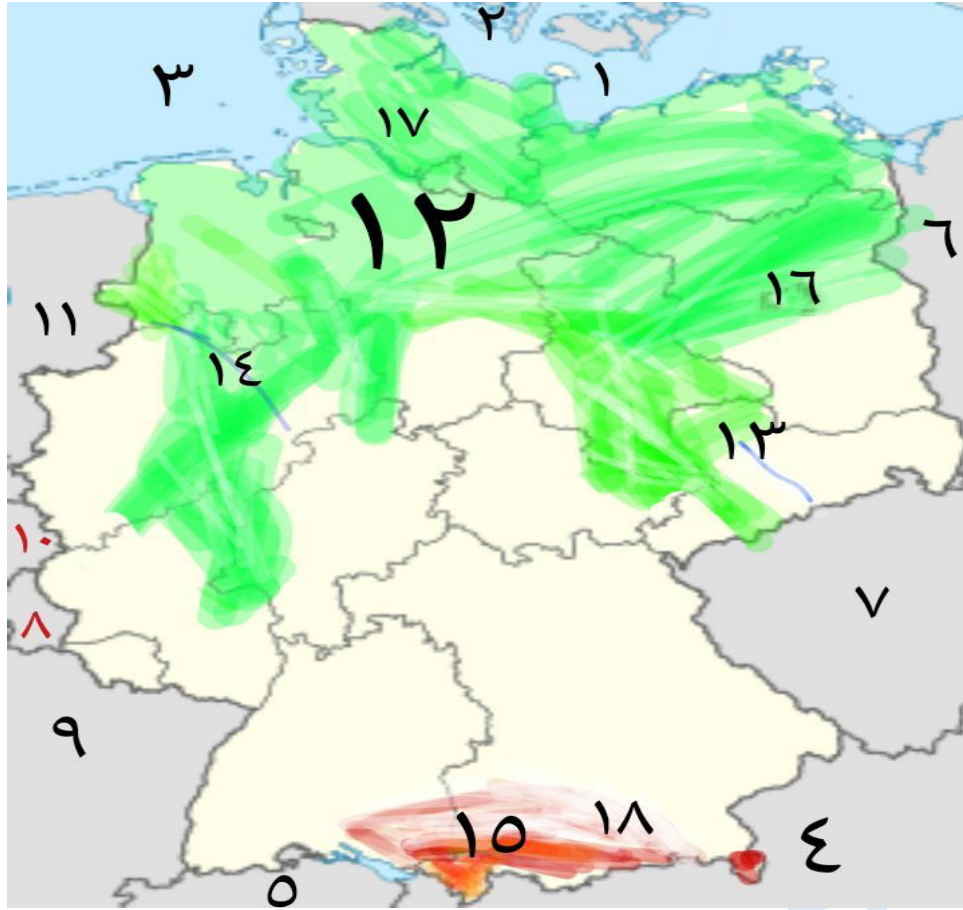
٨- هضبة جوس

٩- العاصمة الحالية "أبوجا"

١٠- أكبر المدن وأكثرها كثافة والعاصمة الاقتصادية "لاجوس"

١١- مركز للتجارة والتعليم والمواصلات "إيبادان"

خريطة دولة ألمانيا الاتحادية



١- البحر البلطي ٢- دولة الدنمارك

٣- بحر الشمال ٤- دولة النمسا

٥- دولة سويسرا ٦- دولة بولندا

٧- دولة التشيك ٨- دولة لوكسمبورج

٩- دولة فرنسا ١٠- دولة بلجيكا

١١- دولة هولندا ١٢- السهل الألماني الشمالي

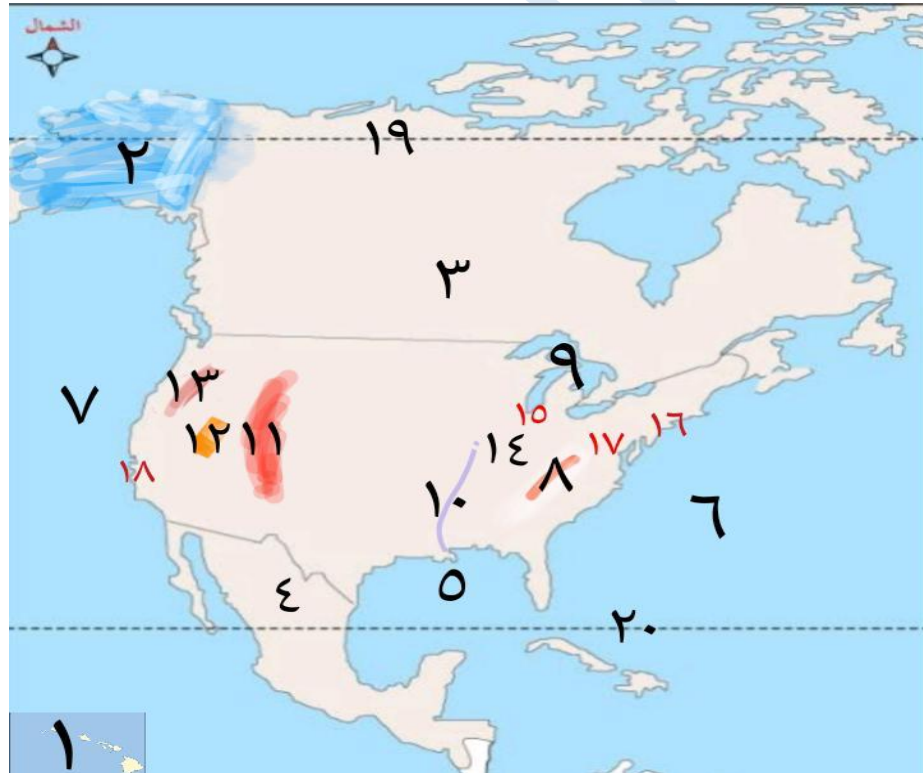
١٣- نهر إلب ١٤- نهر الراين

١٥- جبال الألب ١٦- العاصمة السياسية "برلين"

١٧- أهم الموانئ "هامبورج"

١٨- عاصمة إقليم بافاريا ومركز المصانع الألمانية "ميونيخ"

خريطة دولة الولايات المتحدة الأمريكية



١- ولاية هاواي ٢- ولاية الاسكا

٣- دولة كندا ٤- دولة المكسيك

٥- خليج المكسيك ٦- المحيط الأطلنطي

٧- المحيط الهادي ٨- جبال الأبلاتش

٩- البحيرات العظمى ١٠- نهر المسيسيبي

١١- جبال روكي ١٢- هضبة كلورادو

١٣- جبال كسكيد ١٤- السهول الوسطى

١٥- أكبر مدن السهول الوسطى "شيكاغو"

١٦- ميناء هام وبها مقر الأمم المتحدة "نيويورك"

١٧- العاصمة السياسية "واشنطن"

١٨- أكبر الموانئ على المحيط الهادي "سان فرانسيسكو" ١٩- الدائرة القطبية الشمالية ٢٠- مدار السرطان